

2015 年国家公务员录用考试

《行政职业能力测验》模拟试卷

(满分 100, 时间: 120 分钟)

第一部分 常识判断

(共 20 题, 参考时限 10 分钟)

根据题目要求, 在四个选项中选出一个最恰当的答案。

请开始答题:

1. 每年的 4 月 7 日是 (), 旨在引起世界各国人民对卫生、健康工作的关注, 提高人们对卫生领域的素质和认识, 强调健康对于劳动创造和幸福生活的重要性。
A. 世界卫生日 B. 世界环境日 C. 世界无车日 D. 世界城市日
2. 下列几个城市中渝新欧铁路未经过的城市是 ()。
A. 重庆 B. 西安 C. 兰州 D. 成都
3. 下列不属于公务员的是 ()。
A. 法官 B. 检察官 C. 公安局局长 D. 某公立医院院长
4. 与“山重水复疑无路, 柳暗花明又一村”体现相同哲理的是 ()。
A. 近水楼台先得月, 向阳花木易为春
B. 芳林新叶催陈叶, 流水前波让后波
C. 少小离家老大回, 乡音未改鬓毛衰
D. 星星之火, 可以燎原
5. 毛泽东提出“使马克思主义在中国具体化”科学命题的会议是 ()。
A. 瓦窑堡会议 B. 遵义会议 C. 中共六届六中全会 D. 中共六届七中全会
6. 纸币之所以能够产生和流通根本上是由于 ()。
A. 国家的强制力量
B. 货币执行流通手段时的特点: 必须是现实的货币, 但未必是足值的货币
C. 货币执行价值尺度时的特点: 可以只是观念上的货币
D. 纸币具有一定的含金量, 能兑换成金属货币

7. 邓小平多次指出，在改革中，我们必须始终坚持的两条根本原则是（ ）。
- A. 不断发展生产，增加社会财富
B. 扩大改革开放，增强综合国力
C. 实行按劳分配，改善人民生活
D. 坚持公有制为主体，实现共同富裕
8. 尽管电灯在发明后的一段时间里遇到了前所未有的阻力，大多数人都持观望态度而继续使用油灯。但是到了 19 世纪中后期，电灯还是最终战胜了油灯，成为欧美诸国主要的照明工具。电灯必然取代油灯的哲学依据是（ ）。
- A. 质量互变规律 B. 对立统一规律
C. 否定之否定规律 D. 内外因相互作用规律
9. 我国有着丰富的茶文化，品茶不仅有益身心健康，还能怡情养性。不同产地的茶风味迥异，下列名茶中产自江苏的是（ ）。
- A. 碧螺春 B. 龙井茶 C. 铁观音 D. 六安瓜片
10. 世界杯从 2014 年 6 月 12 日—2014 年 6 月 13 日在巴西境内举行，巴西世界杯期间，总共在巴西境内举办共计（ ）场比赛角逐出冠军。
- A. 60 B. 61 C. 63 D. 64
11. 下列有关生活常识的叙述正确的是（ ）。
- A. 使用无磷洗衣粉是因为磷易造成环境水体富营养化，破坏水质
B. 空调工作的时候有水流出来而冰箱没有，由此可判断常见的家用空调和电冰箱的制冷原理不同
C. 鸡蛋带壳在微波炉中加热比较好，这样受热更快更均匀
D. 液晶电视机与等离子电视机的成像原理相同
12. 古人把东、北、西、南四方每一方想 17. 下列说法中符合历史史实的是（ ）。
- A. 曹操的士兵在户外安营扎寨，正在啃玉米
B. 秦始皇桌子上摆着一盘葡萄
C. 汉武帝在冬日里吃烤地瓜
D. 武则天用纸练习书法
13. 象为四种动物形象，叫作四象。四象在中国传统文化中指青龙、白虎、朱雀、玄武，分别代表东西南北四个方向。它源于中国古代的（ ）。
- A. 图腾崇拜 B. 远古传说 C. 炼丹术 D. 星宿信仰

14. 文化景观这一概念是1992年12月在美国圣菲召开的联合国教科文组织世界遗产委员会第16届会议时提出并纳入《世界遗产名录》中的。文化景观代表《保护世界文化和自然遗产公约》第一条所表述的“自然与人类的共同作品”。在我国“世界遗产”中唯一的文化景观是()。
- A. 山西平遥古城 B. 庐山风景名胜区
C. 苏州古典园林 D. 敦煌莫高窟
15. 甲于1997年8月实施了故意杀人行为，于2004年7月被抓获归案。在1979年刑法和1997年刑法中故意杀人罪定罪处刑标准、法定刑完全相同。对本案()。
- A. 应适用1997年刑法
B. 应适用1979年刑法
C. 由审理本案的法院审判委员会决定适用1979年刑法还是1997年刑法
D. 报请最高人民法院裁定适用1979年刑法还是1997年刑法
16. 甲乙两地居民的恩格尔系数分别为30%和32%，这可能表明()。
- A. 从生活水平看，乙地居民略高于甲地居民
B. 从收入水平看，甲地居民略高于乙地居民
C. 从收入水平看，乙地居民略高于甲地居民
D. 从生活水平看，甲地居民略高于乙地居民
17. 对于实施西部大开发战略，叙述错误的是()。
- A. 是实现共同富裕、加强民族团结、保持社会稳定和边疆安全的战略举措
B. 是扩大国内有效需求、实现经济持续快速增长的重要途径
C. 是实现现代化建设第二步战略目标的客观需要
D. 是适应世界范围结构调整，提高我国国际竞争力的迫切要求
18. 以下属于单子叶植物的有()。
- A. 花生 B. 西瓜 C. 黄豆 D. 大米
19. 下列关于中国共产党党史上的会议表述错误的一项是()。
- A. 中共一大确立党的名称为中国共产党
B. 中共二大确立了党的最低纲领和最高纲领
C. 中共十二大提出建立社会主义市场经济体制的总目标
D. 十五大把邓小平理论确立为党的指导思想
20. 香港沦为英国殖民地的顺序的说法正确的是()。

A. 香港岛—新界—九龙司地方一区

B. 九龙司地方一区—新界—香港岛

C. 香港岛—九龙司地方一区—新界

D. 割占香港的顺序依次为《南京条约》—《展拓香港界址专条》—《北京条约》

第一部分结束，请继续做第二部分！

第二部分 言语理解与表达

(共 40 题，参考时限 35 分钟)

本部分包括表达与理解两方面的内容。请根据题目要求，在四个选项中选出一个最恰当的答案。

请开始答题：

21. 春风渐暖，温和地从脸颊拂过，在耳边轻轻歌唱。早晨的阳光暖暖的照着，到处都是_____。公路两旁的树木不时的隐去，消失在身后。路过仁兆镇驻地，穿过 214 省和 G20 国道，已经_____看到大沽河连绵曲折起伏的身影。近了，已有成排的法桐树屹立在公路两旁，象仪仗兵列队接受检阅。远处的河堤隐约可见，给平淡的心陡然增添一份惊喜。

填入划横线部分最恰当的一项是：

A. 春意盎然 隐约

B. 春意阑珊 清晰

C. 色彩斑斓 模糊

D. 郁郁葱葱 明显

22. 有些时候很_____，因为生活琐碎；有些时候很_____，因为思想压力；有些时候很_____，因为工作忙碌；有些时候很_____，因为遇事无助。薄凉岁月，总有是非；喧嚣世界，总有纷扰。无论你是谁，都选择不了命运，但是，我们可以选择生活的方式。烦了，累了，就停下来，寻一块心灵空地，种上阳光的种子，即使无助，也可沐浴阳光。

填入划横线部分最恰当的一项是：

A. 烦 累 倦 沉默 低沉

B. 倦 累 烦 沉默 低沉

C. 烦 倦 累 低沉 沉默

D. 倦 烦 累 低沉 沉默

23. 人多势必会带来一系列的问题和困扰，但只要你能静下心来，就不会被外界的表象所迷惑，再加上足够的_____，你还是可以等上属于自己的“幸福班车”。众所周知，马拉松比赛刚开始特别的挤，但其实能坚持到终点的只有很少的一部分。是“挤”让我认识

到秩序的重要，是“挤”让我知道了生存的不易，是“挤”让我明白中国要真正成为一个强国，我们仍然_____。

填入划横线部分最恰当的一项是：

- A. 信心 肩负重担 B. 恒心 山长水远
C. 决心 负重致远 D. 耐心 任重道远

24. 反对腐败、建设廉洁政治，是党一贯坚持的鲜明政治立场，是人民高度关注的重大政治问题。打铁还需自身硬。_____ 惩治腐败，坚决清除害群之马，这是我们党有力量的表现，也是全党同志和广大人民群众的共同_____。

填入划横线部分最恰当的一项是：

- A. 坚定不移 愿望 B. 矢志不渝 愿景
C. 坚贞不屈 期望 D. 坚持不懈 希望

25. 真实的历史是不容_____的，但时时受到挑衅。长期以来，日本国内总有一些势力矢口否认日本发动侵略战争的性质和罪行，竭力美化侵略战争，严重伤害中国人民的感情。面对日本右翼势力的_____，我们有必要采用更有力的行动。

填入划横线部分最恰当的一项是：

- A. 增添 横行霸道 B. 加减 为非作歹
C. 修饰 罪恶滔天 D. 篡改 倒行逆施

26. 虽然页岩气开发在法律上已经没有门槛，探矿权招标对民企开放，但因为页岩气田往往与传统油气田重合，所以资源继续被国企掌控，导致开采权的开放_____。这个问题应该通过整个能源领域的_____改革来深入解决，应进一步简政放权，让更有盈利、风险与创新意识的民营主体更多投入到页岩气的技术研发与开采中。

填入划横线部分最恰当的一项是：

- A. 名副其实 科技化 B. 名不副实 专业化
C. 有名无实 市场化 D. 名过其实 全球化

27. 作为发达国家新自由主义政策实践的_____，英美两国的经济也在世纪之交走向衰退。互联网虚拟经济泡沫破裂不久，美国_____走出了经济低谷，一度被视为新自由主义的最佳范例。然而，2008年金融危机的爆发，标志着美国新自由主义模式_____遭到致命性重创。

填入划横线部分最恰当的一项是：

- A. 始作俑者 似乎 再次 B. 开路先锋 确实 重复

C. 中流砥柱 似乎 再次 D. 重中之重 确实 重复

28. 毋庸讳言，一些地方，政府也在做影子推手。不符合环保要求的项目成为当地重点项目、财政工程，这种现象_____。地方环保部门无能为力，甚至还要在压力下替这些项目跑关系办手续。建设单位更是_____。

填入划横线部分最恰当的一项是：

A. 屡见不鲜 有恃无恐 B. 凤毛麟角 畏首畏尾
C. 司空见惯 恃强怙宠 D. 屈指可数 无所畏惧

29. 我们要谋求发展，就不能_____，不能做“保守派”。事实证明，不紧跟时代的发展，不适应形势的变化，就会_____，直至被淘汰。创新，重点在“创”，亮点在“新”，适时而及时的创造，就会迎来一个新的发展机遇。

填入划横线部分最恰当的一项是：

A. 循序渐进 受限 B. 固步自封 落后
C. 闭门造车 受限 D. 亦步亦趋 落后

30. 我国有 2.6 亿学生，又有高度重视子女教育的传统，每一项教育改革，牵涉面广，触动也大。尤其是面对不同群体的不同教育需求，教育改革措施很难做到_____，难免会伴随各种争议，甚至反对。当此之时，格外需要担当，符合实际的、认准了的事情，就要坚定不移地干下去，而不能瞻前顾后、_____。

填入划横线部分最恰当的一项是：

A. 面面俱到 望而生畏 B. 皆大欢喜 畏葸不前
C. 面面俱到 望而却步 D. 皆大欢喜 踌躇不安

31. 中山，一个鲜亮的名字，一个文化的汇聚区，一个改革的先行地，当前正以其创造性开展的“全民修身行动”，_____着文化发展的探索韧劲、_____着文明提升的骄人魅力。

填入划横线恰当的一项是：

A. 激发 散播 B. 鼓舞 释放
C. 激扬 散发 D. 激昂 绽放

32. 由中宣部、国家广电总局_____推荐的建国以来 50 部优秀影片集萃，《唐山大地震》位列其中。记者采访了影片导演冯小刚，他旗帜鲜明地说：“只有_____，中国电影才有未来。”

填入划横线恰当的一项是：

A. 挑选 推陈出新 B. 筛选 破旧立新

C. 甄选 格物致知 D. 选择 耳目一新

33. 纳博科夫觉得好小说并不在于作家自己所声称的社会意义,也并非日后社会对于该小说的意义评价,而仅仅在于作品本身:熟悉生活并且能够_____生活,用自己独特的文字功夫将独特的生活理解表达出来, _____、恰到好处并且色香味俱全——无论什么题材。

填入划横线恰当的一项是:

A. 观察 出神入化 B. 体味 深居简出
C. 洞察 深入浅出 D. 体察 深入显出

34. 胸怀家国,夙夜在公;心系苍黎,宵衣旰食,这样的不眠者令人_____。枕戈待旦,赤诚照彻边月;风餐露宿,热血浇铸长城,这样的不眠者让人_____。

填入划横线恰当的一项是:

A. 景仰 感激 B. 仰慕 感动
C. 敬佩 感谢 D. 崇拜 伤感

35. 连日来,青海、浙江、陕西、江苏等9个省区市抓获了500余名造谣者,其中包括400余名“全能神”邪教人员。光山县的校园惨案,警方表示犯罪分子也是受了“世界末日说”的_____;虽然公众对此将信将疑,但是“世界末日”似乎还是有人相信的,至少是不信装信,而且,“世界末日”不仅被犯罪分子充分利用,也已经被商业_____开发,有的地方,据说蜡烛都_____了,想起来多么可笑,如果所谓“世界末日”几根蜡烛也能解决,还有什么可怕的呢?

填入划横线恰当的一项是:

A. 迷惑 过分 售罄 B. 蛊惑 过度 脱销
C. 愚惑 充分 清仓 D. 诱惑 着重 哄抢

36. 国内观众都有这样的感觉,每当某部题材的电视剧火了,很快荧屏上全是同类题材的电视剧,从宫廷戏到家庭剧,从警匪戏到抗日剧,莫不如此。而一些电视剧制作方为了赶上某个题材的观剧热潮,难免仓促上马, _____, 电视剧的质量可想而知,结果就是观众很快产生了审美疲劳。

填入划横线处最恰当的是:

A. 鱼龙混杂 B. 参差不齐
C. 粗制滥造 D. 鱼目混珠

37. 面对复杂多变的经济运行态势,我们保持定力,不随波动频繁的市场起舞,不因_____

的声音变调，坚持不扩大财政赤字，既不放松也不收紧银根，即使货币市场出现短期波动，也沉着应对。

填入划横线最恰当的是：

- A. 众说纷纭
- B. 指指点点
- C. 变动不居
- D. 莫衷一是

38. 无论_____还是告别岳麓书院，那里一大批影响了中国历史进程的杰出人才群体总是_____，总是在你我的脑海涌现，并为我们提供了一个大大的惊叹号！

填入划横线处最恰当的是：

- A. 伫立 鱼贯而出
- B. 矗立 鱼贯而出
- C. 伫立 一涌而出
- D. 矗立 一涌而出

39. 大抵山水佳处，总是自然景物的美点发挥得最完美、最深刻的地方。孔夫子到了川上，就_____到了他的栖栖一代，猎官求仕之非；太史公游览了名山大川，然后才死心塌地，去发愤而著书。可知我们平时所感受不到的自然的威力，到了山高水长的风景聚处，就会得同_____一样，_____到我们的性灵上来。

填入划横线处最恰当的是：

- A. 觉醒 电闪雷鸣 照射
- B. 觉悟 电光石火 闪耀
- C. 顿悟 电光石火 照耀
- D. 意识 电闪雷鸣 激射

40. 在现代社会，技术的_____造就了人们对技术的盲目崇拜，以至于许多人没有察觉艺术生产正在出现一个_____：许多时候，技术植入艺术的真正原因其实是工业社会的艺术消费，而不是艺术演变的内在冲动。换言之，这时的技术无形中晋升为领跑者，艺术更像是技术发明力图开拓的市场。

填入划横线处最恰当的是：

- A. 纷繁芜杂 蜕变
- B. 更新换代 巨变
- C. 日新月异 颠倒
- D. 层出不穷 蜕变

41. 随着反腐逐渐进入深水区，各种贪腐行为会更加隐蔽，反腐败斗争的难度和阻力也会更大。然而，反腐败没有禁区，严惩腐败更是民心所向。继续打好这场攻坚战，“把权力关进制度的笼子”仍是根本思路。要建立和完善包括财产公示在内的一系列规范权力、约束权力的制度，唯有“以深化改革推进党风廉政建设和反腐败斗争”。打好了反腐“改革牌”，才能让廉洁清风与改革新风互相激荡，为中国未来的发展保驾护航。

这段文字主要介绍了：

- A. 反腐工作需要继续进行
- B. 现在各种贪腐行为越来越隐蔽
- C. 现在反腐斗争的难度和阻力也越来越大
- D. 财产公示势在必行

42. 经典古诗词为什么应保留在课本之中?从横向来看,正如鲁迅先生所说“越是民族的,越是世界的”。中国的诗词歌赋以及经典文言文,其韵律之美、意向之深独树一帜,不仅在亚洲的日韩等国,在欧美也有很强的影响力。经典古诗词已成为中国文化被世界广泛接受的一种代表符号。课本作为教育的载体,实在没有理由自缚手脚,弱化本民族文化特色。

作者意在说明:

- A. 课本应该保留极具民族文化特色的经典古诗词
- B. 经典古诗词的重要性
- C. 经典古诗词在世界范围内的深远影响
- D. 应该在中小学当中强化古诗词教育

43. 在互联网兴起的初期,匿名和虚拟是社交软件最大的特色之一。人们可以完全扮演一个虚拟角色,与不同地区、不同背景、不同身份的人任意交流,营造了一种“远在天边,却宛如眼前”的假象,这种新鲜感和刺激性也成为互联网发展初期的重要动力之一。但随着互联网对现实生活的影响日深,这种交流沟通方式的局限也逐渐显露出来:“朋友”都是过客,“关系”都是浮云,无法真正建立起持久而稳定的人际关系。

这段文字意在强调:

- A. 互联网中人际关系处理的复杂性
- B. 互联网对社会生活的影响深远
- C. 虚拟角色交流沟通方式的局限性
- D. 应该理性看待互联网的优缺点

44. 旨在扶持一些企业发展、为社会创造更大财富的扶持资金,成为一些官员和企业不法交易的筹码。从曝光的案件看,那些所谓的科技中介公司帮企业获得100万元的扶持资金,通常就获得这笔资金10%~20%不等的返利,但最终落入官员口袋的,通常只有4万~6万元,有时甚至更少。结果是,以国家大笔扶持资金的流失为代价。纳税人一分一角逐渐累积起来的资金,如“唐僧肉”一般,成为科技系统一些官员与企业私分纳税人血汗钱的盛宴。

这段话理解正确的是：

- A. 中介企业专门为企业获得扶持资金
 - B. 扶持资金的大头被中介和官员所获
 - C. 扶持资金的主要目的是扶持企业发展
 - D. 所有科技企业都能获得扶持资金
45. 法治的根本目标是保障权利，但假如法治本身得不到保障，法治也会被滥用，变成非法的法治。在一定程度上，非法的法治比没有法治更具有危害性，因为在没有法治的情况下，人们仍有可能去追求法治；而非法的法治则从根本上动摇人们对法治的信仰，使人们放弃对法治的追求。因此，任何法治改革都不能局限于法治本身，而应涉及更大范围的制度建设与变革。

这段话意在说明的是：

- A. 法治改革应在更广的范围内完善相关制度建设
 - B. 非法的法治会动摇人们对法治的信仰
 - C. 法治的目标是保障权利
 - D. 法治改革应确立人们对于法治的信仰
46. 抛弃私有观念，无私奉献自己的知识和经验的“传帮带”精神是新中国医学、科学事业迅速发展的重要精神和方法。在知识爆炸、分工细密的当代社会，共享信息，通力合作，避免“信息的封建割据”十分重要。但是当下的知识产权制度业已日益成为知识传播的障碍而不是保障。就比较熟悉的高校情况而言，学术作品本身不是学者创收的渠道，他们乐见的是学术作品被更多的人阅读和认可。今天的大学图书馆动辄要花费数以百万、千万计的经费来购买学术数据库的使用权，这令相当多的普通大学无法使用重要的学术资源。

文段想要陈述的重点是：

- A. 分享知识和经验是医学、科技迅速发展的重要精神和方法
 - B. 知识产权制度利用不慎会影响知识传播
 - C. 学术领域知识传播方式不合理
 - D. 知识产权制度和知识传播完全相违背
47. 事实上，城乡二元结构在我国由来已久，大部分乡镇在生产要素的禀赋上，很难与城市抗衡。如果单纯从乡镇出发，的确难以走出一条可持续之路。十八届三中全会提出，要推进城乡要素平等交换和公共资源均衡配置，这一思路正是从城乡一体化着眼。实现城

乡生产要素的双向流动，不仅能够吸引城市资本要素“上山下乡”，为乡镇产业注入新鲜血液，避免用土地换资金的“债务怪圈”继续存在，更能在乡镇一级引入市场竞争，倒逼乡镇政府建立起完善的预算管理体制。

这段文字主要介绍的是：

- A. 实现城乡生产要素的双向流动是解决城乡二元结构的问题的重要途径
 - B. 乡镇政府需要建立起完善的预算管理体制
 - C. 大力发展乡镇产业是发展乡镇经济的重要思路
 - D. 城乡一体化是大势所趋
48. 由政府主导的“强国家—弱社会”体制，一方面实现了市场经济下的经济繁荣，另一方面也出现越来越严重的结构性矛盾与问题，如：贫富两极分化，权力庇护网和自利化，社会创新能力弱化等。最典型的是，那些与政府部门密切有关的企业、单位、官员与利益集团，在培育市场化的过程中，利用本身与政府关系的特殊地位，有更多的获利机会，这种利益还随着时间推移而进一步固化与垄断化，于是形成结构性的“近水楼台效应”，由此而产生社会不公、腐败、各种矛盾与问题等。因此，近年来，社会不满情绪上升，群体事件层出不穷。正是在这种情况下，在上世纪90年代逐渐被边缘化的两种激进主义思潮——“新‘文革’思潮”与“西化自由主义”思潮，最近几年，在改革又陷入停滞的时期，又开始进入活跃期。

对这段话理解正确的是：

- A. “强国家—弱社会”体制弊大于利
 - B. 社会不满情绪源于政府主导的体制
 - C. 西方自由主义思潮一直处于活跃期
 - D. “强国家—弱社会”体制带来了一些社会问题
49. 郭美美事件终于吹散迷雾、浮现真相，但我们的思考却不能停顿。炫富的轻薄、无聊的炒作，尽管实际上与红十字会并无干连，何以让“躺枪者”陷入如此严重的信用危机？为什么虚构的故事、臆造的信息，漏洞百出却依然被很多人追捧和转发？固然，文明法治的社会，不会放过那些违法者，但回过头来想想，谣言之上生长出来的怀疑幻觉，偏见之下滋生的极端情绪，何尝不是在拷问：理性哪去了？冷静哪去了？

这段文字意在说明：

- A. 面对郭美美事件及类似事件，我们需要冷静和理性地对待
- B. 当前社会面临严重的信任危机

C. 文明法治的社会需要惩处那些违法者

D. 红十字会在郭美美事件中属于躺枪角色，应该为红十字会正名

50. 何以解忧，惟有改革。用改革理顺收费和服务的关系，服务型政府才能真正成为现实。只有加快简政放权改革，取消和减免行政事业性收费，才能遏制权力自身的收费“本能”，增强政府部门和工作人员的服务意识，促使政府职能由前置审批管理，更多转向后置监管和提供服务。去年全国两会通过的《国务院机构改革和职能转变方案》提出，要取消不合法不合理的行政事业性收费，降低收费标准，建立健全政府非税收入管理制度。从档案管理费的例子看，当前亟待提上日程的，是理顺和清理各类收费，减轻公众负担，倒逼相关部门产出优质高效的公共服务。

这段文字意在说明：

A. 当前亟需做的是理顺和清理各类收费，减轻公众负担

B. 应当取消档案管理费

C. 改革是解决当前所有问题的必由之路

D. 服务型政府必须遏制权力自身的收费本能

51. 应看到，改革行至今日，其难度、深度、广度，已远超以往。尤其是，在关键领域、关键部门、关键行业都或多或少“埋伏”着一批既得利益者，改革要触动他们的奶酪，难上加难。

其中“奶酪”的意思是：

A. 满足生活需求的食物

B. 利益诉求

C. 自我实现的价值

D. 最广大人民的根本利益

52. 捷克教育家夸美纽斯有句名言，“对于事实问题的健全的判断是一切德行的真正基础。”遗憾的是，在当下的现实中，许多时候事实还没搞清楚，就有了倾向性答案。君不见，从马航客机失事，到苹果手机定位，再到海南棉被捐赠，有人总是选择性相信，然后再以观点论证观点。至于真相如何，已经不再重要，重要的是观点的卓然不群，重要的是意见的抱团取暖，难怪有人发问：在雄辩“胜于”事实的时候，我们如何关心真相？而作家刀尔登在《中国好人》一书中，也忧心忡忡地写下了这样一段话：“道德下降的第一迹象，就是不关心事实，毕竟，辨别真相，是累人的事。”

这段文字主要说明：

- A. 很多时候人们不再关注真相
- B. 现实世界的道德沦丧
- C. 道德的滑坡使得现在人们很多时候不再关注事实
- D. 人们不关注真相是因为关注事情真相太累了

53. 不少城市公共基础设施建设与管理未能覆盖城乡接合部，那里最基本的水、电、路、绿化、排污等设施都未纳入市政管理，基本靠集体投入资金解决，难以满足日益增长的实有人口需求。让城乡接合部居民享受到真正意义上的现代城市文明，最迫切的就是建立一体化的市政公共基础设施和管理体制，加快构建城乡一体的社会保障体系，进一步扩大城乡住房、就业、医疗、养老等各类保障的覆盖范围。

这段话想要表达的是：

- A. 城乡结合部应该建立一体化的市政公共基础设施和管理体制
- B. 城乡结合部应该享受到现代文明
- C. 城乡结合部缺乏公共基础设施
- D. 应加快社会保障体系建设

54. 随着城镇化进程加快，小权力具备腐败大潜力，开启“苍蝇”变“老虎”的进化之门。比如在城市，土地出让置换、市政工程更新、人事关系调动等方面，街道“一把手”掌控的权力越来越多，资源越来越丰富；在农村，涉及征地补偿、惠农补贴、集体资产处置等领域，村官不再是“虾仔作大浪，成不了气候”。权力是否滋生腐败不在于它的大小，而在于贪欲的有无和掌控资源的多少。只要防腐神经一松懈，权力监督有死角，小权力也会孳生大腐败。受贿 2000 万的深圳沙井街道“一把手”刘少雄，贪占近 7000 万的北京延庆“村官”方淑民，瓜分价值 18 亿元安置房的 10 名温州“村官”……无不警示人们，如果小权力不关进笼子，后果同样很严重。

这段文字意在说明：

- A. 小权利也会孳生大腐败
- B. 小权利也需要被关进制度的笼子里
- C. 随着城镇化进程加快，小权利开启“苍蝇”变“老虎”的进化之门
- D. 近年来，越来越多的“村官”成为大贪巨腐

55. ①但是，作为一种社会资源，公众付出注意力的收益是什么呢？应该被忽略吗？
②为了能“上头条”“被围观”，不辞辛苦、频繁走秀者有之，不惜自虐、炫丑搞怪者有之，不择手段、恶意炒作者亦有之。

③一夜成名，旋即名利双收，为什么？答案就是明星掌握着一种稀缺的社会资源：公众注意力。

④“吸睛”的目的是为了“吸金”。在这个过程中，媒体提高了收视率、发行量和点击率，明星及其公司兑换了票房和广告收益，投资方和广告商也赚得盆满钵满，似乎是一个多赢的格局。

⑤如何牢牢抓住粉丝和消费者的注意力，让明星和经纪公司绞尽脑汁、大费周章。

将以上 6 句话重新排列，语序最连贯的一项是：

- A. ④①③②⑤
- B. ③⑤②④①
- C. ④③⑤②①
- D. ③④⑤①②

56. 在一个拥有 13 亿人口，数千万个企业法人单位的国度，社会信用体系的建设涉及的内容和数据以海量计，政府一家不可能“包打天下”。如果各地方、各部门、各行业之间欠缺沟通与协调，社会征信系统即便能够建立起来，也很难发挥出失信必惩的强力震慑效应。_____，让任何失信信息都不被疏漏、都必然受到严厉惩戒，社会失信行为才不会因为肆无忌惮而泛滥不止。

填入划横线最恰当的一句话是：

- A. 社会信用体系的建设不能只靠政府
- B. 社会信用体系的建设所需信息如此庞杂
- C. 惟有各部门协作、全社会共同参与，联合打破“信息孤岛”
- D. 社会信用体系的建设任重而道远

57. 近些年来，全国各地都有各种奇异建筑尤其是一些超标准的豪华政府大楼被曝光，被舆论普遍谴责。其实，一些领导干部偏爱在建筑上折腾，也是有着理论依据的，建筑的背后有着丰富的内涵。《权力与建筑》的作者迪耶·萨迪奇有言：“建筑与权力息息相关。”著名哲学家尼采也说过一句建筑与权力内在关联的名句：“在建筑中，人的自豪感、人对万有引力的胜利和追求权力的意志都呈现出看得见的形状。建筑是一种权力的雄辩术”。一些领导干部热衷于建造新大楼、新地标，有的造成了巨大的财富浪费，引起广大民众的不满。一些奇葩建筑，尽管被舆论广泛指责，却未见谁为此负责。

作者接下来要说的是：

- A. 建筑冲动被广泛指责

- B. 建筑与权力息息相关
- C. 建筑与权力内在关联，体现当权者的丰功伟绩
- D. 如何遏制领导干部的建筑冲动
58. 诚信社会里，人人都是受益者；一个不诚信的社会，谁人也无法独善其身。由此而言，_____。比如，建立联合激励和惩戒制度，健全严重失信黑名单和行业禁入制度，需要法院、食品药品安全、环境保护、安全生产、税收征缴等多个部门联合执法；建立信用信息公开和共享制度，政府要牵头，各行业也要积极参与信用信息互联互通和交换共享；而加快建立诚信宣传教育制度，则需要中央文明委有更多担当，更需要全民付出共同努力。

填入划横线部分最恰当的一项是：

- A. 社会信用体系的建设只能靠政府
- B. 社会信用体系的建设涉及的内容和数据以海量计
- C. 构建信用体系，各个地方、各个部门、各个行业都担负着直接义务
- D. 诚信社会里，人人都是受益者
59. ①正如习总书记所言，“人民对美好生活的向往，就是我们的奋斗目标”
- ②他们随着中国经济大潮的起落，往返于城乡之间，却苦于在城市无枝可依，耗尽力气后只能重回故园
- ③此次户籍改革既是党的十八大和十八届三中全会的要求
- ④在我国改革开放进程中，有人曾经把农民工比喻为“风中的无脚鸟”
- ⑤通过此项改革，有望实现以他们为主体的城镇化，以及他们自身的市民化
- ⑥也凸显出给“无脚鸟”在城市中搭巢筑穴的制度关怀，必将点亮亿万人的梦想

将以上 6 句话重新排列，语序最连贯的一项是：

- A. ④②⑤①③⑥
- B. ①③⑥④②⑤
- C. ⑤④①②③⑥
- D. ①④②⑥⑤③
60. 科技官员的贪腐，主要通过以下手段进行：一是企业和官员直接或间接的利益勾兑。企业相关负责人直接（或间接）找到负责科技申报的官员，官员教对方如何虚报并在审批时给予“关照”，企业获得政府补贴后，以一定的比例返给官员。二是通过科技中介公司“拉皮条”，官员利用审批权等给予审批通过，受益后的企业返利给中介公司，中介

公司从中取部分回馈官员。三是官员以家属的名义和他人合伙成立科技咨询公司，官员不需出资即获得干股，其运作模式，也是通过该公司帮企业获得各类科技扶持资金，进而享受企业给予的“馈赠”。

对这段话理解不正确的是：

- A. 部分政府工作人员通过教企业虚报技巧获得利益
- B. 官员可以从中介返利中获得好处
- C. 有的官员“入股”咨询公司获得利益
- D. 科技官员容易腐败贪腐

第二部分结束，请继续做第三部分！

第三部分 数量关系

(共 15 题，参考时限 15 分钟)

在这部分试题中，每道题呈现一段表述数字关系的文字，要求你迅速、准确地计算出答案。

请开始答题：

61. 某部队进行打靶训练，每个人射击 4 次，击中一次的 1 分，未击中不得分，训练完成后总计的 140 分（最低得 1 分，最高得 4 分），得 1 分、2 分、3 分和 4 分的人数之比是 5:4:1:3，问该部队共有多少人参加这次打靶训练？（ ）
- A. 65
 - B. 70
 - C. 85
 - D. 102
62. 甲、乙两地有轮渡船，但由于人数有限，所以每周只在一、三、五、七各发一班，已知某年 2 月的最后一天是星期三，问当年甲、乙两地的最后一班轮渡是星期几？（ ）
- A. 星期一
 - B. 星期三
 - C. 星期日
 - D. 星期五
63. 箱子里有水果糖和奶糖若干，小明到箱子里随意摸出两颗来吃，问小明至少要摸多少次才能保证有 4 次摸到的两块糖的组合是相同的（ ）
- A. 11
 - B. 10
 - C. 12
 - D. 13
64. 某抗洪部队要将某小区的水抽干，但是现有机器速度太慢，需要增加几台高性能抽水机

- A. 30 万
B. 32 万
C. 34 万
D. 36 万
69. 现有一工程队修一条路，因工期将近，临时决定增加修路工人。若给该工程队增加若干人 15 天可修完，再增加同样多的人 12 天可修完，问第三次加入同样多的工人，多长时间可以修完路？（ ）
- A. 7
B. 8
C. 9
D. 10
70. 在一块闲置的正方形院子里等距离的种了若干棵白菜，收白菜的时候从最外圈往里收，已知现在正好收了两圈，共 128 颗。问还剩下多少棵白菜没收？（ ）
- A. 400
B. 324
C. 256
D. 196
71. 小张上山去放牛，不小心丢了一头公牛，剩下的牛中公牛和母牛的头数比是 5:7，过了一会丢了的公牛回来了，但是又跑了一只母牛，此时剩下的牛中公牛和母牛的头数之比是 7:9，则原来牛群里共有多少头牛？（ ）
- A. 37
B. 49
C. 65
D. 76
72. 小张家住在 16 层，有一天电梯坏了，于是他要徒步上楼，用了 45 秒的时间一口气匀速爬到了 4 层，再往上爬的时候小张每爬 2 层就要多休息 20 秒钟，那么他爬到 16 层需要多少秒？（ ）
- A. 405
B. 475
C. 525
D. 590
73. 某个单位要准备从本周 5 个工作日中选择两天进行员工培训，让员工自行决定哪两天培训，每个都要投票，且只能投两天，那么该单位至少有多少员工，才能保证至少有 10 名员工投的是同样的两天？（ ）
- A. 46
B. 56
C. 74
D. 91
74. 某个月中有三个周四所在的日期是质数，那么这个月的 20 号是周几？（ ）
- A. 周二
B. 周四
C. 周六
D. 周日
75. 有一批建筑材料，按照期望将加价幅度定为 100% 出售，但却无人购买，于是店主决定

将加价幅度降低 62 个百分点再次出售，结果售出了 40%，为了尽快完成资金的周转，店主决定再次降价，最终售出了所有的建筑材料。结果实际获得的总利润是期望利润的 30.2%，那么第二次降价后的价格是最初定价的百分之多少？（ ）

- A. 56
- B. 62.5
- C. 67.5
- D. 72.5

第三部分结束，请继续做第四部分！

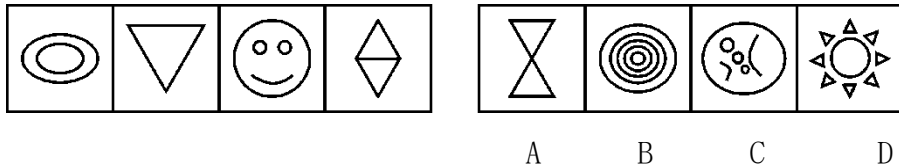
第四部分 判断推理

（共 40 题，参考时限 40 分钟）

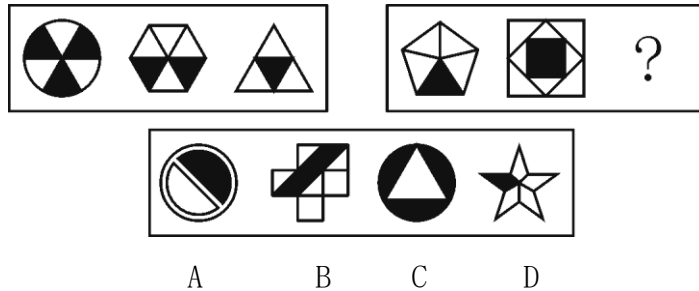
一、图形推理。请按每道题的答题要求作答。

请开始作答：


76. 从所给的四个选项中，选择最符合左侧图形规律的一项：



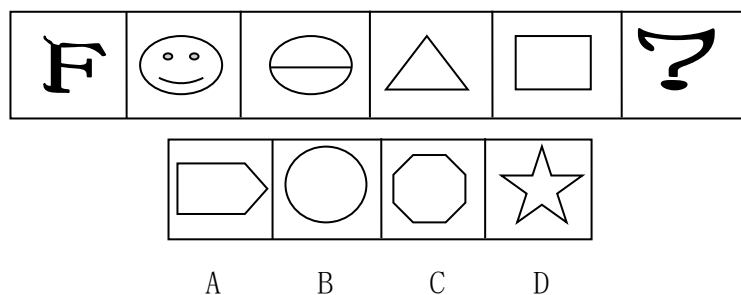
77. 从所给的四个选项中，选择最合适的一个填入问号处，使之呈现一定的规律性：



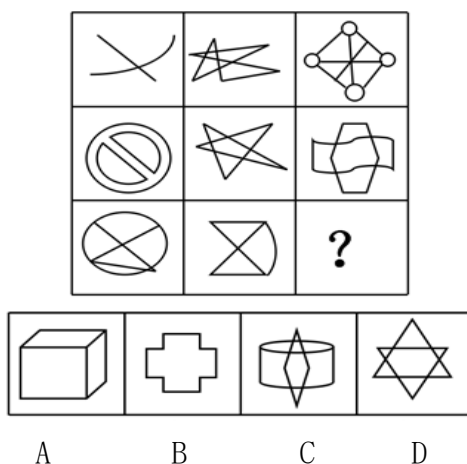
78. 从所给的四个选项中，选择最合适的一个填入问号处，使之呈现一定的规律性：



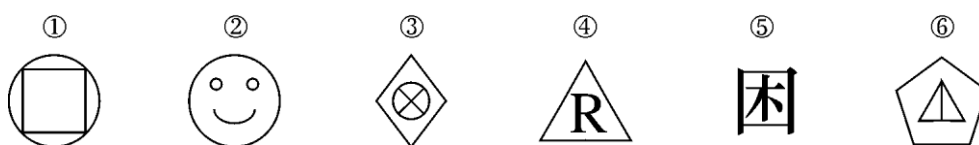
79. 从所给的四个选项中，选择最合适的一个填入问号处，使之呈现一定的规律性：



80. 从所给的四个选项中，选择最合适的一个填入问号处，使之呈现一定的规律性。

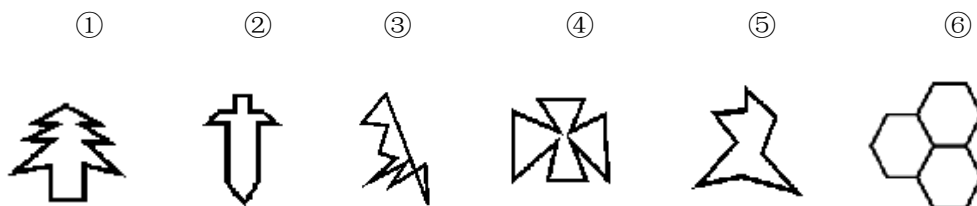


81. 把下面的六个图形分为两类，使每一类图形都有各自的共同特征或规律，分类正确的一项是（ ）。



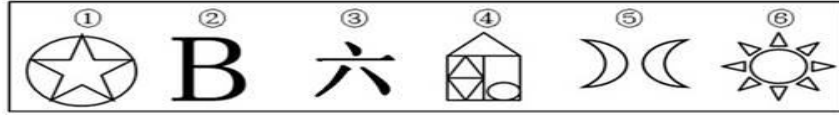
- A. ①②③, ④⑤⑥ B. ①③④, ②⑤⑥
C. ①③⑤, ②④⑥ D. ①⑤⑥, ②③④

82. 把下面的六个图形分为两类，使每一类图形都有各自的共同特征或规律，分类正确的一项是（ ）



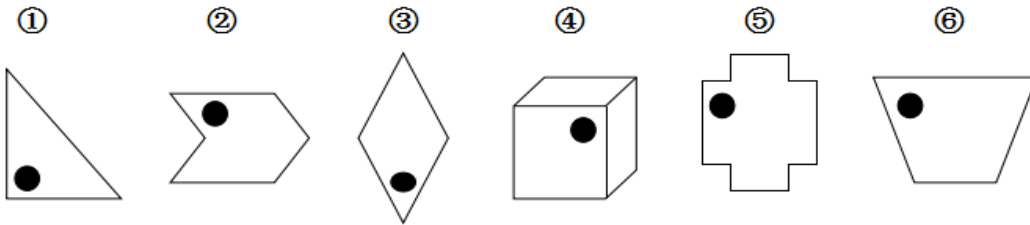
- A. ①③④, ②⑤⑥ B. ①②④, ③⑤⑥
 C. ②③④, ①⑤⑥ D. ①②⑥, ③④⑤

83. 把下面的六个图形分为两类, 使每一类图形都有各自的共同特征或规律, 分类正确的一项是 ()



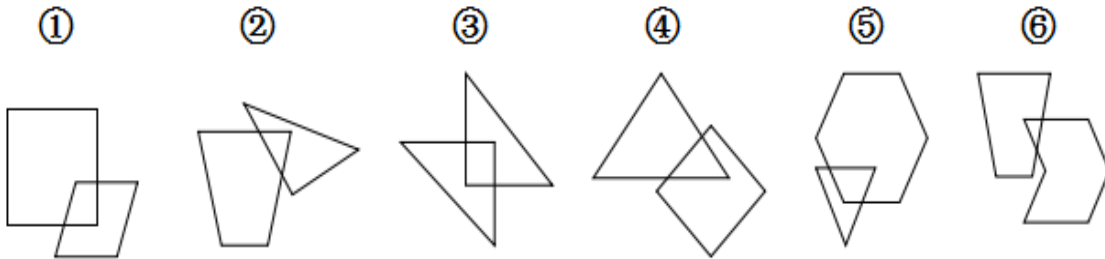
- A. ①②③, ④⑤⑥ B. ①⑤⑥, ②③④
 C. ①②④, ③⑤⑥ D. ①④⑥, ②③⑤

84. 把下面的六个图形分为两类, 使每一类图形都有各自的共同特征或规律, 分类正确的一项是 ()。



- A. ①③⑥, ②④⑤ B. ①②⑤, ③④⑥
 C. ①③④, ②⑤⑥ D. ①④⑤, ②③⑥

85. 把下面的六个图形分为两类, 使每一类图形都有各自的共同特征或规律, 分类正确的一项是 ()。



- A. ①②⑥, ③④⑤ B. ①②③, ④⑤⑥
 C. ①④⑤, ②③⑥ D. ①③⑤, ②④⑥

二、定义判断。每道题先给出定义, 然后列出四种情况, 要求你严格依据定义, 从中选出一个最符合或最不符合该定义的答案。注意: 假设这个定义是正确的, 不容置疑的。

请开始答题:

86. 国家责任，也称国家的国际责任，是指一国因违反国际法，侵害他国或国际社会的合法权益，从而构成国际不法行为而必须承担的法律义务。引起国际责任的国际不法行为，首先是指国家的政府或政府授权的个人所作的行为，其次也包括在政府纵容下，未经授权的个人所作的行为，以及政府对于私人行为予以放纵的不作为。根据上述定义，下列情况不属于引起国际责任的国际不法行为的是（ ）。
- A. 某国政府允许本国公民在他国从事贩卖毒品活动
 - B. 某国不顾国际社会的谴责，继续进行核试验
 - C. 某国一些公民在边境附近对其邻国进行掠夺，为此，某国政府发布了对这些人的通缉
 - D. 某国边境居民为了生存，经常在境外进行非法交易，该国政府对此置之不理
87. 回忆是指过去的事物不在面前，人们在头脑中把它重新呈现出来的过程。根据回忆是否有预定的目的、任务，可以把回忆分为有意回忆和无意回忆。无意回忆是没有预定目的，自然而然地想起某些经验。有意回忆是有回忆任务、自觉追忆以往经验的回忆。根据上述定义，下列有意回忆的是：（ ）
- A. 小王在学习的时候碰到了一个难题，她记得之前好像做过类似的问题，于是回想了一下，终于想到了那个时候的解题方法并加以应用解决了难题
 - B. 小张跟朋友去美食节，看到路上的小吃，突然想起了妈妈做的糕点，觉得很美味，突然就很想回家
 - C. 小李在看电影的时候觉得有个镜头很熟悉，想起了自己小时候曾经到过电影中的地方
 - D. 小刘和同事出去过圣诞节，看着大家很开心的样子，他想起了过去和妻子一起过圣诞节时的场景
88. 环境标准：是指国家根据人体健康、生态平衡、社会经济发展对环境结构、状态的要求，在综合考虑本国自然环境特征、科技水平和经济条件的基础上，对环境要素间的配比、布局和各环境要素的组成及进行环保工作的某些技术要求加以限定的规范。根据以上定义，下列不属于环境标准的是（ ）
- A. 国家关于严禁使用大排气量轿车的规定
 - B. 国家关于评定卫生城市的标准细则
 - C. 政府有关部门为整治文化市场秩序而出台的严厉打击“黄、赌、毒”的规定
 - D. 某市环保部门对该市冶金机械厂区设备烟尘排放量作检测后，责令其限期治理的依据

89. 连作，也说连种、连茬或重茬，是指在一块田地里连续栽种一种作物。根据定义，下列属于连作的是（ ）
- A. 张某见邻居钱某去年种植的花生产量很高，于是今年把自家田地全种上了花生
 - B. 孙某去年在田地栽种了水稻，由于干旱，颗粒无收，于是今年孙某将其种上了耐干旱的红薯
 - C. 周某去年在自家后院农田里种植的玫瑰长势很好，但却被一场台风摧毁了，于是周某今年又重新在后院农田栽种了玫瑰
 - D. 为了积攒棉花，农民陈某连续三年将自己所有的田地都种了棉花
90. 纳什均衡，是指在一个博弈过程中，无论对方的策略选择如何，当事人一方都会选择某个确定的策略，则该策略被称作支配性策略。如果两个博弈的当事人的策略组合分别构成各自的支配性策略，那么这个组合就又被定义为非合作性均衡。双方在已知对方策略的情况下，认为自己现有的策略是最好的策略。根据上述定义，下列选项不属于纳什均衡的是（ ）。
- A. A国两大移动运营商组成卡特尔，对各自的价格进行限制，获取高额垄断利润
 - B. 两国希望用增加军备竞赛来达成削减武器协议，两国最终往往会倾向增加军备
 - C. 当一国因某些因素不遵守关税协定，而独自提高关税时，另一国也会作出同样反应
 - D. B企业没有管制会大量排污，若只自己投资治理污染，则竞争力会减弱
91. 产业国际化是指产业的研究与开发的国际合作与交流，产业国际化就是根据比较利益原则，在全球范围内通过生产要素的流动进行国际分工。根据上述定义，下列选项不属于产业国际化的是（ ）。
- A. 甲国企业利用B国大量廉价的劳动力为其代工组装产品
 - B. 乙国高端装备制造业在国外投资建厂，设立生产示范园区
 - C. 丙国公司在境外收购同类企业，建立海外营销网络体系
 - D. 丁国花巨资赴海外科技型产业园区参观学习，以提高企业的国际竞争力
92. 冲击式劝导：是指针对某些特定的公众或公众群体的，具有很强的针对性，是有的放矢式的劝导。它最终是要明确地转变和化解及巩固公众已经形成的看法和意见，是由鲜明的意图支配的，具有很强的目的性。根据上述定义，下列选项属于冲击式劝导的是（ ）。
- A. 某公司进入新的市场领域，在电视台黄金时段作广告宣传，专门宣传一类重点产品
 - B. A国政治家说：“你要一个持续四年的通货膨胀，还是要一个新的开端”

- C. 某选秀节目专门制作一期救灾专题，选手通过各种活动为其拉票，让支持者看见选手的另一面
- D. 某图书公司战略会议中，大多数认为应该开发少儿项目，钟某例举很多惨败案例后很多人不再支持开发
93. 保龄球效应，是行为科学中的一个重要效应，指的是鼓励比指责更能促进办事的效率或者更能使人发挥潜能。以下除了哪项都哪项涉及到了保龄球效应？
- A. 美国钢铁大王安德鲁·卡耐基选拔的第一任总裁查尔斯·史考伯说，“我认为，我那能够使员工鼓舞起来的能力，是我所拥有的最大资产。而使一个人发挥最大能力的方法，是赞赏和鼓励，再也没有比上司的批评更能抹杀一个人的雄心。”
- B. 史考伯说：“我在世界各地见到许多大人物，还没有发现任何人——不论他多么伟大，地位多么崇高——不是在被赞许的情况下，比在被批评的情况下工作成绩更佳、更卖力气的。
- C. 新员工在工作中出现差错的时候，组长总是先肯定下属积极的工作态度，然后再与下属一起找出产生失误与过错的原因，引导其总结经验教训，这样不仅会使下属心悦诚服地接受批评，而且有助于下属坚定战胜困难的信心和决心。
- D. 篮球比赛时，甲组队员一直不能进球，赛后教练严厉批评了队员，在下次比赛时队员加紧练习，最终取得了比赛的胜利。
94. 妄想是一种在病理基础上产生的歪曲的信念，病态的推理和判断。它虽不符合患者所受的教育程度，但病人对此坚信不疑，无法说服，也不能以亲身体验和经历加以纠正。根据上述定义，下列哪项不涉及妄想？（ ）
- A. 小张回家后见妻子逗小孩玩，边滚动煮熟的鸡蛋，边说：“滚蛋，滚蛋”，小张听后内心不悦
- B. 老赵认为报纸上的内容是在映射他和他的家人，因而气愤的将报纸仍在一边
- C. 老王欠了很多高利贷，天天不敢回家，生怕被讨债的人碰到
- D. 小李一直认为世界上有鬼魂的存在，所以一到晚上便不敢出门
95. 价值链截取战略：第四种竞争战略，是指企业在任何时期，都始终选择行业中最有价值的经营环节，并持续创造价值作为竞争手段，以此来实现企业各个时期的发展或战略目标。根据上述定义，下列哪项属于价值链截取战略？（ ）
- A. 某服装公司在原有实体店的基础上，开辟了网络销售渠道

- B. 某电器公司出售了生产线，开始专注自有品牌的研发、设计
- C. 某大型超市开始出售自制品牌面包
- D. 某企业刚刚引进了多台大型仪器，以提高工作效率

三、类比推理。每道题先给出一组相关的词，要求你在备选答案中找出一组与之在逻辑关系上最为贴近、相似或匹配的词。

请开始答题：

96. 落井下石：雪上加霜（ ）
- A. 巧夺天工：鬼斧神工
 - B. 简单：杂乱
 - C. 安居乐业：颠沛流离
 - D. 吸收：放弃
97. 组装：拆分（ ）
- A. 订婚：结婚
 - B. 订货：收货
 - C. 上课：放学
 - D. 还钱：借钱
98. 芭蕾：咖啡
- A. 京剧：豆汁
 - B. 相声：瓜子
 - C. 功夫：饺子
 - D. 球赛：啤酒
99. 电：磁
- A. 水：火
 - B. 阴：阳
 - C. 胜：负
 - D. 上：下
100. 死灰复燃：东山再起
- A. 无微不至：无所不至
 - C. 处心积虑：呕心沥血
 - B. 鬼斧神工：巧夺天工
 - D. 洗心革面：脱胎换骨
101. 传统雕塑：城市雕塑：树脂
- A. 中国画：黑白版画：毛笔
 - C. 软翅风筝：天津风筝：马拉纸
 - B. 瑞丽手镯：硬玉手镯：翡翠
 - D. 篆刻印章：阳文印章：黄金
102. 嗟来之食对于（ ）相当于曲高和寡对于（ ）
- A. 《礼记》 《大学》
 - C. 朱自清 音乐剧
 - B. 齐国 楚国
 - D. 残羹剩汁 下里巴人
103. 共产党：国民党
- A. 民主：专制
 - B. 聪明：机灵

- C. 企业家：MBA
D. 黑色：白色
104. 喷泉：地下水
A. 烤箱：小麦
B. 板块：火山
C. 雕刻：木板
D. 汽车：尾气
105. 争执：争议
A. 蔬菜：水果
B. 顽强：顽劣
C. 犹豫不决：果断
D. 真挚：真诚

四、逻辑判断。每道题给出一段陈述，这段陈述被假设是正确的，不容置疑的。要求你根据这段陈述，选择一个答案。

请开始答题：

106. 某公司董事会进行选举，选举结果或者吴总当选，或者是廖总当选。如果吴总当选，该公司将对产品质量实施改革；如果廖总当选，该公司将对服务实施改革。
- 根据陈研究员上述预测，可以得出以下哪项？
- A. 该公司对产品质量实施改革，或者对服务实施改革
B. 如果该公司对服务实施改革，那么廖总当选
C. 如果该公司将对产品质量实施改革，那么吴总当选
D. 该公司可能不会对产品质量实施改革，也不会对服务实施改革
107. 不只是人在年纪大了会难以集中注意力，就连蜜蜂也有类似的情况。年轻的蜜蜂在建筑蜂房的时候整齐牢固；年老蜜蜂建的蜂巢却比较粗糙。蜜蜂越老，筑造的蜂巢就越粗糙。科学家由此认为，随着时间的流逝，这种动物的大脑也会像人脑一样退化。
- 以下哪项如果为真，最能质疑科学家的上述论证？
- A. 运动器官的老化会导致年老蜜蜂筑巢能力下降
B. 蜜蜂的主要职责是采蜜，而不是筑造蜂巢
C. 漂亮的蜂巢更容易受到蜂后的青睐
D. 蜜蜂筑巢只是一种本能的行为，并不受大脑控制
108. 在某次针对大学生就业调查中，有 3 个职业选择的相关问题，要求毕业生每题选择某个职业的名称作为唯一答案。其中 6 位毕业生关于上述 3 个问题的答案依次如下：
- 第一位考生：国企、国企、公务员；
第二位考生：公务员、公务员、国企；

第三位考生：事业单位、事业单位、国企；

第四位考生：国企、公务员、事业单位；

第五位考生：公务员、事业单位、公务员；

第六位考生：事业单位、公务员、事业单位；

考试结果表明每位考生都至少答对其中 1 道题。

根据以上陈述，可知这 3 个问题的答案依次是：

A 事业单位、事业单位、国企

B 事业单位、公务员、公务员

C 国企、事业单位、国企

D 公务员、事业单位、国企

109. 某小区四个老人贾梓、古溪、茂蝶和齐易坐在一张方桌前(每边各坐一人)打麻将。4 人的退休前的职业各不相同，每个人的职业是大学老师、小学老师、初中老师或高中老师之中的一种。已知：贾梓是小学老师，他坐在古溪的左手边；茂蝶坐在大学老师的右手边；坐在古溪对面的齐易不是高中老师。

根据以上信息，可以得出以下哪项？

A. 齐易是大学老师，茂蝶是初中老师

B. 古溪是高中老师，齐易是初中老师

C. 茂蝶是高中老师，齐易是初中老师

D. 齐易是初中老师，茂蝶是大学老师

110. 一项调查研究显示：95%的大学毕业生填高考志愿均来自班主任的推荐。研究人员表示，班主任的推荐会增加考生报考志愿的盲目性。与自己独立选择志愿的人相比，听班主任推荐定志愿的考生盲目性更大。因此有人认为，班主任给学生推荐志愿是造成目前毕业生盲目填报大学生专业的重要原因。以下哪项如果为真，最能削弱上述论证？（）

A 调查还反映，自己独立选择志愿的人的比例正在逐年上升

B. 研究证明，班主任的推荐填志愿的考生录取率更高

C. 一项调查显示，目前毕业生盲目填报大学生专业的现象得到了有效地遏制

D. 大部分学生最后并没有采纳班主任的推荐

111. 某学校在一次体育课上练习游泳，老师课前叫大家都不要先下水，但是有的同学不听，趁老师不在偷偷下水，老师叫来几名同学来训话：

同学一说：“下水的如果不是穿绿色衣服，肯定就是穿蓝色衣服。”

同学二说：“如果穿紫色衣服没有下水，则穿红色衣服也没有下水。穿蓝色衣服也不会下水。”

同学三说：“下水的如果是穿绿色衣服，那么穿紫色衣服或穿红色衣服也会下水的。”

同学四说：“下水的肯定是穿绿色衣服，而穿紫色衣服与穿红色衣服都没有下水的。”

训话后得知，四位同学的说法中只有一个人说法是准确的。

据此，可以推出偷偷下水的同学穿的衣服颜色是（ ）。

- A. 绿色衣服 B. 紫色衣服 C. 红色衣服 D. 蓝色衣服

112. 纸张费用是图书公司最大的成本支出，三个出版公司的纸张费用成本均占总成本一半左右。近年来，随着纸张费用的不断上涨，图书公司的运营成本不断增加。对此，资深书商认为，尽管图书公司面对着巨额的纸张费用上涨压力，但不会上调出版书的零售价格。

以下最有力解释该资深书商观点的一项是（ ）。

- A. 许多图书公司更新设备，缩短了原材料转换纸张的工序
B. 政府出台新规，新书不得低于7折发货，比原来发货价大幅提高
C. 为了避免恶性竞争，几家大的出版公司结成了价格联盟
D. 由于受中国人获诺贝尔奖的冲击，出版行业前景一片光明

113. 如果你每天吃水果，就能补充足够的维生素。如果补充足够的维生素，就会身体健康。因此，如果你每天吃水果，就会身体健康。

下列哪项的推理结构和上述推理最为类似？

- A. 如果你热衷于买彩票，你就有挣意外财的愿望；如果你热衷于买彩票，你就不会认真工作。因此，如果你有挣意外财的愿望，那么就不会认真工作。
B. 只要你有兴趣特长，就会生活丰富多彩。如果你有兴趣特长，就不会工作倦怠。只要生活丰富多彩的人就不会工作倦怠。
C. 如果你有很多银行存款，购买能力就会强。如果你购买能力强，就会有大房子。因此，如果你有很多银行存款，生活就会很安逸。
D. 如果你喝咖啡，心率就会加快。如果你的心率加快，就会觉得兴奋。因此，如果你喝咖啡，就会觉得兴奋。

114. 在一次考古中，研究者发现了一些石器，同时在附近发现了一些已经成为化石的动物骨骼，上面有一些划痕，经考证痕迹不是牙印。当用石器磨划这些骨头时，所产生的划痕与动物骨骼上的划痕很类似。研究人员据此推测，早期时候人们就已经开始使用石器

来对付动物了。

以下哪项如果为真，最能反驳上述观点？

- A. 用沙子在骨骼上磨化所产生的划痕与化石上的划痕相似
- B. 有划痕的化石骨骼不如附近发现的有牙印的化石骨骼古老
- C. 石器附近的一些动物骨骼上面没有留下划痕
- D. 化石骨骼上的划痕不是很清晰

115. A 国的老式汽车排放的尾气严重污染了空气质量，A 国要求对老式汽车排放的尾气进行标准检查，不合格的车辆将禁止使用。因此，老式汽车对全球大气污染的危害在未来将会消失。

以下哪项如果为真，能够反驳上述论述？

- A. 即便老式汽车被停止使用，但汽车总数的增加会使空气污染更加严重。
- B. 通过技术不断升级改进，新车开旧后不会像以前的旧车那样造成严重的空气污染。
- C. 在一些繁荣的旧车市场上，A 国老式汽车经常被出口到没有尾气排放限制的国家。
- D. 在一些国家，针对汽车尾气的检查实施效果并不是很好。

第四部分结束，请继续做第五部分！

第五部分 资料分析

（共 20 题，参考时限 25 分钟）

所给出的图、表、文字或综合性资料均有若干个问题要你回答。信息进行分析、比较、计算和判断处理。

请开始答题：

一.根据所给资料，回答 101~105 题。

2014 年 1-6 月份，全国规模以上工业企业实现利润总额 28649.8 亿元，同比增长 11.4%，增速比 1-5 月份提高 1.6 个百分点；实现主营业务利润 26722 亿元，同比增长 10.8%，增速比 1-5 月份提高 1.7 个百分点。

2014 年 6 月份，规模以上工业企业实现利润总额 5880.8 亿元，同比增长 17.9%，增速比 5 月份提高 9 个百分点。

2014年1-6月份,在规模以上工业企业中,国有及国有控股企业实现利润总额7613.5亿元,同比增长5.6%;集体企业实现利润总额349亿元,增长1.5%;股份制企业实现利润总额16930.3亿元,增长10.8%;外商及港澳台商投资企业实现利润总额6917.6亿元,增长15.3%;私营企业实现利润总额9104.9亿元,增长13.5%。

2014年1-6月份,采矿业实现利润总额3400.5亿元,同比下降14.6%;制造业实现利润总额23010.8亿元,增长15.6%;电力.热力.燃气及水生产和供应业实现利润总额2238.5亿元,增长22.3%。

2014年1-6月份,在41个工业大类行业中,35个行业利润总额同比增长,1个行业持平,5个行业下降。主要行业利润增长情况:农副食品加工业利润总额同比增长4.8%,纺织业增长10%,石油加工.炼焦和核燃料加工业增长1.2倍,化学原料和化学制品制造业增长10.4%,非金属矿物制品业增长19.3%,黑色金属冶炼和压延加工业增长17.1%,有色金属冶炼和压延加工业增长6.1%,通用设备制造业增长13.5%,专用设备制造业增长3.8%,汽车制造业增长29.1%,电气机械和器材制造业增长25.3%,计算机.通信和其他电子设备制造业增长24.1%,电力.热力生产和供应业增长24.1%,煤炭开采和洗选业下降43.9%,石油和天然气开采业下降2.3%。

2014年1-6月份,规模以上工业企业实现主营业务收入514497.8亿元,同比增长8.6%;发生主营业务成本442139.8亿元,增长9%。

2014年6月末,规模以上工业企业应收账款99711.7亿元,同比增长12.7%;产成品存货35332.8亿元,增长12.6%。

2014年1-6月份,规模以上工业企业主营业务收入利润率为5.57%,每百元主营业务收入中的成本为85.94元,每百元资产实现的主营业务收入为121.5元,产成品存货周转天数为13.8天。

116. 2013年1-6月份,全国规模以上工业企业实现利润总额为多少? ()

- A. 22398 B. 25780 C. 28998 D. 32879

117. 2014年5月份,规模以上工业企业实现利润总额同比增速为 ()

- A. 8.9% B. 9.5% C. 20.7% D. 15.7%

118. 2014年1-6月份,在41个工业大类行业中哪一个行业的增长最快? ()

- A. 农副食品加工业利润总额
B. 黑色金属冶炼和压延加工业
C. 计算机.通信和其他电子设备制造业增长
D. 石油和天然气开采业

119. 2014年1-6月份,采矿业实现利润总额同比增长量约为多少? ()

A. -570 B. 570 C. 430 D. -430

120. 根据材料，以下哪个选项是错误的？（ ）

- A. 2014年1-6月份，在规模以上工业企业中，国有及国有控股企业实现利润总额较上年有所增长。
- B. 2014年6月末，规模以上工业企业应收账款比产成品存货同比增长速度快；
- C. 2014年1-6月份，规模以上工业企业实现主营业务收入同比增长比发生主营业务成本增长速度快。
- D. 2014年1-6月份，在41个工业大类行业中，35个行业利润总额同比增长，1个行业持平，5个行业下降。

二、根据所给资料，回答106~110题。

表1 2014年1-6月规模以上工业企业主要财务指标

分 组	主营业务收入		利润总额		主营活动利润	
	本月止	同比	本月止	同比	本月止	同比
	累计 (亿元)	增长 (%)	累计 (亿元)	增长 (%)	累计 (亿元)	增长 (%)
总计	514497.8	8.6	28649.8	11.4	26722.0	10.8
其中：采矿业	31289.3	-1.3	3400.5	-14.6	3322.9	-15.8
制造业	452957.6	9.5	23010.8	15.6	21601.2	15.5
电力、热力、燃气及水生产和供应业	30250.9	6.4	2238.5	22.3	1797.9	21.6
其中：国有控股企业	124747.6	3.7	7613.5	5.6	6226.6	2.3
其中：集体企业	5245.3	1.4	349.0	1.5	348.7	-2.8
股份制企业	311443.7	9.7	16930.3	10.8	15695.7	10.0
外商及港澳台商投资企业	121656.9	7.0	6917.6	15.3	6569.7	16.3
其中：私营企业	167848.0	11.7	9104.9	13.5	9108.2	13.2

注：经济类型分组之间存在交叉,合计大于规上工业总计。

表 2 2014 年 1-6 月规模以上工业企业经济效益指标

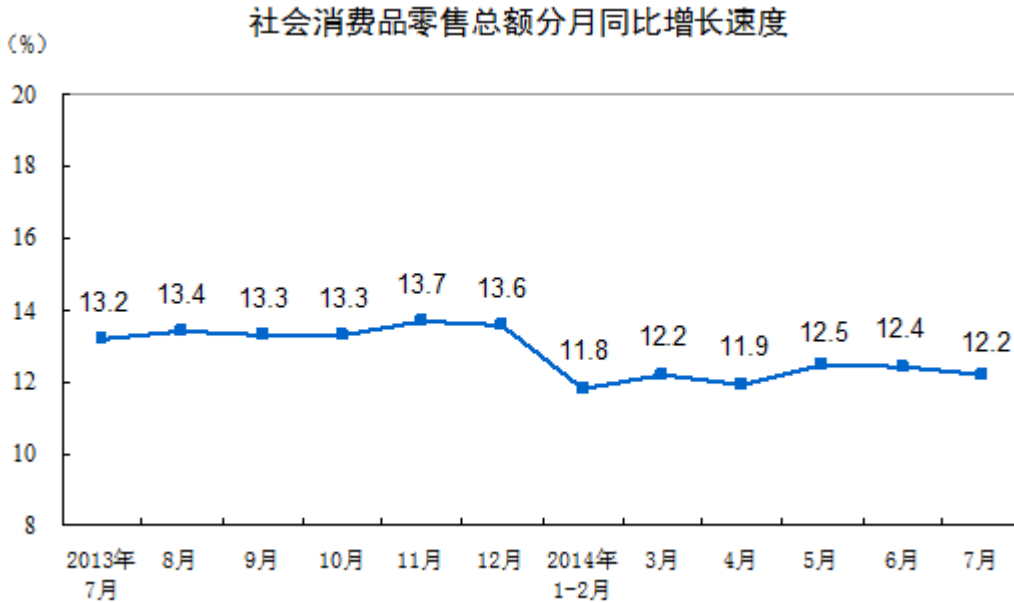
分 组	每百元资产 实现的主营 业务收入 (元)	主营业务收 入利润率 (%)	每百元主营 业务收入中 的成本 (元)	产成品存 货周转天 数 (天)
总计	121.5	5.57	85.94	13.8
其中：采矿业	72.0	10.87	76.56	12.1
制造业	140.8	5.08	86.48	14.8
电力.热力.燃气及水生产和供应业	52.1	7.40	87.55	0.5
其中：国有控股企业	74.2	6.10	82.59	15.1
其中：集体企业	175.5	6.65	86.24	10.7
股份制企业	121.0	5.44	85.99	14.9
外商及港澳台商投资企业	131.5	5.69	85.90	14.2
其中：私营企业	191.8	5.42	87.64	11.5

121. 2014 年 1-6 月规模以上工业企业经济效益指标中主营业务收入利润率最大的是那一个行业？（ ）
- A. 制造业 B. 采矿业 C. 电力.热力.燃气及水生产和供应业 D. 都不是
122. 2014 年 1-6 月规模以上工业企业主要财务指标中国有控股企业主营业务收入的同比增长了多少亿元？（ ）
- A. 4980 B. 4616 C. 3780 D. 5800
123. 2014 年 1-6 月规模以上工业企业主要财务指标外商及港澳台商投资企业利润率较上年有什么变化？（ ）
- A. 增大 B. 减少 C. 不变 D. 先增后减
124. 2014 年 1-6 月规模以上工业企业经济效益指标电力.热力.燃气及水生产和供应业利润较上年同比变化情况？（ ）
- A. 增大 B. 减少 C. 不变 D. 无法判断
125. 根据材料，以下哪个表述是错误的？（ ）
- A. 采矿业资产实现的主营业务收入为 121.5 元
- B. 制造业主营业务收入利润率为 5.57%

- C. 集体企业每百元主营业务收入中的成本为 86.24 元
- D. 私营企业产成品存货周转天数为 11.5 天

三、根据所给资料，回答 111~115 题。

2014 年 7 月份，社会消费品零售总额 20776 亿元，同比名义增长 12.2%（扣除价格因素实际增长 10.5%，以下除特殊说明外均为名义增长）。其中，限额以上单位消费品零售额 10360 亿元，增长 9.7%。1-7 月份，社会消费品零售总额 144974 亿元，同比增长 12.1%。其中，限额以上单位网上零售额¹¹2167 亿元，增长 55.2%。



按经营单位所在地分，7 月份，城镇消费品零售额 17959 亿元，同比增长 12.1%；乡村消费品零售额 2817 亿元，增长 13.2%。1-7 月份，城镇消费品零售额 125212 亿元，同比增长 12.0%；乡村消费品零售额 19763 亿元，增长 13.2%。

按消费形态分，7 月份，餐饮收入 2187 亿元，同比增长 9.4%；商品零售 18589 亿元，增长 12.6%。1-7 月份，餐饮收入 15176 亿元，同比增长 10.0%；商品零售 129799 亿元，增长 12.4%。

在商品零售中，7 月份，限额以上单位商品零售 9701 亿元，增长 10.3%。1-7 月份，限额以上单位商品零售 68002 亿元，增长 10.2%。

126. 2013 年 7 月份，城镇消费品零售额为多少亿元？（ ）

A. 16021 B. 19887 C. 8997 D. 26770

127. 2014年1-7月份,社会消费品零售总额增长速度最快的是哪一个月份? ()

A. 3月 B. 5月 C. 6月 D. 7月

128. 2013年第三季度,社会消费品零售总额增长速度变化趋势为? ()

A. 一直增长 B. 一直减少 C. 先增后减 D. 先减后增

129. 按消费形态分,2014年1-6月份,餐饮收入的同比增长率为? ()

A. <9.4% B. 9.4%-10%之间 C. 大于10% D. 20%

130. 在商品零售中,2014年7月份,限额以上单位商品零售增长了多少亿元? ()

A. 580 B. 678 C. 789 D. 881

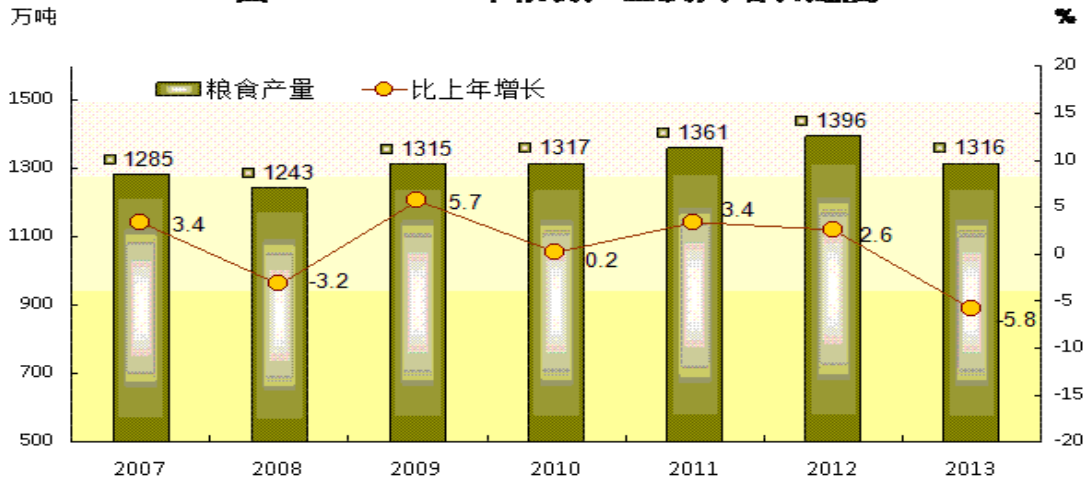
四、根据所给资料,回答116~120题。

2013年某省全年粮食作物播种面积2507.62千公顷,比上年减少1.3%;糖蔗种植面积152.85千公顷,增长5.0%;油料种植面积360.16千公顷,增长2.3%;蔬菜种植面积1306.93千公顷,增长6.3%。

全年粮食产量1315.90万吨,下降5.8%;糖蔗产量1358.77万吨,增长6.2%;油料产量101.01万吨,增长4.6%;蔬菜产量3144.47万吨,增长5.4%;水果产量1368.73万吨,增长7.0%;茶叶产量6.98万吨,增长10.6%。

全年肉类总产量435.22万吨,下降1.8%。其中,猪肉产量277.77万吨,增长0.5%;禽肉产量143.02万吨,下降6.8%。全年水产品产量815.37万吨,增长3.3%。其中,海水产品441.65万吨,增长2.1%;淡水产品373.72万吨,增长4.7%。

图3 2007-2013年粮食产量及其增长速度



131. 2012 年全省粮食作物播种面积为多少 () 万公顷
 A. 2540.6 B. 2475.3 C. 2523.2 D. 254.1
132. 2007 到 2013 年, 粮食产量同比增长率最大的年份, 其增长量为 () 万吨
 A. 80 B. 44 C. 72 D. -80
133. 2013 年猪肉产量占肉类总产量的比重比 2012 年约 ()
 A. 下降了 1.5 个百分点 B. 上升了 1.5 个百分点
 C. 下降了 0.8 个百分点 D. 上升了 0.8 个百分点
134. 2013 年水产品的总比增长量为 () 万吨
 A. 23 B. 26 C. 29 D. 32
135. 根据材料, 以下说法错误的是 ()
 A. 2013 年淡水产品相对于水产品总产量的比重上升了
 B. 2013 年各农作物产量同比增长率最低的为粮食
 C. 2007 到 2013 年间, 粮食产量同比增长率最高的年份增长量也最大
 D. 2013 年各农作物中播种面积最高的为油料作物