

考点遍历卷第4套



言语+判断+数量资料

邵爽+蔡金龙+刘有珍

考点遍历卷（四）

言语理解部分

1. 孩子们任意拔掉狗尾巴草那高高翘起的尾巴，笑嘻嘻地摘下灯笼草上那自我炫耀的灯笼，又在凌空悬挂的黄瓜上轻率地刻下伙伴的绰号，但所有的孩子在菜畦间割草的时候，却总是那么小心翼翼。

这段文字主要描述的是（ ）。

- A. 孩子们的顽皮 B. 孩子们的天真
C. 孩子们的轻率 D. 孩子们在田间割草的认真

2. 从目前销售情况来看，全球第一个季度可卖出 iPad 约 400 万台，接近同期笔记本电脑全球销量。美国分析师估算，iPad 上市以来已为苹果公司赚得数十亿美元进账，而由于 Windows 设备市场份额缩减，所以微软市值损失了 500 亿美元。更可怕的是，iPad 孤军奋战的日子就要过去，谷歌，三星，黑莓和微软等几乎所有 IT 巨鳄们，都排着队准备推出平板电脑。

这段文字要表达的主要意思是：（ ）

- A. iPad 已经成为苹果公司的重要利润源
B. 目前全球笔记本电脑销量仍高于 iPad
C. 平板电脑将对笔记本电脑构成重大威胁
D. 销量的背后体现科技之间的激烈竞争

3. 开发商要变成“猪坚强”，首先要有“猪坚强”那样随遇而安、顺势而为，降低生活标准求生的勇气。但遗憾的是，现在，开发商们只学习“猪坚强”最终获救的结果而忽略了那个最重要的生存过程。因此，开发商向“猪坚强”的学习，充其量只是一个皮毛，并未领会“猪坚强”适者生存的真正含义。

这段文字的主要意思是（ ）。

- A. 开发商已经变成了“猪坚强”
B. 开发商并没有真正向“猪坚强”学习
C. 开发商希望政府能够对他们施救
D. 政府不应该像开发商施救

4. 海水温度升高导致珊瑚白化，正威胁着澳大利亚的大堡礁；冰川不断退化，加重了中国长江水资源短缺的危险，从海龟到老虎，从奇华荒漠到亚马逊河，这些自然奇观都由于温度的升高而面临险境，虽然应对气候变暖的适应战略可以拯救部分自然奇观，但只有政府采取更严格的措施，减少温室气体的排放，才能使其免遭毁灭的厄运。

对这段文字概括最恰当的是：（ ）

- A. 减少温室气体的排放，才能使其免遭毁灭的厄运
- B. 全球变暖威胁着世界各国的自然奇观
- C. 政府对温室气体的排放必须采取严格措施
- D. 亟待制定气候变暖适应战略保护世界自然奇观

5. 从羊皮纸、竹简到纸张、活字印刷术的发明，从摩尔斯电码、二进制代码到影像的数字化，文化产品的载体越来越轻盈，精神产品的传播也越来越迅捷。特别是互联网的发明和应用，打破了文化内容传播的时空界限，让文字、视频、音乐可以在瞬间传到地球上的任何一个角落。同时，借助科技创新的种种新工具，人们可以以更快捷的速度，制作精彩纷呈的动漫游戏、数字影视、手机报纸、网络出版、有声读物等等，并由此创造出一个个全新的文化产业。

这段文字主要说明了（ ）。

- A. 文化的进步包含科技的发展和创新
- B. 科技创新使文化创新的潜力变得无穷
- C. 科技创新大大推进了文化创新的进程
- D. 科技创新为文化创新提供了工具和载体

6. 有一种看法，认为结构游戏只不过是幼儿拼拼凑凑、搬搬运运而已，无须教师过多的参与。其实，结构游戏如能进行得好，它不但能培养幼儿的搭配能力、空间想象能力、思维能力，而且能促进幼儿手、脑、眼协调一致的能力和培养幼儿对造型艺术的审美能力。但要使结构游戏发挥出如此的作用，教师不仅要参与，更要不失时机地示范、指导、点拨，否则，便不可能有这样的效果。

这段文字的主旨是（ ）

- A. 幼儿的健康发展离不开结构游戏
- B. 幼儿教师与幼儿能力的形成有很大关系
- C. 合格的幼儿教师应掌握结构游戏的教法
- D. 幼儿对造型艺术的审美能力有赖于结构游戏

7. 根据省政府节能减排工作有关要求，积极做好节能减排目标分解和督查工作，实行严格的目标责任制，将能耗与减排指标纳入各地经济社会发展综合评价和年度考核体系，作为各级政府领导班子任期内贯彻落实科学发展观的重要考核内容，作为企业负责人经营业绩的重要考核内容，实行节能减排工作问责制。同时，加大对民营企业节能减排工作考核和约束力度，对不能如期完成省、市节能减排目标任务的县和企业，不得参加年度的评先评优。

下列哪项最适合作为本段的关键词？（ ）。

- A. 考核体系
B. 目标责任制
C. 问责制
D. 目标分解
8. 减肥关键是减脂肪，但减肥时还要根据个人的情况具体对待，采用适合自己的方法，比如有的人腹部脂肪堆积严重，但是四肢并不胖，这时候需要的就是对体形进行塑造，而不是减轻体重。如果是全身性的肥胖，也要辨别是什么原因造成的，然后“对症下药”。多吃一些低热量的减肥食品，如萝卜、木耳、豆芽、西红柿等，适当进补、均衡营养，不但可维持体内能量的正常代谢，避免脂肪堆积而造成肥胖，还会让你远离体虚。
- 本段文字的主要内容是（ ）。
- A. 减肥要根据个人的情况，采用适合自己的方法
B. 减肥关键是减脂肪
C. 秋冬季节比春夏季节更适合抽脂减肥
D. 全身性肥胖的人，要注意多吃一些低热量的减肥食品
9. 经济学家以及政治哲学家之思想，其力量之大，往往出乎常人意料。事实上统治世界者，就只是这些思想而已。许多实行者自以为不受任何学理之影响，却往往当了某个已故经济学家之奴隶。狂人执政，自以为得天启示，实则其狂想之来，乃得子若干年以前的某个学人。我很确信，既得利益之势力，未免被人过分夸大，实在远不如思想之逐渐侵蚀力之大。
- 通过这段文字，作者想表达的主要观点是：（ ）
- A. 政治家是思想家的奴隶
B. 狂人执政受学理的影响较小
C. 既得利益的势力易被夸大
D. 思想的影响力非常大
10. 书中作家们的青少年时代还有一个共同点，他们的生活阅历丰富，而且都经历过坎坷和曲折，经受过生活的磨难。出身贫苦的是如此，譬如安徒生和高尔基，他们从小生活在社会的最底层，尝遍了生活辛酸苦辣的滋味。即便是贵族和有钱之家出身的也不例外，譬如泰戈尔和巴尔扎克，在封闭古板的环境中，他们被孤独和怅惘煎熬过，折磨过。生活的磨难，没有磨去他们对人生和世界的爱心，他们怀着满腔的爱观察生活、体验生活，并且把这种观察和体验倾注到笔端，形成了他们的作品。这些作家的作品，无不流露出对生命、对大自然、对生活的炽热的爱，这决不是偶然的现象。一个好作家，必须热爱生活，直面人生，并且应该是生活的强者。
- 这段文字主要强调的是（ ）。
- A. 一个好作家，必须生活阅历丰富且经历坎坷曲折
B. 出生贫苦和出身贵族的人都有可能成为作家

- C. 一个好的作家，必须热爱生活，勇于面对困难，成为生活的强者
D. 好作家的作品必须流露出对生命、对大自然以及对生活的爱
11. 在城市化的进程中，地铁等大型公共设施或建筑，常常承载着城市记忆的功能，是城市历史文化的一部分。城市中的大型公共建筑并非要紧跟潮流，也无需趋向同一化，而是要将建筑与城市的历史文脉、人文环境等相联系。在某种程度上，焕然一新已经成为主导性的城市美学追求，城市因而处于种种不必要的求新求变中，城市建筑特色模糊，有时沦为“换装比赛”的牺牲品，久而久之，使得城市的文化内涵始终难以形成和延续。
这段文字意在强调（ ）。
- A. 城市建筑缺乏整体设计会使城市失去人文特色
B. 城市的文化内涵无法形成和延续到了刻不容缓的境地
C. 城市建设的求新求变会导致城市的模式化
D. 历史和人文在城市建设中是不应忽略的重要元素
12. 征地最重要的是处理好以下问题：一是耕地的减少和确保农业发展和国家粮食安全的问题；二是对被征地农民的经济补偿问题；三是失地农民就业和社会保障的问题。征地问题的最终解决要依赖于征地制度本身的逐步改革。宪法规定土地所有权不许买卖，中国政府将继续实行世界上最严格的耕地保护制度。
这段文字的主要含义是（ ）。
- A. 中国征地制度本身尚未改革
B. 改革征地制度是解决征地问题的根本途径
C. 征用农民土地引出了一些矛盾
D. 中国有最严格的耕地保护制度
13. 有这样一种假说：冬眠是一种高度发达的机能。冬眠的哺乳动物虽然与人类一样都是温血动物，但是它们在更宽范围的调节性上获得了进化，例如在体温调节上，就要比非冬眠动物强。
这段文字主要介绍的是（ ）。
- A. 冬眠是动物的一种高度发达的机能
B. 冬眠的哺乳动物是温血动物
C. 冬眠动物在体温调节上比非冬眠动物强
D. 冬眠动物比人类的调节性更强
14. 若批评不自由，则赞美无意义。从某种意义上讲，赞美的可信度要靠批评的自由度来检验。如果我们处在一个不能自由表达批评意见的环境中，那么无论赞美的声音表达得多么充分，也不能让公众信以为真，因为最真实的评价总是在一个可以自由竞争的言论环境中产生的。

一旦缺失了这一保障赞美言论公信力的制度土壤，哪怕赞美真的是出自当事人的真情实感，效果也会大打折扣。

对这段文字的主旨概括最准确的是（ ）。

- A. 赞美与批评是矛盾的统一体
- B. 真实的赞美才能达到最好的效果
- C. 批评和赞美都需要自由的言论环境
- D. 能够自由表达批评才能有真实的赞美

15. 詹姆斯·乔伊斯的《尤利西斯》手稿在拍卖会上露面时，考虑到手稿并不完整，只是其中一个章节，拍卖行保守给出 60 万至 90 万美元的估价，最终成交价却高达 150 万美元。《尤利西斯》是爱尔兰的文学国宝，第一次公开出版却在巴黎，手稿也一直留在国外，几十年来爱尔兰人都以此为憾事。得到手稿拍卖的消息，爱尔兰国家图书馆便决定不惜代价把手稿买回都柏林，最终的高价，文学价值和民族感情各占一半。

这段文字主要说明：（ ）

- A. 爱尔兰人具有强烈的民族感情
- B. 文学手稿的价值有时难以估量
- C. 《尤利西斯》手稿为什么拍出高价
- D. 《尤利西斯》手稿深受爱尔兰人喜爱

16. 社会公正不是人们头脑中凭空产生的抽象概念，而是随着社会产生而产生，随着社会发展而发展的。在不同的历史条件下，人们对社会公正的认识是不同的。恩格斯曾精辟地指出：“希腊人和罗马人的公平认为奴隶制度是公平的。1789 年资产者的公平要求废除封建制度，因为据说它不公平——所以，关于永恒公平的观念不仅因时因地而异，甚至也因人而异。”

这段文字说明：（ ）

- A. 社会公正是具体的
- B. 社会公正是历史的
- C. 社会公正是相对的
- D. 社会公正是有阶级性的

17. 新中国成立以来，我国高等教育机制几经变动，但基本上是由政府统包统办和直接的行政管理。改革开放十几年来，高教体制改革迈出了重要步伐，取得了很大成绩。但从总体上看，仍然滞后于经济体制改革进程和社会发展。

这段文字意在说明（ ）。

- A. 我们应该加大高教体制改革的力度以适应经济和社会发展
- B. 高教体制改革取得了巨大的成绩

- C. 我国的高教体制改革落后于经济体制改革
D. 我国目前的高等教育机制仍然是政府统包统办
18. 一个善于思考、用心思考、有强烈创新欲望的人，哪里都是他产生创新火花和灵感的风水宝地。从某种意义上说，无论创作、创新还是创造，都永远属于那些用心思考、积极思考的人。作为教学一线的课堂也是一个不可忽视的创新场所，有许多知识和学术问题等待人们去研究，这里应该成为科技创新的不竭源泉。
- 这段文字意在说明（ ）。
- A. 课堂也可以成为创新的重要场所
B. 教师应在课堂上注重创新人才的培养
C. 善于思考的人才能产生创新的火花
D. 课堂教学既要传授知识也要培养创新思维
19. 拿破仑一次外出打猎，忽然听到有人呼救，走近一看，原来有个年轻人落水。拿破仑举起猎枪，大声吓唬道：“你再不爬上来，我就打死你。”那年轻人一听，吓得赶紧使出全身力气，不断地挣扎着奋力游动，终于爬上岸来！上岸后，他气愤地问拿破仑：“你为什么要杀我？”拿破仑从容答道：“我不吓唬你，你不就在水中淹死了吗？”
- 这个故事告诉我们（ ）。
- A. 拿破仑有着非同寻常着的智慧
B. 压力能激发人的潜能
C. 自信是成功的阶梯
D. 命运掌握在自己手中
20. 从根本上说，后现代主义在当代中国社会文化语境中还只是一种超前的“奢侈品”。中国社会文化的多元格局与多层次的文化冲突，深刻地表明所谓“中国的后现代”现象，发生在中国的前现代文化精神并未完全退场，现代性的建构仍处于“途中跑”阶段的语境中。
- 这段文字中“奢侈品”的含义是（ ）。
- A. 昂贵的消费品
B. 后现代主义
C. 后现代主义在中国社会文化现代性建构还未完成的语境中表现出的超前特征
D. 后现代主义不适应中国当前的社会文化
21. 地球上生命的历史也就是生物与它们的环境相互作用的历史。动植物的形体和习性在很大程度上是由环境造成的，而反向作用，即生物对其所在环境的实际影响则相对较小。只有到了 20 世纪，作为物种之一的人类才获得了足够的力量，有效地改变了他所在的世界——大自然。

对“足够的力量”的理解恰当的一项是（ ）。

- A. 人类 20 世纪所取得的足以改变自然环境的力量
- B. 地球上的生物施加给自然环境的反向作用力
- C. 环境对地球上生物的作用和地球上生物对环境的反作用
- D. 人类所获得的空前的改变社会环境的力量

22. 温暖，才是适应人类群聚的第一要素，而正是在这一点上，古老的沈阳总是能够焕发出勃勃生机。

文中“这一点”指的是（ ）。

- A. 温暖
- B. 人类群聚
- C. 适应人类群聚的第一要素
- D. 勃勃生机

23. 中国的粮食问题，仍然还是要靠自己，这是中国作为一个人口大国的国情所决定的。粮价是市场创造过程的客观结果，我们与其在价格干预上绞尽脑汁，不如把目光放长远，切实在农业基础设施、农业技术进步方面下大力气，珍惜每一寸土地，利用好每一项要素投入，保持粮食产量的稳定增长和粮食自给率的合适水平。在此基础上，才可能有“不管风吹浪打、胜似闲庭信步”的底气。

文中划线的“此基础”表示（ ）。

- A. 引进国外先进的农业技术，改变农业生产结构
- B. 提高粮食的销售价格，调动农民种粮的积极性
- C. 改善农业生产要素，保证足够适量的粮食产量
- D. 加大宏观调控，避免粮食市场掉入盲目的误区

24. 据悉，寿山石雕作品“春声赋”将在上海世博会福建馆展出。“春声赋”为传统的花鸟题材，一凤一凰与五十六只形态各异的小鸟或栖或飞，环绕在一棵不老松身边，形成众鸟朝凤的欢乐图景，寓意中国五十六个民族团结和睦与新中国繁荣富强。它是用整块名贵高山鸡母窝石历时五年雕刻而成，是福建省寿山石雕最重要的优秀作品之一，价值约一亿三千万人民币。这是寿山石首次参展世博会，将向全球展示寿山石文化的深刻内涵和艺术成就，对提高寿山石在全球范围内的知名度和影响力有着积极的意义。

最适合这则新闻报道的标题是（ ）。

- A. 寿山石借力世博会再上新台阶
- B. 寿山石雕“春声赋”将参展世博会
- C. 寿山石雕“春声赋”价值过亿
- D. 世博会首现寿山石雕“春声赋”

25. 一个人离开你的视线，只消失几秒钟，你便会给他一个评语，正视的时候却不行。聪明的人，一定把后背比前脸看得更加重要。这后背就是自己的一个雕像。雕塑是由别人操作的，材料和尺度则完全由自己提供。我们不奢望把每个人都塑造成完人，但至少自己“走过去”

别让人戳脊梁骨。

最适合做本段文字标题的是()。

- A. 看好你的背影
- B. 背影比前脸更重要
- C. 人过留名，雁过留声
- D. 背影是一个人的德行和名声

26. 手机垃圾短信息有“骚扰性”，多为恶作剧、“黄段子”、小道消息；有“陷阱型”，多是骗取用户钱财；有广告短信。短信业务的确给运营商们带来了丰厚的利润，但有些短信正成为一种“信息公害”，让人不堪其忧。一些急于开发新客户的新企业群发不少短信广告，绝大多数的垃圾短信制造者是运营商、“三无”产品经营者、诈骗者。现在应尽快完善相关监管法规，先管住短信服务提供者。垃圾短信这颗毒瘤，迟早是会被根除的。

最适合做本段文字标题的是：()

- A. 垃圾短信成为信息公害
- B. 垃圾短信为何屡禁不止
- C. 法律监管垃圾短信尚未到位
- D. 切实治理垃圾短信

27. 奥运会时，有个帖子说：奏国歌时，西班牙队没有一个开口的，因而很不爱国。以此推论，乔丹领军的梦一队是最爱国的。他们领奖时，队员都身披美国国旗。然而真相是，西班牙国歌压根没歌词。美国国家队赞助商是锐步，而乔丹的赞助商是耐克，因发誓效忠耐克，他们便用国旗遮住锐步的标识领奖。

最适合做这段文字标题的是：()

- A. 讹传与事实
- B. 事实胜于雄辩
- C. 表象与真相
- D. 爱国不在形式

28. 美国常驻联合国代表博尔顿说，美国从没接受过任何“地区轮任”的观点，而希望最合适、最有能力胜任的候选人当选，不论他(她)来自哪个地区。

美国对联合国在确定秘书长人选问题上形成的“地区轮任原则”所持态度是()。

- A. 不认同
- B. 认同
- C. 没有明说
- D. 不知道

29. 对后现代文化有一种概括，就是：中心变成了边缘，系统变成了断裂，整体变成了碎片，深度变成了平面，价值变成了虚无。在后现代艺术中，复制取代了原创，操作取代了想像，破碎取代了整体，取代了作品。艺术形象完全变成了模型的模型、模仿的模仿。

这段文字反映出作者对后现代文化的态度是()。

- A. 欣然认同
- B. 不能接受
- C. 勉强接受
- D. 不置可否

30. 当宇航员在国际空间站外执行任务时，太空中的化合物会粘在他们的衣服上，被带回空间站，而宇宙的气味就在这些特殊的化合物上，于是他们就“闻到”了宇宙的真实气味：外太空闻起来像是汽车比赛中的气味，混合了发热金属、柴油和烧烤的气味，这些气味主：要是那些快要消亡的恒星剧烈燃烧产生的副产品散发出来的。这种副产品是一种气味强烈的化合物——多环芳烃，这些分子充斥在整个宇宙，并且会永久飘浮下去。彗星、流星和太空尘埃中都有它们的身影，它们也是地球生命最初形成时的重要成分之一，地球上的煤炭、石油甚至食物中，也都没能缺少它。

下列说法与原文相符的是（ ）。

- A. 即将消亡的恒星在剧烈燃烧中会产生多环芳烃
- B. 多环芳烃是地球生命得以延续和进化的基础
- C. 太空中的化合物种类丰富
- D. 宇宙气味对宇航员有一定危害

31. 随着美国著名的投行雷曼兄弟公司宣布破产，华尔街骤然掀起了人们始料不及的剧烈金融风暴，并迅速席卷美国及与美国相关联的全球经济。这条承载着美国梦想的著名金融街上，如今，著名的五大投行只剩下摩根和高盛公司，且硕果仅存的这两家公司宣布其主要业务将向传统银行方向转变。

根据上述文字，下列说法正确的是（ ）。

- A. 华尔街金融风暴导致雷曼兄弟公司破产
- B. 由于摩根和高盛公司的业务转向了传统银行方向，所以才能在华尔街金融风暴中幸免
- C. 摩根和高盛公司是五大投行中实力最强的
- D. 华尔街五大投行如今只剩下两家

32. 1977年在安徽阜阳西汉汝阴侯灶墓出土了“不知名漆器”，经考证，它是世界上现存的年代最早且具有确定年代的圭表。“不知名漆器”打开后顺着南北方向摆放，利用其北侧立耳在正午时投下的影子，就能指示冬至、春分、夏至和秋分的到来。这种类型圭表适用的地理纬度是固定的，经测算，汝明侯其墓圭表的适用纬度恰恰就在汉代长安到汝明侯国一带。这架圭表的精妙之处还在于，四个节气日影所在的位置不是用刻度表示，而是暗含在木块和漆器上的一些特殊图案和位置中。

关于这架圭表，以下说法正确的是（ ）。

- A. 可指示二十四节气
- B. 使用年代不详

- C. 适用于特定地理位置
D. 表上标有详细的时间刻度度
33. 就本质而言,《人民文学》质量高低, _____, 与传播媒介所处位置并没有必然的因果关联。从某种意义上讲,销量也不能必然反映文学的真正价值,今天的畅销作者中,有多少经得起历史的检验呢?有媒体统计发现,2010年,王蒙、贾平凹、周国平、麦家四人的总版税,比不过一个“当年明月”,但这并不能因此就否认这四人的文学造诣。
填入画横线部分最恰当的一句是()。
- A. 并不体现在它的市场价值上
B. 惟一衡量标准在于作品本身
C. 与读者群体的阅读喜好息息相关
D. 取决于作者的文学底蕴和思想深度
34. 一个故事是有关美国的一个自封的皇帝的。了解点美国历史的人都知道,美国的历史和现实中有许多稀奇古怪的事情,但有一样东西是没有的,就是皇帝。因为美国从来就没有实行过帝制,因而也就不可能有所谓的皇帝。然而,1880年1月9日的旧金山主要报纸之一的《旧金山纪事报》却在头版头条刊登了这样一条消息:“君王驾崩”,宣布“美国皇帝和墨西哥保护者诺顿一世逝世”。
根据上文推断,作者接下来最可能讲述的内容是()。
- A. 美国没有实行帝制的原因分析
B. 对该报纸的性质、宗旨进行简要介绍
C. 告诉读者美国政治制度的演变过程
D. 介绍诺顿一世的传奇故事
35. ①历史上严重的干旱和洪水给生命和财产带来了难以估计的损失
②但却未能从根本上摆脱严重的干旱和洪水反复给经济社会带来的巨大灾难
③几千年来,人类以巨大的努力不屈不挠地进行着筑堤防洪、截流蓄水、开渠引水、掘井取水等传统模式的水利建设,推动着文明的发展
④而现代社会在严重取的旱涝灾害面前仍然脆弱无力
⑤而且到处分布和大规模聚集的人口更易受生态破坏、气候恶化所带来的自然灾害高频率、高难度的更大冲击
将以上5个句子重新排列,语序正确的是()。
- A. ③②①④⑤
B. ①④③②⑤
C. ③④⑤②①

D. ①③④②⑤

36. 似曾相识的故事，只要你静心观察，就在我们生活周遭日复一日_____地演出，人生旅途看起来纷繁纷沓，置身其中才知那是独来独往的终身体验——沿途的浮光掠影，何尝不是为了成就我们或丰饶或_____的内在。

依次填入_____处的词语，最恰当的一组是：（ ）

- A. 单一式 单薄 B. 木偶式 贫穷
C. 平面化 骨感 D. 机械化 贫瘠

37. 波士顿城中的旧书店常常让我_____。那里有两家旧书店。一家在老教堂的地下室，还有一家靠近波士顿绿地，规模更大，上下两层。

依次填入划横线部分最恰当的一项是：（ ）

- A. 乐不思蜀
B. 流连忘返
C. 沉溺其中
D. 大开眼界

38. 在这两三年的时间里，我还发现原来那条淤塞多年、腐臭不堪的清溪河也得到了彻底的_____，而且在两岸还修建了供市民_____的公用设施。

填入画横线部分最恰当的一项是（ ）。

- A. 整理 休息 B. 整治 休息
C. 修理 休憩 D. 整治 休憩

39. 通过探测重力的微小变化，科学家发现一些地方的地下水越来越少。尽管卫星数据显示地下水出现了_____，相关部门对这些信号仍然相当_____，他们对科学家最近的发现提出了_____。

依次填入画横线部分最恰当的一项是（ ）。

- A. 警戒 反感 批评
B. 枯竭 不满 辩驳
C. 危机 谨慎 质疑
D. 问题 不安 反对

40. 那些文人墨客、达官显贵在官场失宠、情场失意之后，拖着疲惫的_____走荒村野店。一座苍古的小桥，可以_____他们饱经沧桑的心灵，又是散怀写意的最美笔触，还是寻求哲理禅意的去处。

填入画横线部分最恰当的一项是（ ）。

- A. 身体 安慰 B. 身体 慰藉

C. 身心 慰藉 D. 身心 安慰

41. 好的小说应该是可读性, 艺术性和思想性的完美结合, 比如大仲马的小说, 之所有流行百年而不衰, 就是因为有着_____的故事情节和高超的写作技巧以及深刻的思想内容。
填入划横线部分最恰当的一项是 ()。

- A. 完美无瑕
- B. 津津有味
- C. 引人入胜
- D. 意犹未尽

42. 托尔斯泰创造了小说艺术的巅峰, 他能把拿破仑进军俄国的战争史诗般场面驾驭自如、能把安娜的人性刻画得_____。像这样的大手笔再也没有了。
填入划横线部分最恰当的一项是 ()。

- A. 惟妙惟肖
- B. 妙笔生花
- C. 入木三分
- D. 鬼斧神工

43. 站在奥运会组织者的角度看, 以拍卖方式处理这些数目不菲的奥运资产, 让这些带有奥运符号的物品经拍卖师之槌, 变为数量可观的回收现金, _____开拓出一条奥运投资成本回收的新渠道, _____进一步拉长奥运品牌营销的价值链, _____能借此继续向公众传递奥运符号、传播奥运文化, _____延续其奥运记忆, 维护其奥运热情, 算得上是一箭双雕甚至数雕之举。

填入画横线部分最恰当的一项是 ()。

- A. 不仅 而且 还 甚至 B. 虽然 但是 因为 所以
- C. 既 又 还 从而 C. 不管 也 并且 从而

44. 在我国加入世界贸易组织、农业科技迅猛发展的形势下, 农业面临的竞争首先是科技竞争。只有尽快提高农民的文化素质和科技意识, 才能不断推广大批先进实用的农业科技成果, 为农业和农村经济的发展提供有力的科技支撑。我国将继续推进农业和农村经济结构调整, 大力发展优势农产品和特色产业, 将在粮食主产区推广50个优质高产高效品种和10项关键技术。这些品种和技术的推广和运用都需要高素质的农民。为此, 国家已经决定大力发展农村成人教育, 在全国普遍开展农村实用技术培训, 每年将培训农民超过1 亿人次。
这段文字的意思是在强调 ()。

- A. 农民亟需提高科学文化素质
- B. 国家加大农业和农村经济结构调整

- C. 发展科技才能提高我国农业的竞争力
D. 每年有大量农民接受农村实用技术培训
45. 公开公平公正应体现为制度安排，但领导干部是否出以公心，仍是关键所在。任何人看问题都有局限性，一人所见以为是，未必即是；一人所见以为非，未必真非，故当求公是公非。有公心，就应拒绝制度之外的“例外”。至少，这个“例外”应被多数人所认可，并有所依据。有公心，就不怕把所有应披露的信息高度透明地呈现给大家，绝不藏着掖着。对所有询问，给出合乎实际、合情合理的解释。有公心，就应该不折不扣地依规章、依程序办事，不以个人好恶改变规则，增减程序。是否出以公心，检验的标准不是表态，而是对规章制度的敬畏和坚守。
- 阅读上面文字，选出不属于“有公心”的一项。（ ）
- A. 有公心，就不怕把信息高度透明地呈现给大家
B. 有公心，就应拒绝制度之外的“例外”
C. 有公心，就不会以个人好恶改变规则
D. 有公心，就会坚持对规章制度的敬畏和坚守
46. 菲尔丁说：“不好的书也像不好的朋友一样，可能会把你戕害。”这话没错。但也不必为此走向极端，夸大书籍对人的品格的影响。更多的情况是（ ）。
- A. 好人读了坏书受害至深，坏人读了好书受益甚微
B. 好人读了好书取其精华，坏人读了坏书取其糟粕
C. 好人读了好书好上加好，坏人读了坏书不可救药
D. 好人读了坏书仍是好人，坏人读了好书仍是坏人
47. 很多音乐评论者在阐述音乐时，往往借助浪漫主义的理念给音乐附加上许多文学性的描写。于是，那音符一跑起来，就是什么疯狂的、愤怒的、社会的，这些字眼总是先于音乐出来了。在评论者本人，这或许是一种很自我的感觉；但对一般听众而言，他们由此获得的参考却未必有益；很多人可能把阅读那些貌似优美的文字代替亲耳聆听感受音乐。这段话的真正含义是（ ）。
- A. 知识分子阐述音乐过于浪漫主义 B. 音乐是无法用语言文字来阐释的
C. 真正听音乐才能感受音乐的含义 D. 通过文字来理解音乐是不可能的
48. 在大自然面前，万物没有优劣之分。达尔文在《物种起源》中提出的进化论，把人类放在了一个很普通的位置上。然而，一直有很多人不愿接受这种观点，而是先入为主地将达尔文的进化论曲解为进步论并加以传播。根据进化论，我们很难预测出一个物种的进化趋势，因为进化的机制包含两个因素——环境和物种自身。我们无法预测环境的变化，物种自身怎样遗传和变异，我们也难以完全把握。进化论很大程度上只能给予解释，而非精确的预

测，所以依据进化论去给出物种的进化趋势是没有道理的。尽管进化论难以刻画物种进化的细节，但还是帮助人们对生命有了深刻的理解。

这段文字意在说明（ ）。

- A. 进化论和进步论的根本区别
- B. 反进化论的观点缺乏事实根据
- C. 进化论很难预测物种的进化趋势
- D. 应科学认识进化论的含义和作用

49. 艺术博物馆经过近 200 年的发展，已经从最初的“艺术家的机构”演变为今天“公众的艺术机构”。艺术博物馆的馆长、总监、策展人发现，他们现在面临的最大问题不是和捐赠人、收藏家、同行打交道，而是如何把没有受过艺术教育、缺乏相关的艺术体验的普通人吸引到艺术博物馆里来。潜在的观念群不进博物馆是因为他们不懂艺术史，缺乏相关的艺术体验，一直认为博物馆不欢迎他们，里面没有让他们感兴趣的东西。消除这种“不舒服感”首先需要淡化艺术博物馆的精英色彩。艺术并不只关乎大人物，更关乎普通人。从社会学角度讲，后者更重要。

这段文字主要说明（ ）。

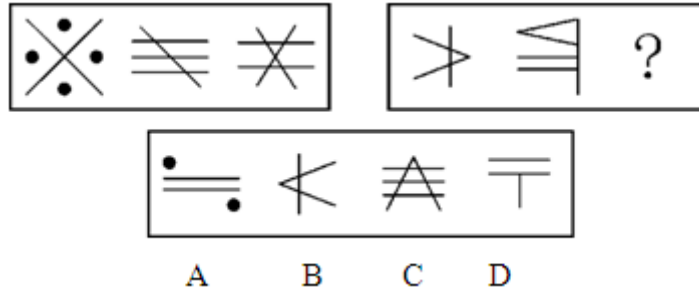
- A. 艺术教育的普及将大众引向博物馆
- B. 去精英化是当下艺术发展的方向
- C. 艺术博物馆应主动贴近普通大众
- D. 公众的艺术欣赏水平和层次不断提高

【参考答案】有问题请加新浪微博：@郜爽 ID

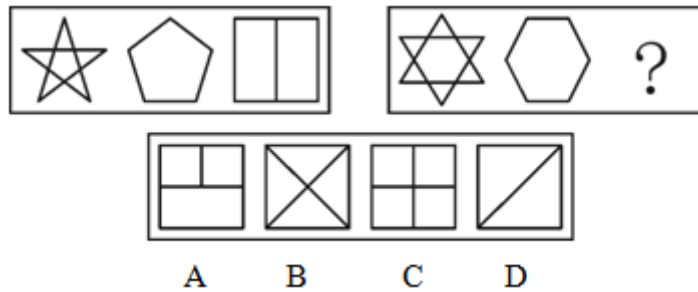
1-5	6-10	11-15	16-20	21-25
DCBCD	CAADC	DBADC	BAABC	AACBA
26-30	31-35	36-40	41-45	46-49
DCABA	DCBDA	DBDCC	CCCAA	DCDC

判断推理部分

51. 从所给的四个选项中，选择最合适的一个填入问号处，使之呈现一定的规律性：



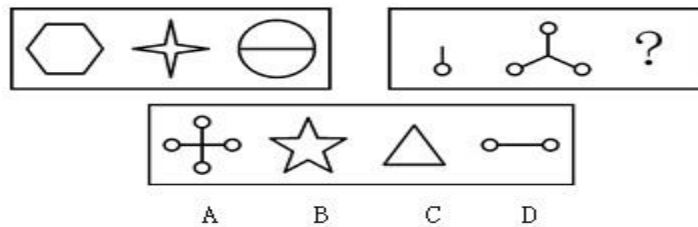
52. 从所给的四个选项中，选择最合适的一个填入问号处，使之呈现一定的规律性：



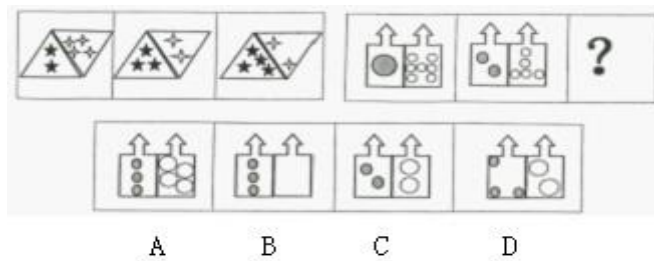
53. 从所给的四个选项中，选择最合适的一个填入问号处，使之呈现一定的规律性：



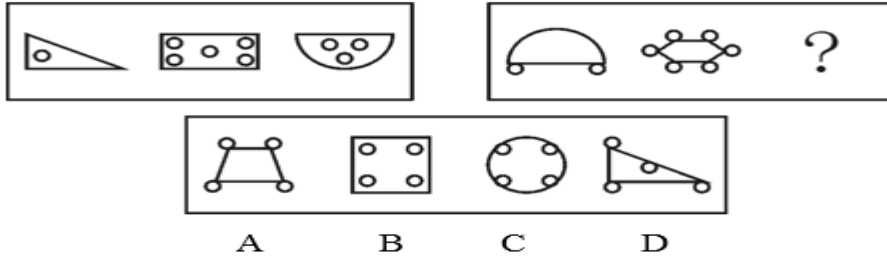
54. 从所给的四个选项中，选择最合适的一个填入问号处，使之呈现一定的规律性：



55. 从所给的四个选项中，选择最合适的一个填入问号处，使之呈现一定的规律性：



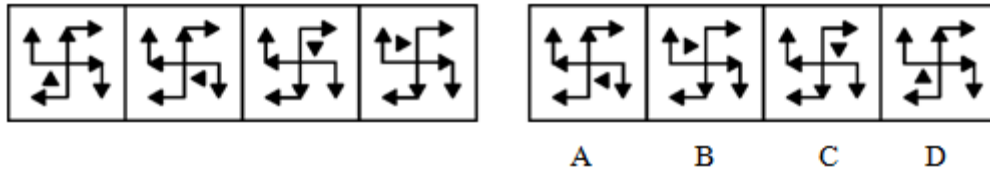
56. 从所给的四个选项中，选择最合适的一个填入问号处，使之呈现一定的规律性：



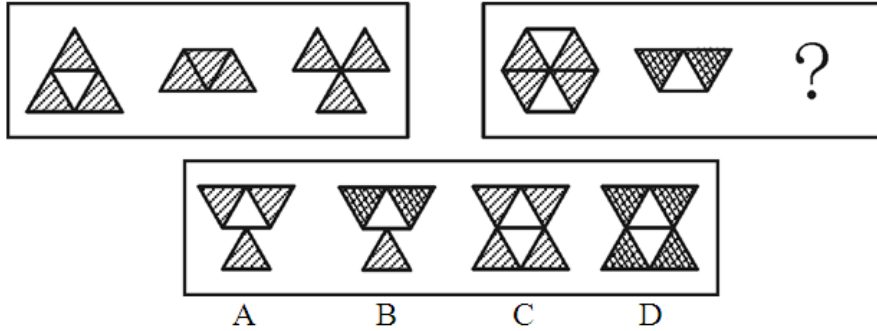
57. 下列选项中，符合所给图形的变化规律的是（ ）。



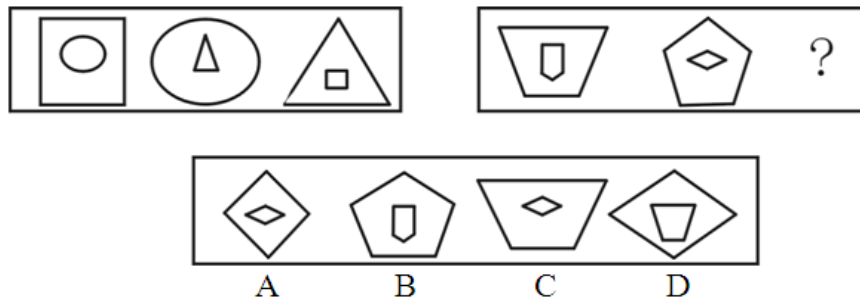
58. 下列选项中，符合所给图形的变化规律的是（ ）。



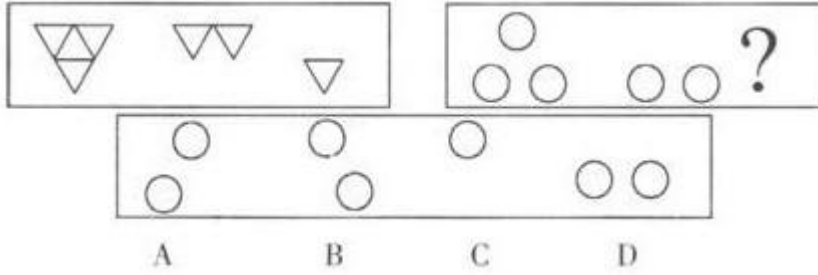
59. 从所给的四个选项中，选择最合适的一个填入问号处，使之呈现一定的规律性：



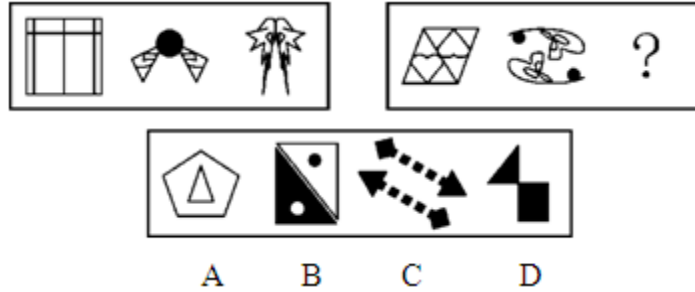
60. 从所给的四个选项中，选择最合适的一个填入问号处，使之呈现一定的规律性：



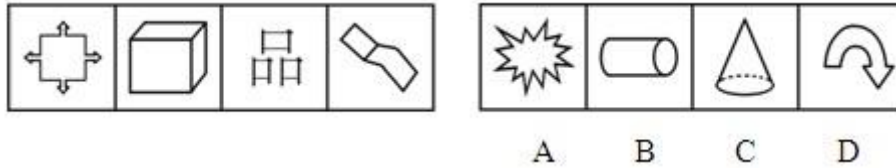
61. 从所给的四个选项中，选择最合适的一个填入问号处，使之呈现一定的规律性：




62. 从所给的四个选项中，选择最合适的一个填入问号处，使之呈现一定的规律性：



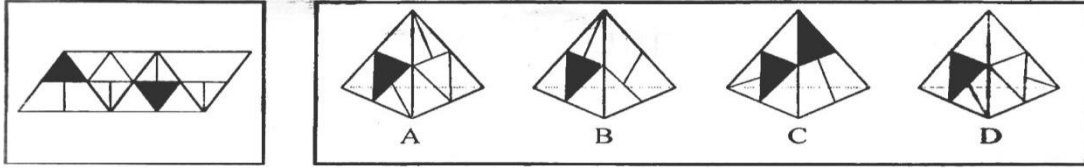
63. 下列选项中，符合所给图形的变化规律的是（ ）



64. 从所给的四个选项中，选择最合适的一个填入问号处，使之呈现一定的规律性：



65. 左边给定的是纸盒的外表面，下面哪一项能由它折叠而成？



66. 下列选项中，符合所给图形的变化规律的是（ ）



67. 英雄：豪杰

- A. 奶茶：牛奶
- B. 小灵通：座机
- C. 碧螺春：春茶
- D. 移动电话：手机

68. 国画：油画

- A. 香蕉：苹果
- B. 生物：生态
- C. 青山：森林
- D. 青年：年轻

69. 运动员：大学生

- A. 植物：种植
- B. 专家：青年
- C. 四季：春天
- D. 纸张：书法

70. 花草：植物

- A. 森林：家禽
- B. 牛羊：家畜
- C. 环境：田野
- D. 初春：严冬

71. 农药：污染

- A. 太阳：温度
- B. 运动：健康
- C. 噩耗：悲痛
- D. 电脑：辐射

72. 巴金：《家》

- A. 鲁迅：《祝福》
- B. 《春》：觉慧
- C. 《白毛女》：喜儿
- D. 《闰土》：绍兴

73. 光照：影子

- A. 振动：声音
- B. 飓风：损失
- C. 努力：成功
- D. 酒精：气氛

74. 红光：满面

- A. 东山：再起
- B. 魂牵：梦绕

- C. 五光：十色
D. 雨打：芭蕉
75. 生命：透支
A. 飞机：起飞
B. 材料：涨价
C. 梦想：实现
D. 情绪：波动
76. 火山：岩浆
A. 小麦：面包
B. 海洋：岛屿
C. 汽车：尾气
D. 地下水：喷泉
77. 推荐：推选
A. 安宁：安定
B. 杂志：杂技
C. 稳定：淡定
D. 鲜艳：鲜美
78. () 对于过失相当于谦虚对于 ()
A. 功劳 傲慢
B. 错误 内向
C. 失败 愧疚
D. 成就 虚心
79. 红豆：相思
A. 冬雷：夏雪
B. 柳絮：闲愁
C. 海棠：骨气
D. 孤寂：大漠
80. ab4Pab4Q ↓
A. $\approx \geq M2 \approx \geq NM$ ↓
B. EFsEFst
C. xy7Bxy7C ↓
D. $\alpha CD \neq \alpha C57D$
81. 职务侵占罪是指公司、企业或者其他单位的人员，利用职务上的便利，将本单位财物非法占为己有，数额较大的行为。
下列行为属于职务侵占罪的是 ()。
A. 张某是名乘警，他将乘客遗失在列车上价值 5000 元的物品占为己有
B. 刘某是某工地的材料工人，负责工地物品的调拨，几次私自将公司的建筑材料卖给别人，共卖了 2 万元
C. 刘某是单位的保管员，一天他趁其他同事不注意的时候，将一个 200 元的收音机拿回家给儿子用
D. 赵某是一跨国公司的会计师，私自作假账，使公司偷税高达 200 余万元
82. 行政沟通是指在行政管理活动中，行政机构之间或行政机构有关方面之间的信息上的传递交流与联系。
根据上述定义，下列不属于行政沟通的是 ()。
A. 在县公安局打字的小张写信向县委机关打字员求爱

- B. 省编制办下达了本年度的人员、财政编制给各地市
- C. 政府机构的彼此公文往来
- D. 县政府召集各部门领导开会，安排下半年的党风廉政建设
83. 物流，是物质资料从供给者向需要者的物理性移动，是创造时间性、场所性价值的经济活动，包括包装、装卸、保管、库存管理、流通加工、运输、配送等诸种活动。
- 以下属于物流活动的是（）。
- A. 小王在某销售网站开店出售电话充值卡，自动发货功能使顾客在线支付后即可获得密码
- B. 小李办理出国手续急需一份经济担保书，他请父母通过快递公司从家乡将该文件邮来
- C. 老刘出资几十万元建了一间冷库，用于储藏收购来的蔬菜，以便赶在春节上市卖个好价钱
- D. 小赵自己有一辆卡车，他本周日帮助公司的客户钱某搬家，钱某为表示感谢请他吃饭
84. 扎根理论是指在经验资料的基础上建立理论，研究者在研究开始之前一般没有理论假设，直接从实际观察入手，从原始资料中归纳出经验概括，然后上升到理论。
- 根据上述定义，下列符合扎根理论的是（）。
- A. 某研究生为验证压力和成功之间的倒 U 形曲线关系，做了一项长达一年的实验，实验结果和预先判断并不一致，他认为实验设计可能存在问题
- B. 某教授通过对其女儿从 3 岁到 7 岁的连续观察研究，总结出了一些儿童认知发展的规律，但是这些结论在学术界还存在争议
- C. 某公司基于九型人格理论研制了一套人格测验，公司员工都进行了测试，测试结果和实际情况非常相近
- D. 某医疗机构通过问卷、访谈等形式来研究机器设备对医务人员和病人之间的互动影响，发现某些设备明显让病人感觉不舒服，于是改进了设备
85. 生物群落是指生活在一定地区内的有机体包括植物、动物、微生物相互结合在一起，以多种多样的方式彼此发生作用，形成一种有规律的特殊集体。换句话说，生物群落是各种生物种群在同一特定的空间或环境范围内的自然组合，反映了该空间范围的典型自然面貌。
- 依据上述定义，下列情形中，属于生物群落的是：
- A. 海洋中的全部鱼
- B. 一个草地中的全部蛇
- C. 潮湿的农贸市场上的鸡、鸭、鱼、青菜、蘑菇等
- D. 一个池塘的藻类、细菌、蚌、水生昆虫等全部生物
86. 视网膜效应，是指当一个人拥有一件物品或一项特征时，他就比平常人更会注意到其他人是否跟他一样具备这种物品或特征。

以下不属于视网膜效应的一项是（ ）。

- A. 部门主管老宋心胸开阔而乐观，总能发现员工的优点并发挥他们的潜能
- B. 老王藏有一件明代瓷器，他热衷于结识同样收藏明代瓷器的爱好者
- C. 小李常抱怨别人对他说话时比较急躁，而事实上他自己的脾气也很不好
- D. 小刘看见有两个人穿的和她一样，她感慨怎么会有这么多人买相同的衣服

87. 定义：

- ①自恋型人格：指过于重视自我价值而缺乏对自身和他人进行理性和客观认识的一种人格。
- ②回避型人格：指行为退缩、心理自卑，面对挑战多采取回避态度或无能应付的一种人格。
- ③强迫型人格：指过于要求严格和完善，具有强烈的自制心理和自控行为的一种人格。

典型例证：

- (1) 小肖敏感羞涩，害怕参加社交活动，担心自己的言行不当而被人讥笑讽刺，也从来不去做那些冒险的事情。
- (2) 小吴经常无根据地夸大自己的成就和才干，认为自己应当被视作“特殊人才”，幻想自己拥有比他人更多的智慧、聪明。
- (3) 小栾过分注意自己的行为是否正确、举止是否适当，往往用十全十美的高标准要求自己，追求完美，同时又墨守陈规。

对上述典型例证与定义的关系判断正确的是（ ）。

- A. 例证（2）（1）（3）分别与定义③②①相符
- B. 例证（2）（3）分别与定义③①相符
- C. 例证（1）（3）分别与定义①②相符
- D. 例证（1）（2）（3）分别与定义②①③相符

88. 对某受害人的五位朋友进行侦查分析后，四个警员各自做出了如下推测：

- 甲说：“这五个人都有嫌疑。”
- 乙说：“老陈不能逃脱干系，他有嫌疑。”
- 丙说：“这五个人不都是有嫌疑的。”
- 丁说：“五人中肯定有人作案。”

如果四个人中只有一个人推测正确，那么以下哪项为真？（ ）

- A. 甲推测正确，老陈最有嫌疑
- B. 丙推测正确，老陈没有嫌疑
- C. 丙推测正确，但老陈可能作案
- D. 丁推测正确，老陈有嫌疑

89. 在是否戒烟的问题上，总有些不算明智的人。除非他们戒烟成功，否则就不得不为其健康

- 恶化承担所有后果。老李已有 20 年的烟龄，但他很怕失去健康的身体和美好的生活，不想因为自己的不明智而承担健康恶化的后果。由此，可以推出（ ）
- A. 老李请亲朋好友严格监督自己戒烟
B. 老李若要实现自己的想法，必须成功戒烟
C. 老李戒烟不能成功，因为他总是做不明智的选择
D. 如果老李身体不好，一定是吸烟造成的
90. 某公园内有个奇怪的摊主小周，他只在星期一、星期二、星期三、星期五和星期六工作，而且他只出售 4 种商品：玩具汽车、充气气球、橡皮泥和遥控飞机。每个工作日，他上午只卖 1 种商品，下午只卖 1 种商品，而且还知道如下条件：
- (1) 小周在而且只在两个连续的下午卖玩具汽车；
(2) 小周只在 1 个上午或 3 个下午卖橡皮泥；
(3) 星期六这天，小周既不卖玩具汽车，也不卖充气气球。
- 若上述情况为真，请问哪一天小周一定会卖玩具汽车？（ ）
- A. 星期一
B. 星期二
C. 星期三
D. 星期五
91. 要对社会现象作出正确的分析判断，即使是地区性的，也一定要走进现实社会中进行调查研究，绝不能凭空臆度。要明白事情的因果关系，建立有关的理论，不能没有现实资料，以供验证理论之用。所以：（ ）。
- A. 从事社会研究的人，同时也是从事实工作的人
B. 依据实际的资料作社会研究，则一定具有理论性
C. 要从事社会研究，不能不从实际工作中收集资料
D. 社会研究并不复杂，只需要有实际资料就可以了
92. 张老师的班级里有 120 个学生，男女各一半，有 80 个学生喜欢数学，100 个学生喜欢语文。根据以上信息进行的推断，有可能正确的是（ ）。
- A. 40 个男生喜欢数学而不喜欢语文
B. 40 个喜欢语文的男生不喜欢数学
C. 60 个喜欢语文的女生不喜欢数学
D. 60 个喜欢数学的男生中只有 10 个喜欢语文
93. 在我国的黄海和东海的海底地层中，蕴藏着丰富的石油资源。这些石油就是远古时大量陆地植物的遗骸生成的。这表明，现在黄海和东海的大陆架在远古时代是一片生长着茂密植物的大平原。
- 以下能够支持上述推论的一项是（ ）。

- A. 大陆架会随着地球地壳的移动而持续着缓慢但永不停息的变化
 - B. 川流不息的江河就像传送带，把陆地上的有机物质源源不断地带到大海中
 - C. 中东的海湾地区大多是广袤的沙漠，地下蕴藏着丰富的石油资源
 - D. 一般来说，陆地上相同纬度的山区比平原地区植被资源更为丰富
94. 每逢开学，各大书店总有不少家长拿着老师开列的书单为孩子买辅导书，然而有时却不容易买到。尽管有些辅导书内容上大同小异，但不同的版本却往往让家长不放心，让老师不满意。其实，家长和老师们都有点庸人自扰了。辅导书是卖给孩子用的，应该多和孩子商量，把选择权交给孩子。

上述论断的前提是：

- A. 辅导书是教材的补充，是学生学习必备的参考资料
 - B. 对孩子发展的引导应从孩子自身的个性、能力出发
 - C. 老师和家长在购买辅导书时与孩子缺乏足够的交流
 - D. 孩子对自己的学习需求有较为清晰的认识
95. 人们对于搭乘飞机的恐惧其实是毫无道理的，据统计，1995 年全世界死于地面交通事故的人数超出 80 万，而在自 1990 至 1999 年的 10 年间，全世界平均每年死于空难的还不到 500 人，而在这 10 年间，我国平均每年罹于空难的还不到 25 人。

为了评价上述论证的正确性，回答以下哪个问题最为重要？

- A. 在上述 10 年间，全世界平均每年有多少人采用地面交通，有多少人采用航运
 - B. 在上述 10 年间，我国平均每年有多少人采用地面交通，有多少人采用航运
 - C. 在上述 10 年间，我国平均每年有多少人死于地面交通事故
 - D. 在上述 10 年间，1995 年全世界死于地面交通事故的人数是否是最高
96. 电冰箱的问世引起了冰市场的崩溃，以前人们用冰来保鲜食物，现在电冰箱替代了冰的作用。同样道理，由于生物工程的成果，研究出能抵抗害虫的农作物，则会引起什么后果？
以下哪项是上述问题的最好回答？（ ）。

- A. 化学农药的需求减少
 - B. 增加种子成本
 - C. 增加农作物的产量
 - D. 农田的价值下降
97. 某学校最近进行了一项关于奖学金对学习效率促进作用的调查，结果表明，获得奖学金的学生比那些没有获得奖学金的学生的学习效率平均要高出 25%。这充分说明，奖学金对帮助学生提高学习效率的作用是很明显的。

以下（ ）如果为真，最能削弱以上的论证。

- A. 获得奖学金通常是因为那些同学有好的学习习惯和高的学习效率
 B. 获得奖学金的同学可以更容易改善学习环境来提高学习效率
 C. 学习效率低的同学通常学习时间长而缺少正常的休息
 D. 学习效率的高低与奖学金的多少的研究应当采用定量方法进行
98. 甲、乙两公司均为使用其公司数码产品有疑难问题的顾客提供 24 小时的热线电话咨询服
 务。拨打热线电话要收取相应的通话费用，所以通常来说，消费者只有在使用数码产品遇
 到困难时才会拨打电话。甲公司接到的热线电话的数量比乙公司多 5 倍。这说明，甲公
 司的数码产品一定比乙公司的数码产品复杂难用。
 以下各项如果为真，最能支持上述结论的是（ ）。
- A. 乙公司数码产品的消费者数量比甲公司的多 2 倍
 B. 甲公司数码产品的消费者数量比乙公司的多 5 倍
 C. 乙公司收到的有关数码产品质量问题的投诉比甲公司多 2 倍
 D. 甲公司收到的有关数码产品质量问题的投诉比乙公司多 5 倍
99. 某铁路营运部门为缓解春节前后的客运压力，特增开了数条往返本市与其他城市间的临时
 列车线路。但这项措施实施后，仍有相当数量的人反映该市存在春节难买火车票的情况。
 有记者撰文指出造成该市火车票难买的四大原因，其中最不合理的一种分析是（ ）。
- A. 临时列车的车票大都被旅游团提前统一购买了
 B. 铁路营运部门决策失误，几条临时列车线路设置不合理
 C. 当年该市大力引进外资，兴建工厂，导致外地打工人员激增
 D. 该市没有飞机场，因此大多数人仅有乘坐火车进出该市一种途径
100. 爬行动物不是两栖动物，两栖动物都是卵生的，所以凡是卵生的动物都不是爬行动物。
 以下选项与题面推理形式相同的是（ ）。
- A. 商品都是有使用价值的，貂皮大衣是有使用价值的，所以貂皮大衣是商品
 B. 考试不及格就会补考，补考的学生不能参加三好学生评选，所有不能参加三好学生评选
 的人都曾经考试不及格
 C. 广东人不是香港人，香港人说粤语，因此所有说粤语的人都不是香港人
 D. 过度溺爱孩子会导致孩子经常哭闹，经常哭闹都有肠胃问题，所以孩子的肠胃问题可能
 是过度溺爱孩子的结果

【参考答案】有问题请加新浪微博：@郜爽 ID

1-5	6-10	11-15	16-20	21-25
CDBAD	AADCD	CCACA	CDABB	AAAAC

26-30	31-35	36-40	41-45	46-50
CAABC	BABBD	ADBBB	CBADA	AAADB

数量关系部分

101. -2, -2, 0, 4, 10, ()

A.12

B.15

C.16

D.18

102. 36, 125, 256, 243, 64, ()。

A.100

B.1

C.0.5

D.121

103. 2, 2, 6, 12, 27, ()。

A.42

B.50

C.58.5

D.63.5

104. 1, 1, 3, 5, 17, 87, ()

A.1359

B.1479

C.1481

D.1563

105. $\frac{3}{15}, \frac{1}{3}, \frac{3}{7}, \frac{1}{2}$ ()

A. $\frac{5}{8}$

B. $\frac{4}{9}$

C. $\frac{15}{27}$

D.-3

106. 25, 6, 19, 7, 12, 8, ()。

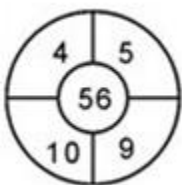
A.4

B.5

C.9

D.10

107.



A.21



B.42

- C.36
D.57
108. $(300+301+302+\dots+397) - (100+101+\dots+197) = (\quad)$ 。
A.19000
B.19200
C.19400
D.19600
109. 已知 $a^2+a+1=0$, 则 $a^{2008}+a^{2009}+1=(\quad)$
A.0
B.1
C.2
D.3
110. 甲、乙两人从相距 1350 米的地方, 以相同的速度相对行走, 两人在出发点分别放下 1 个标志物, 前进 10 米后放下 3 个标志物, 前进 10 米放下 5 个标志物, 再前进 10 米放下 7 个标志物, 以此类推。当两人相遇时, 一共放下了几个标志物? ()
A.4489
B.4624
C.8978
D.9248
111. 二十几个小朋友围成一圈, 按顺时针方向一圈一圈地连续报数。如果报 2 和 200 的是同一个人, 那么共有 () 个小朋友。
A.22
B.24
C.27
D.28
112. 某单位组织职工参加团体操表演, 表演的前半段队形为中间一组 5 人, 其他人按 8 人一组围在外圈; 后半段队形变为中间一组 8 人, 其他人按 5 人一组围在外圈。该单位职工人数为 150 人, 则最多可有多少人参加? ()
A.149
B.148
C.138
D.133
113. 由 1、2、3 组成没有重复数字的所有三位数之和是多少?
A. 1222
B. 1232
C. 1322
D. 1332
114. 某个月有 5 个星期三, 并且第三个星期六是 18 号。请问以下不能确定的答案是 ()。
A.这个月有 31 天
B.这个月最后一个星期日不是 28 号
C.这个月没有 5 个星期六
D.这个月有可能是闰年的 2 月份
115. 某车间进行季度考核, 整个车间平均分是 85 分, 其中 $\frac{2}{3}$ 的人得 80 分以上 (含 80 分), 他们的平均分是 90 分, 则低于 80 分的人的平均分是多少?
A.68
B.70
C.75
D.78
116. 某单位今年一月份购买 5 包 A4 纸、6 包 B5 纸, 购买 A4 纸的钱比 B5 纸少 5 元; 第一季度

- 该单位共购买 A4 纸 15 包, B5 纸 12 包, 共花费 510 元; 那么每包 B5 纸的价格比 A4 纸便宜()。
- A. 1.5 元 B. 2.0 元
C. 2.5 元 D. 3.0 元
117. 现有 3 个箱子, 依次放入 1、2、3 个球, 然后将 3 个箱子随机编号为甲、乙、丙, 接着在甲、乙、丙 3 个箱子里分别放入其箱内球数的 2、3、4 倍。两次共放了 22 个球。最终甲箱中球比乙箱()
- A. 多 1 个 B. 少 1 个
C. 多 2 个 D. 少 2 个
118. A、B、C、D 四支球队开展篮球比赛, 每两个队之间都要比赛 1 场, 已知 A 队已比赛了 3 场, B 队已比赛了 2 场, C 队已比赛了 1 场, D 队已比赛了几场? ()
- A.3 B.2
C.1 D.0
119. 李工程师家里有 4 口人, 母、妻、儿、本人。2013 年, 4 人的年龄和为 152 岁, 平均年龄正好比李工程师年龄小 2 岁, 比妻子大 2 岁, 若 2007 年时, 妻子年龄正好是儿子的 6 倍, 问哪一年时, 母亲年龄正好是妻子年龄的 2 倍,
- A.2004 年 B.2006 年
C. 2008 年 D. 2010 年
120. 6 个空瓶可以换一瓶汽水, 某班同学喝了 157 瓶汽水, 其中有一些是用喝剩下来的空瓶换的, 那么他们至少要买多少瓶汽水? ()
- A.131 B.130
C.128 D.127
121. 某房地产公司分别以 80 万人民币的相同价格出售两套房屋。一套房屋以盈利 20% 的价格出售, 另一套房屋以盈利 30% 的价格出售。那么该房地产公司从中获利约为: ()
- A.31.5 万元 B.31.6 万元
C.31.7 万元 D.31.8 万元
122. 某商场开展购物优惠活动: 一次购买 300 元及以下的商品九折优惠; 一次购买超过 300 元的商品, 其中 300 元九折优惠, 超过 300 元的部分八折优惠。小王购物第一次付款 144 元, 第二次又付款 310 元。如果他一次购买并付款, 可以节省多少元? ()
- A. 16 B. 22.4
C. 30.6 D. 48
123. 瓶中装有浓度为 20% 的酒精溶液为 1000 克, 现在又分倒入 200 克和 400 克的 A、B 两种酒

精溶液，瓶里的溶液浓度变为 15%。已知 A 种酒精溶液的浓度是 B 种酒精溶液浓度的 2 倍。

那么 A 种酒精溶液的浓度是多少？（ ）

- A.5%
- B.6%
- C.8%
- D.10%

124. 一种溶液，蒸发掉一定量的水后，溶液的浓度为 10%；再蒸发掉同样多的水后，溶液的浓度变为 12%；第三次蒸发掉同样多的水后，溶液的浓度将变为多少？（ ）

- A.14%
- B.17%
- C.16%
- D.15%

125. 一项工程由甲、乙、丙三个工程队共同完成需要 15 天，甲队与乙队的工作效率相同，丙队 3 天的工作量与乙队 4 天的工作量相当。三队同时开工 2 天后，丙队被调往另一工地，甲、乙两队留下继续工作。那么，开工 22 天以后，这项工程：（ ）

- A.已经完工
- B.余下的量需甲乙两队共同工作 1 天
- C.余下的量需乙丙两队共同工作 1 天
- D.余下的量需甲乙丙三队共同工作 1 天

126. 某演唱会检票钱若干分钟就有观众开始排队等候入场，而每分钟来的观众人数一样多。从开始检票到等候队伍消失，若同时开 4 个入场口需 50 分钟，若同时开 6 个入场口则需 30 分钟。问如果同时开 7 个入场口需几分钟？

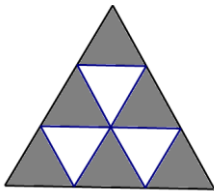
- A.18 分钟
- B.20 分钟
- C.22 分钟
- D.25 分钟

127. 有一只怪钟，每昼夜设计成 10 小时，每小时 100 分钟，当这只怪钟显示 5 点时，实际上是中午 12 点，当这只怪钟显示 8 点 50 分时，实际上是什么时间（ ）

- A.17 点 50 分
- B.18 点 10 分
- C.20 点 04 分
- D.20 点 24 分

128. 把一个正四面体的每个表面都分成 9 个相同的等边三角形。用任意颜色给这些小三角形上色，要求有公共边的小三角形颜色不同，问最多有多少个小三角形颜色相同？（ ）

- A.12
- B.15
- C.16
- D.18



129. 火车站点 A 和 B 与初始发车站 C 的直线距离都等于 a km，站点 A 在发车站 C 的北偏东 20° ，

站点 B 在发车站 C 的南偏东 40° ，若在站点 A 和站点 B 之间架设火车轨道，则最短的距离为：()

A.akm

B.3akm

C.2akm

D. $\sqrt{3}a$ km

130. 一只小鸟离开在树枝上的鸟巢，向北飞了 10 米，然后又向东飞了 10 米，然后又向上飞了 10 米。最后，它沿着到鸟巢的直线飞回了家，请问：小鸟飞行的总长度与下列哪个最接近？

()

A.17 米

B.40

C.47 米

D.50 米

131. 李大爷在马路边散步，中途均匀地栽着一行树，李大爷从第一棵树走到第 31 棵树用了 30 分钟。李大爷又往前走了几棵树后就往回走，当他回到第五棵树时共用了 30 分钟，李大爷散步到第几棵树时开始往回走？()

A.第 32 棵

B.第 33 棵

C.第 37 棵

D.第 38 棵

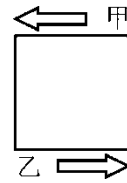
132. 一个正方形队列，如减少一行和一列会减少 19 人，原队列有几个人？()

A.81

B.100

C.121

D.144



133. 一批游客中每人都去了 A、B 两个景点中至少一个。只去了 A 的游客和没去 A 的游客数量相当，且两者之和是两个景点都去了的人数的 3 倍。则只去一个景点的人数占游客总人数的比重为()。

A. $\frac{2}{3}$

B. $\frac{3}{4}$

C. $\frac{4}{5}$

D. $\frac{5}{6}$

134. 某调查公司对甲、乙、丙三部电影的收看情况向 125 人进行调查，有 89 人看过甲片，有 47 人看过乙片，有 63 人看过丙片，其中有 24 人三部电影全看过，20 人一部也没有看过，则只看过其中两部电影的人数是()

A.69 人

B.65 人

C.57 人

D.46 人

135. 某论坛邀请了六位嘉宾，安排其中三人进行单独演讲，另三人参加圆桌对话节目。如每位嘉宾都可以参加演讲或圆桌对话，演讲顺序分先后且圆桌对话必须安排在任意两场演讲之

- 间，问一共有多少种不同的安排方式？（ ）
- A.120
B.240
C.480
D.1440
136. 某次抽奖活动在三个箱子中均放有红、黄、绿、蓝、紫、橙、白、黑 8 种颜色的球各一个，奖励规则如下：从三个箱子中分别摸出一个球，摸出的 3 个球均为红球的得一等奖，摸出的 3 个球中至少有一个绿球的得二等奖，摸出的 3 个球均为彩色球(黑、白除外)的得三等奖。问不中奖的概率是多少?()
- A.在 0—25%之间
B. 在 25—50%之间
C. 在 50—75%之间
D. 在 75—100%之间
137. 60 名员工投票从甲、乙、丙三人中评选最佳员工，选举时每人只能投票选举一人，得票最多的人当选。开票中途累计，前 30 张选票中，甲得 15 票，乙得 10 票，丙得 5 票。问在尚未统计的选票中，甲至少再得多少票就一定当选？（ ）
- A. 15
B. 13
C. 10
D. 8
138. 254 个志愿者来自不同的单位，任意两个单位的志愿者人数之和不少于 20 人，且任意两个单位志愿者的人数不同，问这些志愿者所属的单位数最多有几个?()
- A.17
B.15
C.14
D.12
139. 有 100 人参加运动会的三个比赛项目，每人至少参加一项，其中未参加跳远的有 50 人，未参加跳高的有 60 人，未参加赛跑的有 70 人。问至少有多少人参加了不止一个项目？（ ）
- A. 7
B. 10
C. 15
D. 20
140. 高速公路上行驶的汽车 A 的速度是 100 公里每小时，汽车 B 的速度是 120 公里每小时，此刻汽车 A 在汽车 B 前方 80 公里处，汽车 A 中途加油停车 10 分钟后继续向前行驶。那么从两车相距 80 公里处开始，汽车 B 至少要多长时间可以追上汽车 A? ()
- A.2 小时
B.3 小时 10 分
C.3 小时 50 分
D.4 小时 10 分
141. 中午 12 点，甲驾驶汽车从 A 地到 B 地办事，行驶 1 小时，走了总路程的 15%。此后甲的速度增加了 15 公里/小时，又行驶了 30 分钟，距离 B 地还有 $\frac{3}{4}$ 的路程。此后甲的速度如果再增加 15 公里/小时，问几点能到 B 地？

A.16: 00

B.16: 30

C.17: 00

D.17: 30

【参考答案】有问题请加新浪微博：@华图教育-刘有珍

1-5	6-10	11-15	16-20	21-25
DBCCC	ABDAD	ADDAC	CABBA	DADDD
26-30	31-35	36-40	41-45	
DDBDC	BBBDB	BBBBB	B	

■ 华图网校介绍

华图网校（V.HUATU.COM）于2007年3月由华图教育投资创立，是华图教育旗下的远程教育高端品牌。她专注于公职培训，目前拥有遍及全国各地500万注册用户，已成为公职类考生学习提高的专业门户网站。

华图网校是教育部中国远程教育理事单位。她拥有全球最尖端高清录播互动技术和国际领先的网络课程设计思想，融汇华图教育十余年公职辅导模块教学法，凭借强大师资力量与教学资源、利用教育与互联网的完美结合，真正为考生带来“乐享品质”的学习体验，通过“高效学习”成就品质人生。

华图网校课程丰富多元，涵盖公务员、事业单位、招警、法院、检察院、军转干、选调生、村官、政法干警、三支一扶、乡镇公务员、党政公选等热门考试、晋升及选拔。同时，华图网校坚持以人为本的原则，不断吸引清华、北大等高端人才加入经营管理，优化课程学习平台，提升用户体验，探索网络教育新技术和教学思想，力争为考生提供高效、个性、互动、智能的高品质课程和服务。

华图网校将秉承“以教育推动社会进步”的使命，加快网站国际化进程，打造全球一流的网络学习平台。

我们的使命：以教育推动社会进步

我们的愿景：德聚最优秀人才，仁就基业长青的教育机构

我们的价值观：诚信为根、质量为本、知难而进、开拓创新。

- 咨询电话：400-678-1009
- 听课网址：v.huatu.com（华图网校）