

考点遍历卷第2套



言语+判断+数量资料

邵爽+蔡金龙+刘有珍

考点遍历卷（二）

言语理解部分

1. 人文教育从表面上看，好像只是传授文史哲方面的知识，尤其是在现在的学科体制下，一切教育似乎都可以量化为客观知识和能力，如英语等级考试。实际上人文教育是通过文史哲的学习，通过对人类千百年积累下来的成果的吸纳和认同，使学生有独立的人格意识，有丰富的想象力和创造力，有健全的判断能力和价值取向，有高尚的趣味和情操，有良好的修养和同情心，对个人、家庭、国家、天下有一种责任感，对人类的命运有一种担待。这段话表达的主要观点是（ ）。

- A. 英语等级考试是为大众所熟知的一种人文教育
- B. 人文教育的主要内容是传授文史哲方面的知识
- C. 在目前的学科体制下，人文教育可以量化为客观知识和能力
- D. 人文教育的目的包括人性境界提升、人格塑造以及个人与社会价值实现

2. 21世纪的教师不仅仅是信息的传播者，还应是知识的助产士。

对上句中教师的作用理解正确的是：（ ）

- A. 不是传播信息，而是传播知识
- B. 不仅传播信息，而且传播知识
- C. 不仅传播信息，而且帮助学生有所发现，有所创新
- D. 不是传播信息，而是帮助学生有所发现，有所创新

3. 苏州曾经是经济兴盛、文化发达、人才荟萃之地。明末清初以后，苏州士绅除少数人发生身份和观念转化外，多数人的传统观念仍根深蒂固。而作为社会主流的士绅观念和意识往往通过各种渠道浸润展延，严重影响一般民众。正因如此，晚清苏州民风靡弱闲散，生活节奏缓慢，缺乏早期现代化必需的紧迫感与开拓精神。清末及民国初期，苏州人很少愿意将资本投入到现代实业中，以至于苏州钱庄吸收的存款在当地难以消纳，不得不转向外埠寻求出路。

这段文字主要介绍了（ ）。

- A. 清末苏州资金消纳的途径与方式
- B. 苏州民众在士绅观念影响下的转变
- C. 民国初期苏州实业发展衰落的原因
- D. 士绅观念制约了近代苏州的现代化进程

4. 有的人有一个轰轰烈烈的生，却留下一个默默无闻的死；有的人有一个默默无闻的生，却

有一个轰轰烈烈的死；有的人显赫一时，却只能成为匆匆的过客；有的人潦倒终生，却成为历史灿烂星空的泰斗。

这段话谈论的是（ ）。

- A. 人的生命价值
- B. 人的生命规律
- C. 人的生死祸福
- D. 人生变幻无常

5. 与相声在传媒中的冷清相比，周末相声俱乐部的火爆与人气，颇耐人寻味。在民众中诞生和成长的艺术，只有回到群众，回归生活，才能获得新的生命力。这种回归，如果没有与观众面对面的交流与切磋，失去了舞台的实践和锤炼，没有观众心领神会的捧腹大笑和心心相印的理解沟通，是不会达到的。

对这段文字概括最准确的是（ ）。

- A. 生活实践是相声创作的源泉
- B. 传统的相声表演形式亟须改变
- C. 回归观众是相声俱乐部火爆的原因
- D. 相声只有重返民间舞台才能重获新生

6. 夏天少数人为贪图凉爽，早餐以冷饮代替豆浆和牛奶，这种做法在短时间内不会对身体产生影响，但长期如此会伤害“胃气”。在早晨，身体各系统器官还未走出睡眠状态，过多食用冰冷的食物，会使体内各个系统出现挛缩及血流不顺的现象。所以早饭时应首先食用热稀饭、热豆浆等热食，然后再吃蔬菜、面包、水果和点心等。

这段文字主要谈的是（ ）。

- A. 夏天吃早餐的重要性
- B. 夏天早餐喝冷饮的危害
- C. 夏天早餐应吃什么食物
- D. 夏天吃早餐的注意事项

7. 领导带领机关干部扫大街，从官员和机关的角度看，这当然是好事，可以拉近与民众的距离，显示出领导干部勤政为民。但是，从干部的个人权利讲，义务劳动不是不可以，但不能是行政命令的驱使；从环卫部门的角度来看，如果干部常态化扫街确有必要，反映出的可能是两个方面的问题，要么环卫工人的数量不够，人手短缺；要么是环卫工人不好好干活，工作留下了很多死角。

下列表述最能概括上述文字内容的是（ ）。

- A. 领导干部带头扫街、参加义务劳动是对个人权利的侵犯

- B. 领导干部带头扫街能激发环卫部门工作人员的工作积极性
- C. 领导干部带头扫街可以拉近与民众的距离，促进干群关系和谐
- D. 领导干部带头扫街，很可能造成民众的误解，达不到理想效果

8. 公车改革的漏洞是一面镜子，他预示着，只有让公共治理的漏洞都充分聚焦民意，社会才能进步，现在，公车改革新政遭到质疑，让那些可能被权力钻空子的漏洞被及时曝光，尽管会让人看到改革任重难行的一面，但我们更应该感受到民意洪流无法阻挡，每一项制度改革改革的漏洞，如果都能有民意与权力进行深度博弈，社会就一定能够渐渐步入民主与法治的轨道，一路畅行。

对这段材料的关键词提炼准确的是：（ ）

- A、公车改革 民意 权力 博弈
 - B、制度改革 轨道 权力 畅行
 - C、漏洞 民意 权力 博弈
 - D、公共治理 轨道 权力 畅行
9. 古今中外，人们总结了各种各样的学习方法，但我们不能照搬照套，应根据自身的特点，取其精华，然后加以改造逐渐摸索、总结出一套适合自己的方法，以提高学习的效率，比如有关记忆的方法就多达上百种，我们不必每种都用，假若你的记忆力本来就很好，那就根本不必用那么多的方法；假若你的抽象记忆力较差，则可辅之于形象记忆来帮助，还可用理解记忆、编顺口溜等方法增强记忆的效果。

这段文字主要强调的是（ ）

- A. 学习有很多种方法
 - B. 我们应根据自身特点总结出一套适合自己的学习方法
 - C. 每人的记忆力不同，所用来学习的方法不同
 - D. 怎样提高学习的效率
10. 现在人们认识到，极光一方面与地球高空大气和地磁场的大规模相互作用有关，另一面又与太阳喷发出来的高速带电粒子流有关，这种粒子流通常被称为太阳风。由此可见，形成极光必不可少的条件是大气、磁场和太阳风，缺一不可。具备这三个条件的太阳系其他行星，如木星和水星，它们的周围也会产生极光，这已被实际观察到的事实所证明。

这段文字主要介绍的是：（ ）

- A. 太阳在极光形成中的作用
- B. 形成极光的必备要素
- C. 存在极光现象的行星
- D. 人们对极光的观察和认识

11. 一般来说，一个社会的监督体系是由多方面力量组成的，媒体监督不应成为其中的主要力量，更不应“一枝独秀”，因为这个体系还应该包括公众监督、制度监督等多个方面，任何一个方面的缺失，都会使整个体系出现明显漏洞。单纯依靠一种监督力量，对于任何一个社会来说都是“不安全”的，因为不同的监督力量，在整个体系中扮演的角色是不同的。媒体监督相对于制度监督等方式而言，是一种非强制性监督，不仅受制于舆论环境，而且监督效果在很大程度上取决于监督对象的态度。因此，将整个社会监督的“希望”全部寄托在媒体身上，既不科学，也不现实。

这段文字针对的主要问题是（ ）。

- A. 目前媒体监督被赋予过多的期望
- B. 社会监督未引起监督对象的足够重视
- C. 媒体监督的效果尚不理想
- D. 强制性监督的作用未得到充分发挥

12. 一段时间以来，居民消费价格持续上涨，突破了通常被认为是“警戒线”的3%以后，更成为舆论和民情关注的热点。原因很简单——物价上涨关系到每一个消费者的切身利益，影响着相当一部分普通百姓的日常生活，并且可能给低收入家庭带来沉重压力。因此，对物价上涨不能掉以轻心。

这段文字支持的观点是：（ ）

- A. 物价上涨会损害到每一位百姓的切身利益
- B. 普通百姓无法左右物价是否上涨，因此无需过多关心
- C. 低收入家庭在物价上涨后必然会受到巨大的冲击
- D. 物价上涨事关百姓利益，不能掉以轻心。

13. 在中国文化的剧烈冲击下，佛教如果不能适应现实情况，必然不能在中国立定脚跟，于是佛教只能做出某一些伪装，以求得生存。早前佛典中有些地方特别强调“孝”字，就是歪曲原文含义以适应中国具有浓厚纲纪色彩文化的要求。

对这段文字的主要意思概括最恰当的一项是：（ ）

- A. 佛教是一个适应性很强的宗教
- B. “孝”是佛典发展过程中衍生出来的要义之一
- C. 佛学在中国传统文化传承中的影响较深
- D. 传统文化的力量迫使佛教在传播中采取了变通策略

14. 某公司的经验充分显示出，成功的行销运作除了有赖专门的行销部门外，还需要有优异的产品，精密的市场调研，更少不了专业的业务部门、公关部门、擅长分析的财务部门以及物流后勤等部门的全力配合与支持。如果行销部门独强而其他部门弱，或是行销部门与其

他部门不和，或是公司各部门无法有效地整合，都会让行销运作无法顺利有效地进行，难以发挥应有的强大威力。

这段文字主要强调的是（ ）。

- A. 该公司各个部门的有效整合是其成功的关键
- B. 注重团队合作是该公司取得成功的宝贵经验
- C. 成功的行销运作可以给企业带来巨大的经济效益
- D. 行销部门只有与其他部门紧密配合才能更好地发挥作用

15. 听说现在中学语文课本里的文言文还有增多的趋势，我的看法恰好相反。文言文可以学一点，但不要太多，因为我们是反对写文言文的。为什么要反对写文言文呢？首先，现代人要说明现代话；其次，文言文不易写好，为什么要做这吃力不讨好的事情呢？我说可以教点文言文，但是目的不在于此。

这段文字主要支持了这样一种观点，即（ ）。

- A. 文言文不是现代人学习的目的
- B. 中学语文课本里的文言文没有必要增多
- C. 文言文不容易写好
- D. 现代人要说明现代话，没有必要学习文言文

16. 清代余云涣所撰与义府大堂联，通俗易懂，联曰：“不要百姓半元钱，原非异事；但问一官两千石，所造何功？”此联告诫官吏，不拿百姓半文钱是起码的为官之德，并非是什么特殊的事迹，重要的是要问一问享受着国家的俸禄做出了什么政绩。

对这段话的准确概括是（ ）

- A. 为政不在言多，须息息从省身克己而出
- B. 为官要一心为民，两袖清风，三思而行，四方太平
- C. 为官既要廉政，还要勤政
- D. 为官不光要廉政，还要勤政，要有功于民

17. 中国奥运代表团为什么能够在奥运会上获得金牌第一？是因为奥运会是一个业余比赛，而我们派出的是清一色的专业运动员；中国的学者为什么至今也没能获得一枚诺贝尔奖的金牌？是因为学术研究是一个专业比赛，而我们的学者队伍中业余选手太多，甚至夸张一点都可以说，有些学科的科研队伍整个就是一支业余队伍。

这段文字意在表明（ ）。

- A. 中国奥运代表团代表了我国运动员的最高水平
- B. 我国的学术研究队伍需要更加专业
- C. 我国的学者队伍中很多人不专业

D. 我们的体育代表团比学者队伍更专业

18. 自去年下半年以来，中央各部门相继公开本部门三公经费年底预算和决算，地方和政府也纷纷跟进，但综观各部门和各地公开的数据，基本都是粗线条，例如一年中公款吃喝了多少钱、公车消费了多少钱、因公出国考察花了多少钱，包括这些钱是怎么花掉的，花的是否合理，公众一概不解。

这段话要说明的是（ ）。

- A. 三公经费支出应有民众监督
- B. 三公经费应更详细、更全面地公开
- C. 三公经费公开以自上而下陆续展开
- D. 三公经费支出应有详细的账目

19. 1798年，英国航空科学家乔治·凯利设计出最早的直升飞行器并实践了飞行计划，其创意来自童年玩耍过的中国玩具“竹蜻蜓”。一百年后，“竹蜻蜓”加上达·芬奇直升飞行器的设计草图，又变幻成了俄国伊戈尔·西科斯基童年梦中的趣味飞行；当他的公司在1931年秋正式向泛美航空公司交付第一架S42四发水上飞机的时候，西科斯基动情地说道：“现在大家看到的正是我30年前童年梦中的那个座舱...”

这段文字主要想传递的信息是（ ）。

- A. 很多代表进步的产物萌生于童年的梦想
- B. 科技发展的每一步都凝聚着人类的智慧
- C. 许多看似平凡的事物却蕴藏了无限的奥秘
- D. 儿时的想象力往往更为大胆，更富有创造性

20. 我们很多人，担心叫不醒别人，常会用“锲而不舍”的大噪音来叫别人起床。比如一直对着对方喊“起床了，起床了...”直到他坐起下地才罢休；或者一直摇晃对方的身体，摇到对方起来为止。很不幸，这都属于“杀伤性叫醒”，即用惊醒的方式切断启动过程，让人立即恢复意识。这种粗暴的方式会带给人极糟的影响。

关于“杀伤性叫醒”，以下说法正确的是（ ）。

- A. 是持续地叫人起床
- B. 是破坏潜意识的叫醒方式
- C. 用惊醒让人立即恢复意识
- D. 是影响人的正常睡眠的叫醒方式

21. 一旦就业被列为“重中之重”，尤其是纳入地方政府政绩考核的范围，当能动员所有能动员的资源，帮助失业人群度过就业寒冬。但笔者忧虑的是，在目前户籍制度人为分割城乡劳动力市场的情况下，用政绩考核激励地方政府，极易挤压农民工的就业空间，反而可能加

剧农民工失业，损害他们的利益。

这段文字中“重中之重”指的是（ ）。

- A. 打破户籍制度的限制
- B. 帮助失业人员就业
- C. 能否动员资源
- D. 地方政府政绩的考核

22. 未来国际油价和大宗商品价格还会上涨，欧美市场资金价格的泡沫还会继续膨胀，但短期调整或上涨速率放慢的趋势是可以预见的。

对这段文字中“未来”的理解，正确的是（ ）。

- A. 指马上立刻
- B. 指不久的将来
- C. 指长期趋势
- D. 指很久以后

23. 今年2 月份，科尔尼公司对全球134 家大公司进行调查时，85%的公司表示今年将保持或增长外国直接投资。在这次调查中，95%的公司决策人表示对目前世界经济的担心甚于去年，但他们当中2/3 的人表示，外国直接投资将保持去年的水平。

文段中的“他们”，指代的是（ ）

- A. 科尔尼公司的工作人员
- B. 调查中85%的公司人员
- C. 调查中95%的公司决策人
- D. 134 家大公司中的决策人

24. 亚洲海啸之后，有报道说，当地的原始土著居民能够及时地感觉到危机迫近，他们和野生动物一起逃往地势较高的地方躲避即将到来的灾难。为此，科学家们正在致力于相关的研究，希望能找出这一行为的原因。

文中“这一行为”指的是（ ）。

- A. 科学家研究海啸的形成原因
- B. 原始土著居民到地势较高的地方生活
- C. 野生动物可以在海啸来临前逃往地势较高的地方
- D. 原始土著居民能够感觉到危机并及时躲避灾难

25. 拥有120年历史的道琼斯通讯社宣布，聘请新华在线在中国独家代理其信息产品。这意味着，今后国内新闻媒体和政府机构同步使用道琼斯中文语言财经消息、评论成为可能。据悉，道琼斯通讯社以其独立、领先的财经新闻闻名于世，每24小时发布8000多则市场消息。此次，新华在线专门推出“引擎计划”，为道琼斯服务中国本土开路。它入乡随俗，接受国内个别用户的财经信息服务要求。

最适合做上面一段新闻标题的是（ ）。

- A. 道琼斯通讯社大力拓展中国市场
- B. 道琼斯通讯社以其独立、快捷的信息赢得了中国的市场
- C. 道琼斯通讯社以其独特的服务和本土化的战略满足用户的信息需求
- D. 新华在线为道琼斯代理信息发布

26. 春分，昼夜平分，春色与茶色平分。看，春染茶山，峰峦叠翠，采茶姑娘那灵巧的双手在茶树上翩翩起舞；听，山泉潺潺，鸟鸣蜂吟，婉转悠扬的茶歌在天地间久久回荡。春分时节，静坐于绿色盎然的美景里，沏上一杯春分茶，沐浴着柔和暖阳，看茶烟袅袅，见嫩绿碧汤，怡然自得。茶中绿意，幽若山林，茗香清醇，去浊扬清，滋润身

最适合做这段文字标题的是（ ）。

- A. 春分茶韵
- B. 茶以春为贵
- C. 春贵在其时
- D. 春分采香茶

27. 成语中的数字运用很多，如一鼓作气、百废俱兴。非整数也进入了成语，如半途而废、半壁江山。还有两个成语：一举两得、一箭双雕。“两”和“双”是数字“2”的不同表示法。多数成语都是由四个文字组成的，数目字有时还被“连用”，如五光十色、三头六臂。也有成语纯粹由数目字组成，如三三两两、一五一十。

最适合做这段文字标题的是（ ）。

- A. 成语与数字的关系
- B. 成语数字趣谈
- C. 数字成语与成语数字
- D. 成语用遍数目字

28. 在光滑的冰面上开车是不容易的，可是我在北极见到的芬兰司机，在冰道上开车的时速和在柏油马路上一样快。为了保障安全，这里的汽车都备有两套轮子，一套是夏季用的普通轮子，一套是适用于冰面的带针的轮子，公路上的另一奇景是白天行驶的车辆都开着灯，据说这样事故发生率比较低。

最适合做本段文字标题的是（ ）。

- A. 北极见闻
- B. 北极气温
- C. 行车规则
- D. 行车怪异

29. 最近，美国方面有这样一种论调，即由于不同的国家有着不同的储蓄和投资取向，全球经济出现失衡，新兴经济体的高储蓄为全球信贷泡沫埋下种子。不可否认，全球经济失衡的

现象确实存在。一方面，美国因过度消费、政府开支扩大、储蓄率下降等因素导致经常项目恶化，贸易赤字攀升；另一方面，新兴经济体和石油输出国依靠出口，积累大量美元储备。表面上看，似乎在两者的共同作用下，出现了全球经济失衡，这其实是混淆了因果。通过这段文字我们可以知道，作者的观点（ ）。

- A. 同意美国方面的说法
- B. 不同意美国方面的说法
- C. 看不出作者同意不同意
- D. 有保留地同意美国方面的看法

30. 有些日本人认为不应该纠缠于中日间过去的鸡毛蒜皮的陈年旧帐，要放眼中日友好的巨大利益，他们中一些“杰出的”代表还根据欧洲经济共同体的模式提出了一个中日关系新思维理论。这个所谓的新思维认为，如果早在20世纪就建立起日本人设计的“大东亚共荣圈”，将会给亚洲人民带来巨大福祉。

作者对“他们”的态度是：（ ）

- A. 否定
- B. 肯定
- C. 未置可否
- D. 有肯定有否

31. 目前，IBM公司研发的电脑沃森战胜了美国电视智力节目《危险边缘》的两名人类常胜将军，一时间，很多网友担心，电脑越来越像人了，将会超越人类智慧。从深蓝到沃森，人工智能又向前跨越了一大步。电脑会代替人脑吗？近几年，每次有电脑战胜人脑的事发生，都会有“终结者”之类的担忧。甚至有人认为，电脑的计算速度正变得越来越快，不久的将来电脑将能够模拟人脑、产生意识，并最终替代人类。

作者对于“电脑替代人脑”这种观点的态度（ ）。

- A. 作者认为人工智能技术有可能实现电脑模拟人脑
- B. 看不出作者是否认同“电脑替代人脑”这种观点
- C. 认同这种观点，因为人工智能技术不断超越人类智慧
- D. 不认同这种观点，因为人类是人工智能技术的主宰者

32. 今年，11名高考“状元”因面试成绩不理想被香港大学拒之门外。这与内地高校追逐高分考生、为招收到“状元”而津津乐道、各地大捧高考“状元”等现象形成了鲜明的对比。此举引来轩然大波，媒体纷纷将矛头指向“应试教育”。笔者认为，香港大学招生和“素质教育”并没有太大的直接关系，他们只是按照自己的要求录取学生，这种标准只是香港的标准，至于是否是优抑或是否适合内地情形，那就见仁见智了。

作者支持的观点是（ ）。

- A. 香港大学的录取标准并不是挑选学生的最佳标准

- B. 香港大学有自主招生的权利，媒体不应过多批评
- C. 香港大学选择学生的标准并不与内地现有情形相符
- D. 香港大学不录取“状元”的原因是他们不符合该校的录取标准
33. “90后”一代拥有一个网络童年，信息技术革命带来的社会变迁在他们身上打下了深深的烙印，他们中的不少人使用“火星文”，装扮怪异，喜欢动漫，照毕业照时不会正襟危坐，而要追求“古灵精怪”的效果。假如舆论的关注点和兴奋点都集中在这些个性行为上，关于“90”后的刻板印象就会悄然形成，从而导致对这个群体的认知偏差。
- 这段文字未暗示的信息是：（ ）
- A. 舆论过分关注“90后”的个性行为
- B. “90后”身上也蕴含着优秀的品格
- C. 社会应以包容的心态看待“90后”
- D. “90后”受到网络文化的巨大影响
34. 每个人睡觉时都要做梦，人在做梦时的睡眠叫有梦睡眠。有梦睡眠时，控制四肢和躯体的神经传导被阻断，除了脚和手指有知觉外，身体其他部分均处于麻木状态。心跳和呼吸的次数与清醒时差不多，但变得不那么均匀，体温调节机制受阻，打寒颤和出汗都很难。
- 根据本文，理解准确的是（ ）。
- A. 人在做梦时，呼吸和清醒时不完全一样
- B. 人在做梦时，心跳和清醒时是相同的
- C. 人在做梦时，常常出汗
- D. 人在做梦时，全身处于麻木状态
35. 专家在测试时发现，缺觉的学生虽然可以回答难题，却记不住简单的单词。同时，睡眠缺失对孩子的学习记忆可能造成不可逆的损害。研究发现睡眠不足时，大脑部分功能区出现了不同程度的抑制状态，这使得学生在进行一些简单学习时常常出现失误。而面对难题时，由于通过额外激活与记忆、注意密切相关的前额叶皮质区域来补偿缺失的功能，学生答题的正确率以及反应时间并未受到显著影响。专家认为，虽然没有足够证据证明睡眠不足会直接影响智商，但现有证据可以证明缺觉学生的注意力以及记忆力确实会受到影响。
- 缺觉的孩子回答难题和简单题目表现出差异的根本原因是（ ）。
- A. 采用的答题策略不同
- B. 使用大脑的具体部位不同
- C. 睡眠不足对大脑部分功能区的抑制程度不同
- D. 回答难题时前额叶皮质区比回答简单题活跃
36. _____，南方的雨也不会有停止的时候。北方的雪落在北京、乌鲁木齐、兰州、

石家庄，南方的雨落在南京、昆明、杭州、香港。北方的风雪中，大豆高粱小麦棉花早已收获；南方的烟雨里，水稻茶叶甘蔗桑叶正在成熟。

填入横线上最恰当的一句是（ ）。

- A. 正像北方的雪会一直落下去一样
- B. 北方经常下雪
- C. 南方也有下雪的时候
- D. 正如北方经常下雪一样

37. 语言文字本来只是一种工具，日常生活中少不了它，学习以及交流各科知识也少不了它。这样一个简单的事实，为什么很多教语文的人和学语文的人会认识不清呢？是因为有传统的看法作梗。

作为一篇文章的引言，接下来最可能谈论的是（ ）。

- A. 人们对语言文字的传统的看法
- B. 语言文字的重要性
- C. 教语文的人和学语文的人的认识误区
- D. 语言文字的工具性

38. ①在丹麦、瑞典等北欧国家发现和出土的大量石斧、石制矛头、箭头和其他石制工具以及用树干造出的独木舟便是遗证

②陆地上的积冰融化后，很快就出现了苔藓、地衣和细草，这些冻土原始植物引来了驯鹿等动物

③又常年受着从西面和西南面刮来的大西洋暖湿气流的影响，很适合生物的生长

④动物又吸引居住在中欧的猎人在夏天来到北欧狩猎

⑤北欧虽说处于高纬度地区，但这一带正是北大西洋暖流流经的地方

⑥这大约发生在公元前8000年到公元前6000年的中石器时代

将以上6个句子重新排列，语序正确的是（ ）。

- A. ⑥⑤③②④①
- B. ⑥②④①⑤③
- C. ⑤③②④⑥①
- D. ⑤②③④①⑥

39. 无论是古代的邮驿系统还是现代的邮政系统，书信从寄信人到收信人手中，都需要经过一个时间、空间的旅行，它的特点是慢。而这种慢又_____了人们的情感体验方式和书信体验方式。正是因为书信的_____，古人的时空感知才变得遥远而漫长，而等待、盼望、忐忑、焦虑等等，便成为这种时空观的产物。

依次填入划横线部分最恰当的一项是（ ）。

- A. 成就 真实
- B. 培养 细腻
- C. 塑造 迟缓
- D. 丰富 浪漫

40. 说话不仅是一种生理功能，更是一种能力，会说话的人，纵然_____，滔滔不绝，听者也不以为苦，纵然_____，一字千金，也能绕梁三日、成功人士大多是成功的说话者，毫不万张地说，其成功至少有一半是靠舌头_____的。

依次填入划横线部分最恰当的一项是（ ）。

- A. 能言善辩 讷口少言 实现
- B. 绘声绘色 不露声色 完成
- C. 口若悬河 片言只语 创造
- D. 侃侃而谈 缄口不言 获取

41. ①日本政界的一些人妄图_____日本侵华的历史，引起中日两国人民的强烈反对。

②端午节，民间有在身上挂香荷包的习俗，据说，这样可以_____疾病。

③见到这一情景，她那满腔怨恨，似乎一下子都_____了。

依次填入划横线部分最恰当的一项是：（ ）

- A. 窜改 驱除 融解
- B. 篡改 祛除 融解
- C. 窜改 祛除 溶解
- D. 篡改 驱除 溶解

42. 无论当下的生活多么衣食无忧，中国人还是爱假想将来可能遇到的_____，即使这些真正发生的机率接近于零。这只能从中国人_____的传统心理方面进行解释。

填入横线处的词语，最恰当的一组是（ ）。

- A. 灾难 任劳任怨
- B. 困难 克勤克俭
- C. 变故 未雨绸缪
- D. 麻烦 居安思危

43. 在日常生活中，礼貌语言作用之大往往超出一般人的_____。当人与人之间发生这样那样的_____时，礼貌、谦让的语言会如熏风般暖人心扉，将齟齬化为乌有，令睚眦变

依次填入画横线部分最恰当的一项是（ ）

- A. 期望 冲突

- B. 想象 摩擦
C. 估计 争端
D. 设想 磕碰
44. 唐朝中期以来，帝国再次陷入激烈的持续动荡，农民起义和藩镇割据成为唐帝国后叶的_____。最终，中国进入了50余年的五代十国大分裂时期，看起来_____，黄河文明似乎已经_____。但是，为什么中国的文明没像古埃及和古巴比伦那样彻底衰亡，而是_____，一直延续至今呢？
依次填入划横线部分最恰当的一项是（ ）。
- A. 主题 危在旦夕 薪尽火传
B. 主线 岌岌可危 柳暗花明
C. 主调 危机四伏 重振旗鼓
D. 主流 危如累卵 涅槃重生
45. 王大妈听到小李说他父母的不是，嘴上虽然没说什么，心里却_____。
填入划横线部分最恰当的一项是：（ ）
- A. 不可名状
B. 不以为意
C. 不以为然
D. 不置可否
46. 高尔夫球运动刚刚兴起时，有个奇怪现象：几乎所有的高尔夫球手都喜欢用旧球，特别是有划痕的球。原来，有划痕的球比光滑的新球有着更优秀的飞行能力。于是，根据空气动力学原理，科学家设计出了表面有凹点的高尔夫球。这些凹点，让高尔夫球的平稳性和距离性比光滑的球更有优势。从此_____。
填入横线上最恰当的是（ ）。
- A. 高尔夫球手不再喜欢使用旧球
B. 高尔夫球运动迈入了一个新的阶段
C. 有凹点的高尔夫球成为比赛的统一用球
D. 越来越多的厂家生产出带凹点的高尔夫球
47. 在陈列馆里，有一只名为“西班牙公主”的船舶模型上雕刻着这样的文字：本船共计航行50年，其中11次遭遇冰川，有6次遭海盗抢掠，有9次与另外的船舶相撞，有21次发生故障抛锚搁浅。陈列馆的一面墙上，是对上千年来造船厂的所有出厂的船舶的概述：造船厂出厂的近10万只船舶当中，有6000只在大海中沉没，有9000只因为受伤严重不能再进行修复航行，有6万只船舶都遭遇过20次以上的大灾难，没有一只船从下海那一天开始没有过受伤的

经历,,.

与这段文字主旨无关的名言是：（ ）

- A. 对于不屈不挠的人来说，没有失败这回事
- B. 对勇气的最大考验，就是看一个人能否做到败而不馁
- C. 人的一生就是进行尝试，尝试得越多，生活就越美好
- D. 人生的光荣，不在永不失败，而在于能够屡仆屡起

48. 现代中国大学生求职的压力越来越大，到毕业找工作的时候，很多同学都会有失落的感觉和悲观情绪。如何提高自己的心理承受能力，用更积极的心态去面对激烈的市场竞争，在更广阔的领域寻找就业机会和发展前景，对于大部分从小到大按照家长和老师的指令拼命读书，考上重点大学后却不知道该怎么干什么的中国大学生来说，无疑需要切实有效的指导。

这段文字的论述中心是：（ ）

- A. 大学生的求职压力
- B. 如何寻找就业机会和发展前途
- C. 用积极的心态去面对激烈的市场竞争
- D. 大学生需要增强心理承受力的指导

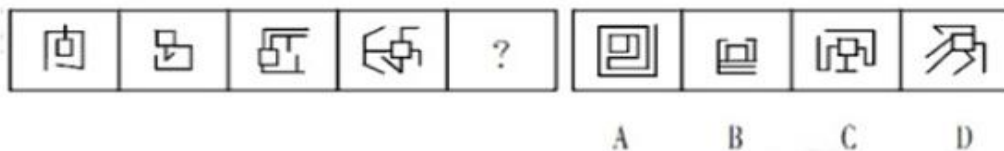
49. 生长在水中或水边的动植物的遗体是最易被保存下来的，因为保存动植物遗体的必要条件是快速掩埋，而在淤泥不断淤积的海洋、河流乃至湖泊中，动植物的遗体以及其它东西能够被快速掩埋。

对这段话理解正确的一项是（ ）

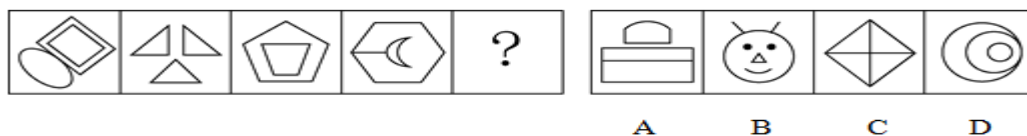
- A. 动植物遗体很容易在淤泥不断淤积的海洋、河流乃至湖泊中保存下来
- B. 只有生长在水中或水边的动植物的遗体才能被保存下来
- C. 淤泥不断淤积的海洋、河流乃至湖泊是保存动植物遗体的最佳环境
- D. 只要被快速掩埋，动植物遗体就能被保存

判断推理部分

51. 从所给的四个选项中，选择最合适的一个填入问号处，使之呈现一定的规律性。



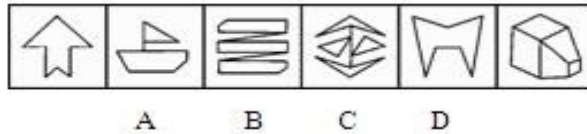
52. 从所给的四个选项中，选出最合适的一个填入问号处，使之符合已呈现的规律性



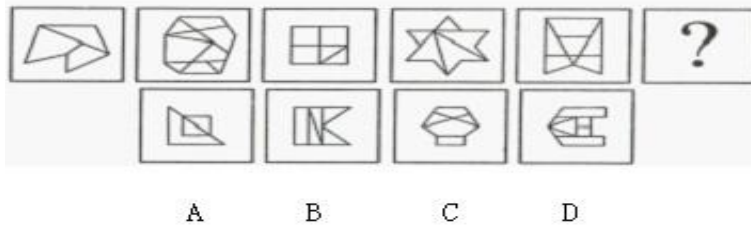
53. 从以下图形序列中将哪一个去掉后，剩下的图形可以呈现出一定的规律性？



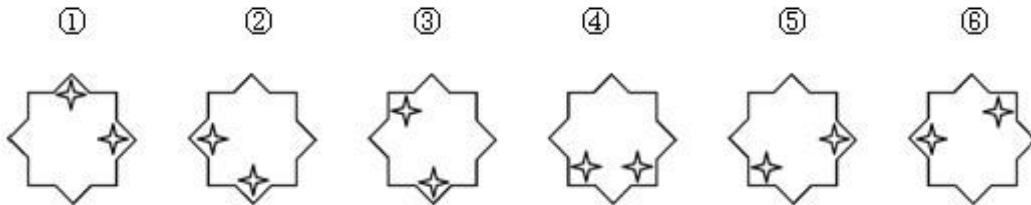
54. 下列四项去掉哪一项后，剩下的图形可以呈现出一定的规律性？



55. 从所给的四个选项中，选出最合适的一个填入问号处，使之符合已呈现的规律性

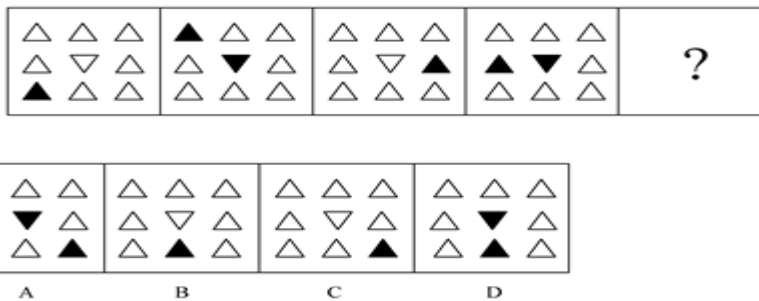


56. 把下面的六个图形分为两类，使每一类图形都有各自的共同特征或规律，分类正确的一项是：

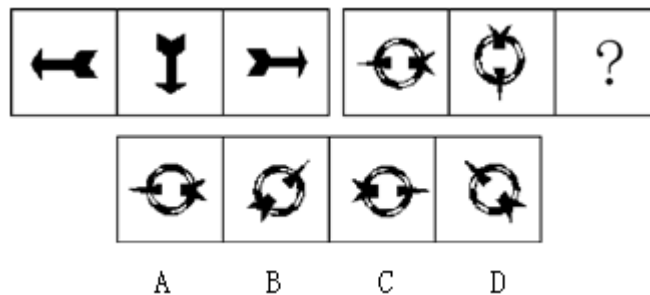


- A. ①②⑥, ③④⑤ B. ①④⑤, ②③⑥
C. ①③⑥, ②④⑤ D. ①②④, ③⑤⑥


57. 从所给的四个选项中，选择最合适的一个填入问号处，使之呈现一定的规律性。



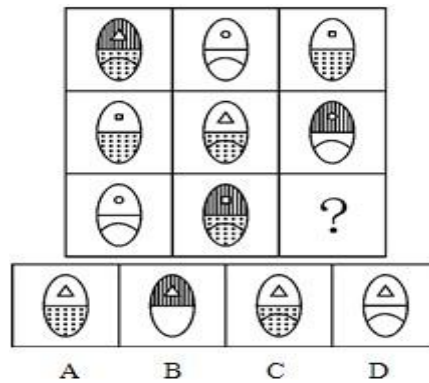
58. 从所给的四个选项中，选出最合适的一个填入问号处，使之符合已呈现的规律性



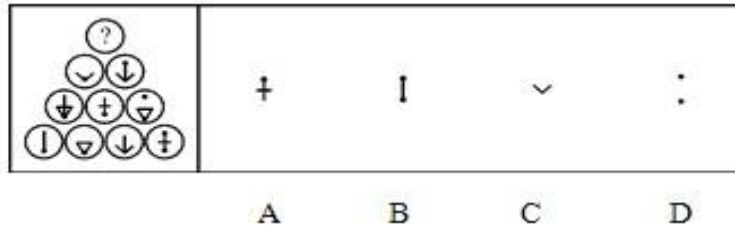
59. 从所给的四个选项中，选出最合适的一个填入问号处，使之符合已呈现的规律性



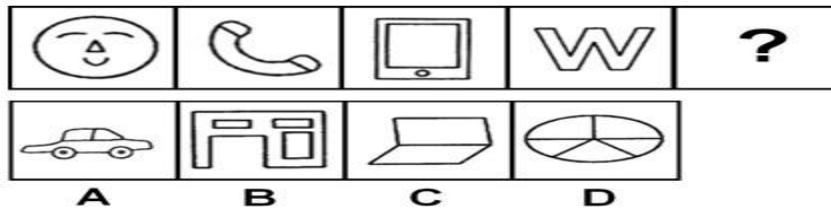
60. 下列选项中，符合所给图形的变化规律的是（ ）。



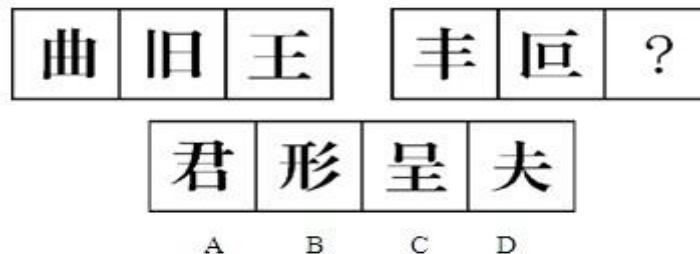
61. 下列选项中，符合所给图形的变化规律的是（ ）。



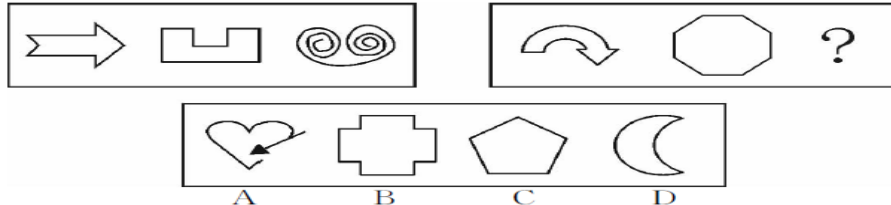
62. 从所给的四个选项中，选出最合适的一个填入问号处，使之符合已呈现的规律性



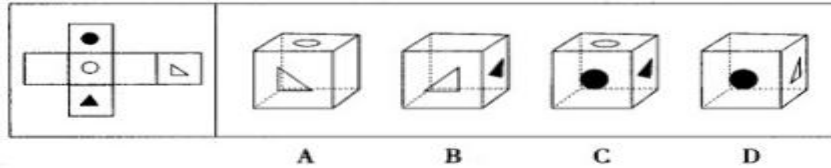
63. 从所给的四个选项中，选出最合适的一个填入问号处，使之符合已呈现的规律性



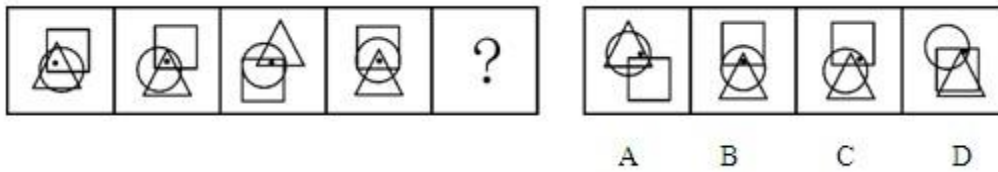
64. 从所给的四个选项中，选出最合适的一个填入问号处，使之符合已呈现的规律性



65. 左边给定的是纸盒的外表面，下面哪一项能由它折叠而成？



66. 从所给的四个选项中，选择最合适的一个填入问号处，使之呈现一定的规律性。



67. 一言既出驷马难追：吐口唾液是个钉

- A. 进山不怕虎伤人，下海不怕龙卷身：吃得苦中苦，方为人上人
- B. 穷在街上无人问，富在深山有远亲：贫贱亲戚离，富贵他人合
- C. 语未说前先考虑，鸟未飞前先展翅：话到舌尖留半句，事从礼上让三分
- D. 良药苦口利于病，忠言逆耳利于行；不听老人言，吃亏在眼前

68. 男人：女人

- A. 黑：白
- B. 左：右
- C. 高：矮
- D. 生：死

69. 共产党员：模范

- A. 矛盾：统一
- B. 文凭：智商
- C. 企业家：MBA
- D. 新陈代谢：生命

70. 管乐器：笛

- A. 哺乳动物：鲸鱼
- B. 寒冬：大雪
- C. 国庆节：纪念日
- D. 中医：草药

71. 地震：核试验（）

- A. 天灾：人祸
- B. 辛迪加：垄断
- C. 感冒：洗澡
- D. 疾病：医生

72. 芒种：成熟：节气

- A. 音响：立体：设备
- B. 流星：闪光：天体
- C. 冠礼：婚嫁：礼仪
- D. 古稀：高寿：称谓

73. 尝试：成功
- A. 奋斗：目标
B. 动力：创造
C. 劝说：接受
D. 改革：进步
74. ()之于计算机相当于()之于相机
- A. 运算——摄影
B. 公式——程序
C. 键盘——屏幕
D. 数学——风景
75. 提出之于()相当于钻研之于()
- A. 疑难-研究
B. 发现-学术
C. 理论-技术
D. 工程-思想
76. 道路：红绿灯：畅通
- A. 教室：教师：秩序
B. 运动员：拼搏：荣誉
C. 游泳池：救生员：健康
D. 国家：法律：稳定
77. 程门立雪：尊师敬道
- A. 草木皆兵：泰然自若
B. 按图索骥：事半功倍
C. 扑朔迷离：错综复杂
D. 叶公好龙：情有独钟
78. 兼济天下：独善其身
- A. 扶危济困：落井下石
B. 前车之鉴：后顾之忧
C. 出双入对：形单影只
D. 好高骛远：好大喜功
79. 蓝色：忧郁
- A. 黑色：幽默
B. 紫色：高雅
C. 白色：恐怖
D. 红色：醒目
80. 工人：人工
- A. 0913：1309
B. 9638：8693
C. 2546：6542
D. 3721：1327
81. 刑事诉讼中检查笔录，是指办案人员为确定被害人、犯罪嫌疑人、被告人的某些特征、伤害情况和生理状态，对他们的人身进行检验和观察，并做出客观记录。
- 根据上述定义，下列哪项不属于刑事诉讼中检查笔录中的检查？()
- A. 对于死因不明的被害人尸体，公安机关进行了解剖
B. 为了确定被告人具体特征，技术部门对其进行人身检查
C. 警察对犯罪嫌疑人进行搜身、拍照、指纹扫描
D. 法官在询问证人时让侦查人员出示与案件有关的物品让证人进行辨认
82. 心理契约是指个体与组织之间隐含的没有明文规定的双方各自的责任及对对方的期望。

根据上述定义，下列属于建立心理契约的措施是（ ）。

- A. 为提高员工积极性，每月业绩最好者能享受双薪
- B. 为解决员工后顾之忧，与优秀员工签订终身合同
- C. 为吸引优秀人才，承诺为员工提供购房免息借款
- D. 结合企业的发展蓝图，为员工提供职业生涯设计

83. 生态经济的操作定义为，不破坏环境、不污染环境的经济，不以不可再生资源为基础的经济。

根据上述定义，下列属于生态经济的是（ ）

- A. 某地利用开山伐树筹集来的资金修建成马路后，极大地方便了村民的出行
- B. 某市在发展煤炭经济时注重改进技术、提高资源利用率，以保护并修复环境
- C. 某村利用家畜一沼气一经济作物的沼气工程发展当地经济
- D. 某乡运用新型肥料和农药发展鱼藕混养模式，农民收成再创新高

84. 地缘文化学是文化化学研究中从局部地理、环境关系及其引起的社会、文化差异与因缘关联，探讨地理区域文化特征与发展规律的社会科学。

根据上述定义，下列属于地缘文化学研究对象的是（ ）。

- A. 微商现象
- B. 某地农业景观的开发进程
- C. 城市房价暴涨现象
- D. 某市大学生创业现象

85. 印记学习是指发生在动物生活的早期阶段、由直接印象形成的学习行为，印记学习行为虽发生在早期，但对晚期行为也具有一定影响。

根据上述定义，下列不属于印记学习行为的是（ ）。

- A. 绵羊走近并试图留在喂养过它的主人身边
- B. 由人喂养大的斑马雀会向主人的手指求偶
- C. 母羊用舌舐小羊的方式来标记自己的后代
- D. 刚出生的绿头鸭跟随着一个移动的物体走

86. 变化视盲：指在短时间内物体表面特征明显改变但人类却无法察觉的现象。

根据上述定义，下列不属于变化视盲的是：

- A. 电视剧中出现穿帮镜头，同一场戏由于不同时间拍了两次，结果主要演员穿了不同的衣服，但是大部分观众都没有发现
- B. 一个学生在向小李问路，恰巧有人抬黑板从两人之间经过，之后小李告诉对方如何走，但是他没有发现那个人已经不是刚刚问路的那个学生了

- C. 小王听了朋友在南非的一次冒险经历，很有感触，经常回想这件事，后来他竟然认为这件事是自己的亲生经历
- D. 校长看见一个男子走进对面的房子，紧接着又走出来，但是他没有发现其实走出来的是一个女人

87. 定义：

- ①夸张：指为了启发听众或读者的想象力和加强所说话的力量，用夸大的词句来形容事物。
- ②借代：指不直接把所要说的物名称说出来，而用跟它有关系的另一种物名称代替它。
- ③比喻：指用某些有类似点的事物来比拟想要说的某一事物，以便表达得更加生动鲜明。

典型例证：

- (1) 竹喧归浣女，莲动下渔舟。
- (2) 熟读王叔和，不如临症多。
- (3) 缲成白雪桑重绿，割尽黄云稻正青。

上述典型例证与定义存在对应关系的数目有 ()。

- A. 0 个
- B. 1 个
- C. 2 个
- D. 3 个

88. 已知法学 10 级 3 班有 36 人，假定下列四种说法有两个为真，其余为假：

- (1) 并非法学 10 级 3 班所有同学都去过庐山。
- (2) 法学 10 级 3 班王芳和李娜都去过庐山。
- (3) 只有法学 10 级 3 班有人去过庐山，才能说该班张斐既去过庐山，也去过三清山。
- (4) 并非法学 10 级 3 班没有同学去过庐山。

依据上述假定及其给定条件，下列判断为真的选项是 ()。

- A. 该班至少有三个同学去过庐山
- B. 王芳没有去过庐山，但是李娜去过
- C. 张斐和李娜去过庐山
- D. 王芳、李娜、张斐都没有去过庐山

89. 张大妈与李老汉同在一个市场中卖瓜子。张大妈总是用香精炒瓜子，而李老汉从不用香精炒瓜子。事实证明，用香精炒的瓜子不好卖。

据此，可以推断：

- A. 张大妈的瓜子可能好卖
- B. 张大妈的瓜子可能不好卖
- C. 李老汉的瓜子肯定好卖
- D. 李老汉的瓜子可能不好卖

90. A、B、C、D 四个女生住在同一个宿舍，她们当中有一个人正在洗水果，一个人在画画，一个人在上网，一个人在复习功课。其中：
- (1) A 不在洗水果，也不在复习功课；
 - (2) B 不在上网，也不在洗水果；
 - (3) 如果 A 不在上网，那么 D 不在洗水果；
 - (4) C 不在复习功课，也不在洗水果；
 - (5) D 不在复习功课，也不在上网。
- 下列说法正确的是：
- A. B 在复习功课，C 在画画。
 - B. C 在洗水果，D 在复习功课。
 - C. A 在上网，B 在画画。
 - D. A 在复习功课、D 在画画。
91. 当代经济的发展与竞争，已不再主要依靠密集劳动力，如在美国，整个信息高速公路工程将耗时 20 年，总投资达 4000 亿美元，要为 9500 万个家庭全部装上大容量光纤线路，耗资 2000 亿美元。可见：
- A. 未来的经济发展主要靠高技术
 - B. 未来的经济发展将不再需要劳动力
 - C. 未来的经济发展过程是一个资本密集的过程
 - D. 在未来的经济竞争中，发展中国家将越来越落伍
92. 自相矛盾是指在同一思维或论辩过程中，同一主体针对同一对象作出两个互相否定的断定。下列（ ）项断定包含自相矛盾。
- A. 在刚开始读《聊斋志异》时，小李以为所有的鬼都是青面獠牙的。等到读完全书，他却说并非所有的鬼都是青面獠牙的
 - B. 方老师在介绍生物的分类时说：“眼虫既有动物的特征也有植物的特征”
 - C. 在介绍南极洲的动物情况时，王老师说：“南极海岸地带，鸟的种类虽然少，但是鸟却很多”
 - D. 在张经理发言后，老陈说：“我基本上完全同意张经理的意见”
93. 科学家在南极洲的海底钻探揭晓了数千万年前南极洲的真实状况，他们发现了与现今截然不同的远古南极洲。在距今 4800 万—5500 万年前的始新世时期，这里湿度较高，或许拥有一片绿色海岸。
- 以下哪项为真，最能支持上述结论？
- A. 研究人员观察了分布在同一深度的海底火山锥体，发现始新世时期曾出现了大规模的火

山喷发

B. 研究发现，南极洲最温暖的地带——南设得兰群岛上生长着 200 种淡水藻类，这些藻类有时也会在冰面上生长

C. 科学家在海底沉积层中发现了木棉树的花粉，而木棉树是一种生长于热带地区的植物，它的树干不仅粗大且能储存水分

D. 在海底探测中，科学家发现了一些类似原核生物的化石，这意味着南极洲可能孕育了早期的生态形态

94. 科学家对发掘于埃塞俄比亚哈达尔遗址的南方古猿足骨的第 4 根跖骨化石进行分析研究后发现，非洲南方古猿具有定期的弓形足。他们据此认为，人类的祖先早在 320 万年前就开始像现代人一样用双脚行走。

以下哪项如果为真，最能支持上述论证？

A. 只有分析第 4 根跖骨化石，才能发现非洲南方古猿具有定型的弓形足

B. 只有南方古猿才是人类的祖先

C. 只有具有定型的弓形足，才能使用双脚行走

D. 只有使用双脚行走，才具有定型的弓形足

95. 亲生父母双方都有高血压的人，得高血压的几率是亲生父母都没有高血压的人的 5 倍，所以，高血压可能是一种遗传病，下列哪项为真，最能支持上述结论？

A. 亲生父母都有高血压的人，无论如何注意生活方式，得高血压的几率仍然很高

B. 亲生父母没有高血压的人，在和患高血压的养父母生活一段时间后，得高血压的几率会增高

C. 亲生父母都有高血压的人，在承受巨大压力时，更易得高血压

D. 亲生父母都有高血压的人，在没有出现高血压病症前，做些预防性治疗，可以降低得高血压的几率

96. 人生最遗憾的事莫过于与所爱擦肩而过。就如当你喜欢橱窗里的一件漂亮的衣服，却嫌它太贵而离去，当你做梦都梦到这件衣服，匆匆再去那间商店时，却被告知已经卖完了，你会多么的遗憾啊。如同于爱情与婚姻，当我们看到自己一见钟情的人，就应该主动与之恋爱和结婚。

以下哪项，如果为真，则最能反驳以上论证？（ ）

A. 与所爱的人擦肩而过比与一件所爱的衣服擦肩而过所引起的遗憾要大得多

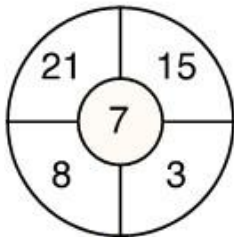
B. 有研究表明，一见钟情而结婚的夫妻的幸福感与非一见钟情而结婚的夫妻的幸福感并无明显差异

C. 事实证明，只有长久的了解和认识，才能清楚地知道对方是否为你所爱

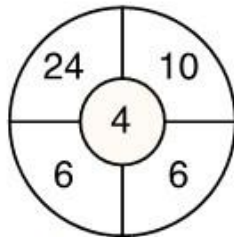
- D. 伴侣不是衣服，不能进行类比
97. 某学院最近进行了一项有关奖学金对学习效率是否有促进作用的调查。调查内容包括自习的出勤率，完成作业所需要的平均时间，日平均阅读量三项指标，结果表明，获得奖学金的学生比那些没有获得奖学金的学生的学习效率要高出 25%，由此得出结论，奖学金对帮助学生提高学习效率的作用是很明显的。
- 以下哪项最能削弱以上结论？（ ）
- A. 获得奖学金的那些同学通常是因为有好的学习习惯和高的学习效率
- B. 获得奖学金的同学可以更容易改善学习环境来提高学习效率
- C. 学习效率低的同学通常学习时间长而缺少正常的休息
- D. 对学习效率高低与奖学金多少的关系的研究应当采取定量方法进行
98. 在打猎季节，在人行道上行走时被汽车撞伤的人数是树林中的打猎事故中受伤人数的 2 倍。因此，在打猎季节，人们在树林里比在人行道上行走安全。
- 要评价上面的论证，最重要的是要知道：
- A. 打猎季节在树林中行走的人数
- B. 在打猎季节，马路上的行人和树林中人数的比例
- C. 打猎季节在人行道行走时被撞伤的人数和总人数的比例
- D. 在打猎季节，汽车司机和打猎人都能小心点，那么受伤的人数将会有所下降
99. 20 世纪 70 年代出现了大学毕业生的过度供给，过度的供给使大学毕业生的平均年收入降到了比只持有高中文凭的工人仅高 18% 的水平。到了 20 世纪 80 年代，大学毕业生的平均年收入比只持有高中文凭的工人高 43%，尽管 20 世纪 70 年代到 80 年代后期大学毕业生的供给量没有下降。
- 下面哪项，如果在 20 世纪 80 年代后期是正确的，最好地调解了上述明显的分歧？
- A. 经济放慢了，从而使对大学生的需求减少了
- B. 高中教育的质量提高了
- C. 与 20 世纪 70 年代相比，更多的高中为他们提供了职业指导计划
- D. 20 年来第一次出现了持有高中文凭的求职者的过度供给
100. 一对恋人有如下一段对话：“我最亲爱的，你能发誓说我是你的第一个恋人吗？”“当然是。这还用得着说吗？真怪，男人们为什么总要这么问我？”
- 下列哪项准确地指出了姑娘答话中存在的逻辑错误？（ ）
- A. 转移论题
- B. 两不可
- C. 倒置因果
- D. 自相矛盾

数量资料部分

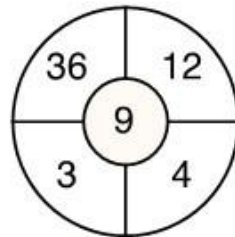
101. 21, 28, 33, 42, 43, 60, ()
A. 45 B. 56 C. 75 D. 92
102. 3, 2, 11, 14, (), 34
A. 18 B. 21 C. 24 D. 27
103. 2, 4, 6, 9, 13, 19, ()
A. 28 B. 29 C. 30 D. 31
104. 2, 3, 7, 45, 2017, ()
A. 4068271 B. 4068273 C. 4068275 D. 4068277
105. $1, \frac{7}{8}, \frac{11}{16}, \frac{1}{2}, \frac{11}{32}, ()$
A. $\frac{29}{128}$ B. $\frac{27}{64}$ C. $\frac{15}{32}$ D. $\frac{7}{32}$
106. 1, 2, 2, 6, 3, 15, 3, 21, 4, ()
A. 46 B. 20 C. 12 D. 44
- 107.



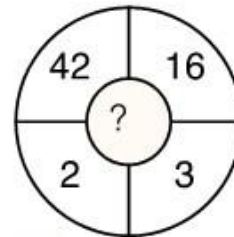
A. 14



B. 15



C. 16



D. 17

108. 已知 $X = \frac{1}{\frac{1}{2002} + \frac{1}{2003} + \dots + \frac{1}{2012}}$, 问 X 的整数部分是多少?

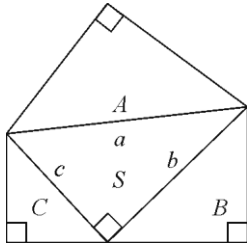
- A. 182 B. 186 C. 194 D. 196
109. 设 $x \oplus y = 2x + 3y$, $x \odot y = xy$, 且 x, y 均为正整数, 若当 $x \odot y = 6$ 时, $x \oplus y$ 取得最小值, 则 x 等于 ()
A. 2 B. 6 C. 4 D. 3
110. 50 个数, 1、2、3、2、3、4、3、4、5、4、5、6、5、6、7、6、7、8...之和是: ()
A. 568 B. 497 C. 523 D. 491

111. 1 路, 2 路和 3 路公交车都是从 8 点开始经过 A 站后走相同的路线到达 B 站, 之后分别是每 30 分钟, 40 分钟和 50 分钟就有 1 路, 2 路和 3 路车到达 A 站。在傍晚 17 点 05 分有位乘客在 A 站等候准备前往 B 站, 他先等到几路车: ()
- A. 1 路 B. 2 路 C. 3 路 D. 2 路和 3 路
112. 在数列 2, 3, 5, 8, 12, 17, 23, ... 中, 第 2012 个数被 5 除所得余数为:
- A. 1 B. 3 C. 2 D. 4
113. 用 1, 2, 3, 4, 5, 6 这 6 个数字组成不同的六位数, 所有这些六位数的平均值是:
- A. 350000 B. 355550 C. 355555.5 D. 388888.5
114. A B C D 四人去羽毛球馆打球, A 每隔 5 天去一次, B 每隔 11 天去一次, C 每隔 17 天去一次, D 每隔 29 天去一次, 5 月 18 日, 四个人恰好在羽毛球馆相遇, 则下一次相遇时间为: ()
- A. 9 月 18 日 B. 10 月 14 日 C. 11 月 14 日 D. 12 月 18 日
115. 小李所在的科室共有 5 人, 在年终测评中, 小李的四位同事得分分别为 68、92、81 和 79, 小李的得分比 5 个人的平均分高 10 分, 则小李的得分是 ()。
- A. 81 B. 88 C. 92.5 D. 90
116. 某城市共有四个区, 甲区人口数是全城的 $\frac{4}{13}$, 乙区的人口数是甲区的 $\frac{5}{6}$, 丙区人口数是前两区的人口数的 $\frac{4}{11}$, 丁区比丙区多 4000 人, 全城共有人口 ()。
- A. 18.6 万 B. 15.6 万 C. 21.8 万 D. 22.3 万
117. 小李用 150 元钱购买了 16 元一个的书包、10 元一个的计算器 and 7 元一支的钢笔寄给灾区儿童。如果他买的每一样物品数量都不相同, 书包数量最多而钢笔最少, 那么他买的计算器数量比钢笔多几个? ()
- A. 1 B. 2 C. 3 D. 4
118. 张、王、刘和李四人进行象棋比赛, 每两人之间都要赛一局。已知张胜了两局, 王平了三局, 问刘和李加起来最多胜了几局? ()
- A. 0 B. 1 C. 2 D. 3
119. 甲乙两人的年龄之和是 63 岁, 当甲是乙现在年龄的 $\frac{1}{2}$ 时, 乙当时的年龄是甲现在的年龄, 乙比甲大几岁? ()
- A. 10 B. 9 C. 8 D. 7
120. 某旅游景点商场销售可乐, 每买 3 瓶可凭空瓶获赠 1 瓶可口可乐, 某旅游团购买 19 瓶, 结果每人都喝到了一瓶可乐, 该旅游团有多少人?
- A. 19 B. 24 C. 27 D. 28

121. 某家具店购进 100 套桌椅，每套进价 200 元，按期望获利 50% 定价出售，卖掉 60 套桌椅后，店主为了提前收回资金，打折出售余下的桌椅，售完全部桌椅后，实际利润比期望利润低了 18%，余下的桌椅是打几折出售的？（ ）
- A. 七五折 B. 八二折 C. 八五折 D. 九五折
122. 某市规定，出租车合乘部分的车费向每位乘客收取显示费用的 60%，燃油附加费由合乘客人平摊。现有从同一地方出发的三位客人合乘，分别在 D、E、F 点下车，显示的费用分别为 10 元、20 元、40 元，那么在这样的合乘中，司机的营利比正常（三位客人是一起的，只是分别在上述三个地方下车多：（ ）
- A. 2 元 B. 10 元 C. 12 元 D. 15 元
123. 有 100 克溶液，第一次加入 20 克水，溶液的浓度变成 50%；第二次再加入 80 克浓度为 40% 的同种溶液，则溶液的浓度变为（ ）
- A. 45% B. 47% C. 48% D. 46%
124. 有浓度为 4% 的盐水若干克，蒸发了一些水分后浓度变成 10%，再加入 300 克 4% 的盐水后，变为浓度 6.4% 的盐水，则最初的盐水是（ ）
- A. 200 克 B. 300 克 C. 400 克 D. 500 克
125. 已知盐水若干千克，第一次加入一定量的水后，盐水浓度变为 6%，第二次加入同样多的水后，盐水浓度变为 4%，第三次再加入同样多的水后盐水浓度是多少？（ ）
- A. 3% B. 2.5% C. 2% D. 1.8%
126. 小张和小赵从事同样的工作，小张的效率是小赵的 1.5 倍。某日小张工作几小时后小赵开始工作，小赵工作了 1 小时之后，小张已完成的工作量正好是小赵的 9 倍。再过几个小时，小张已完成的工作量正好是小赵的 4 倍？（ ）
- A. 1 B. 1.5 C. 2 D. 3
127. 某招聘会在入场前若干分钟就开始排队，每分钟来的求职人数一样多，从开始入场到等候入场的队伍消失，同时开 4 个入口需 30 分钟，同时开 5 个入口需 20 分钟。如果同时打开 6 个入口，需多少分钟？（ ）
- A. 8 B. 10 C. 12 D. 15
128. 为保证一重大项目机械产品的可靠性，试验小组需要对其进行连续测试。测试人员每隔 5 小时观察一次，当观察第 120 次时，手表的时针正好指向 10。问观察第几次时，手表的时针第一次与分针呈 60 度角？
- A. 2 B. 4 C. 6 D. 8
129. 把一根线对折，对折，再对折，然后从对折后线绳的中间剪开，这线被剪成了几段？（ ）
- A. 6 B. 7 C. 8 D. 9

130. 如图所示，A、B、C 是三个等腰直角三角形，其中 A 的面积大于 B 的面积、B 的面积大于 C 的面积，它们的三条斜边 a、b、c 恰好构成一个直角三角形 S。已知 a 为定值，下列推论正确的是（ ）。

- A. S 的周长为定值 B. S 的面积为定值
C. A、B、C 面积之和为定值 D. B、C 面积之和大于 A 面积



131. 工作人员做成一个长 60 厘米，宽 40 厘米，高 22 厘米的箱子，因丈量错误，长和宽均比设计尺寸多了 2 厘米，而高比设计尺寸少了 3 厘米，那么该箱子的表面积与设计时的表面积相差多少平方厘米？（ ）

- A. 4 B. 20 C. 8 D. 40

132. 某条道路的一侧种植了 25 棵杨树，其中道路两端各种有一棵，且所有相邻的树距离相等。现在需要增种 10 棵树，且通过移动一部分树（不含首尾两棵）使所有相邻的树距离相等，则这 25 棵树中有多少棵不需要移动位置？（ ）

- A. 3 B. 4 C. 5 D. 6

133. 某学校的全体学生刚好排成一个方阵，最外层人数是 108 人，则这个学校共有多少名学生？（ ）

- A. 724 B. 744 C. 764 D. 784

134. 运动会上 100 名运动员排成一列，从左向右依次编号为 1-100，选出编号为 3 的倍数的运动员参加开幕式队列，而编号为 5 的倍数的运动员参加闭幕式队列。问既不参加开幕式又不参加闭幕式队列的运动员有多少人？（ ）

- A. 46 B. 47 C. 53 D. 54

135. 某专业有学生 50 人，现开设有甲、乙、丙三门必修课。有 40 人选修甲课程，36 人选修乙课程，30 人选修丙课程，兼选甲、乙两门课程的有 28 人，兼选甲、丙两门课程的有 26 人，兼选乙、丙两门课程的有 24 人，甲、乙、丙三门课程均选的有 20 人，问三门课程均未选的有多少人？（ ）

- A. 1 人 B. 2 人 C. 3 人 D. 4 人

136. 某单位有职工 15 人，其中业务人员 9 人。现要从整个单位选出 3 人参加培训，要求其中业务人员的人数不数少于非法业务人员的人数。问有多少种不同的选人方法？（ ）

- A. 156 B. 216 C. 240 D. 300
137. 小王和小张各加工了 10 个零件，分别有 1 个和 2 个次品。若从两人加工的零件里各随机选取 2 个，则选出的 4 个零件中正好有 1 个次品的概率为：
- A. 小于 25% B. 25%~35% C. 35%~45% D. 45%以上
138. 有编号为 1~13 的卡片，每个编号有 4 张，共 52 张卡片。问至少摸出多少张，就可保证一定有 3 张卡片编号相连？
- A. 27 张 B. 29 张 C. 33 张 D. 37 张
139. 老王和老赵分别参加 4 门培训课的考试，两人的平均分数分别为 82 和 90 分，单个人的每门成绩都为整数且彼此不相等。其中老王成绩最高的一门和老赵成绩最低的一门课分数相同，问老赵成绩最高的一门课最多比老王成绩最低的一门课高多少分？（ ）
- A. 20 B. 22 C. 24 D. 26
140. 小明、小刚和小红三人一起参加一次英语考试，已知考试共有 100 道题，且小明做对了 68 题，小刚做对了 58 题，小红做对了 78 题。问三人都做对的题目至少有几题？（ ）
- A. 4 题 B. 8 题 C. 12 题 D. 16 题
141. 一条环形赛道前半段为上坡，后半段为下坡，上坡和下坡的长度相等。两辆车同时从赛道起点出发同向行驶，其中 A 车上下坡时速相等，而 B 车上坡时速比 A 车慢 20%，下坡时速比 A 车快 20%。问在 A 车跑到第几圈时，两车再次齐头并进？（ ）
- A. 22 B. 23 C. 24 D. 25
142. 小王从家开车上班，汽车行驶 10 分钟后发生了故障，小王从后备箱中取出自行车继续赶路。由于自行车的车速只有汽车的 $\frac{3}{5}$ ，小王比预计时间晚了 20 分钟到达单位，如果之前汽车再多行驶 6 公里，他就能少迟到 10 分钟，从小王从家到单位的距离是多少公里？（ ）
- A. 12 B. 14 C. 15 D. 16

■ 华图网校介绍

华图网校（V.HUATU.COM）于2007年3月由华图教育投资创立，是华图教育旗下的远程教育高端品牌。她专注于公职培训，目前拥有遍及全国各地500万注册用户，已成为公职类考生学习提高的专业门户网站。

华图网校是教育部中国远程教育理事单位。她拥有全球最尖端高清录播互动技术和国际领先的网络课程设计思想，融汇华图教育十余年公职辅导模块教学法，凭借强大师资力量与教学资源、利用教育与互联网的完美结合，真正为考生带来“乐享品质”的学习体验，通过“高效学习”成就品质人生。

华图网校课程丰富多元，涵盖公务员、事业单位、招警、法院、检察院、军转干、选调生、村官、政法干警、三支一扶、乡镇公务员、党政公选等热门考试、晋升及选拔。同时，华图网校坚持以人为本的原则，不断吸引清华、北大等高端人才加入经营管理，优化课程学习平台，提升用户体验，探索网络教育新技术和教学思想，力争为考生提供高效、个性、互动、智能的高品质课程和服务。

华图网校将秉承“以教育推动社会进步”的使命，加快网站国际化进程，打造全球一流的网络学习平台。

我们的使命：以教育推动社会进步

我们的愿景：德聚最优秀人才，仁就基业长青的教育机构

我们的价值观：诚信为根、质量为本、知难而进、开拓创新。

- 咨询电话：400-678-1009
- 听课网址：v.huatu.com（华图网校）