

2014年7月30号甘肃省万人模考

《行测》部分模拟试卷

第一部分 常识判断参考解析

1、党的十八大报告提出，要促进国民经济又好又快发展。（ ）是改革开放和社会主义现代化建设的根本目的。

- A. 提高自主创新能力，建设创新型国家
- B. 加快转变经济发展方式，推动产业结构优化升级
- C. 统筹城乡发展，推进社会主义新农村建设
- D. 提高人民物质文化生活水平

2、2013年政府工作报告中，建立健全城镇保障性住房制度，覆盖面逐步扩大，2012年底已达到（ ）。社会保障制度建设取得历史性的巨大成就。

- A.11.5% B.12.5% C.13.5% D.14.5%

3、从哲学上讲“焚林而田，竭泽而渔”的做法（ ）

- ①否认了世界的物质性
 - ②忽视了意识能够反作用于客观事物
 - ③无视事物之间联系的客观性
 - ④只顾眼前利益，不顾长远利益，没有正确把握事物的因果联系
- A.①②③ B.②③④ C.①② D.③④

4、我国古代历史上公认的的三大名楼分别是：（ ）

- A.鹤雀楼、滕王阁、岳阳楼
- B.黄鹤楼、鹤雀楼、岳阳楼
- C.滕王阁、岳阳楼、黄鹤楼
- D.滕王阁、岳阳楼、蓬莱阁

5、许多流传至今的成语、典故都出自我国古代著名的历史故事，下面哪些成语、典故全部出自于”三国“时期：（ ）

- A.三顾茅庐、洛阳纸贵、乐不思蜀
- B.桃园结义、草船借箭、破釜沉舟
- C.吴下阿蒙、舌战群儒、望梅止渴
- D.南阳卧龙、风声鹤唳、七擒七纵

6、下列关于累犯说法不正确的是（ ）

- A.一般累犯是指被判处有期徒刑以上刑罚的犯罪分子，刑罚执行完毕后，在五年以内再犯应当判处有期徒刑以上的刑罚之罪的，是累犯
- B.特殊累犯是指危害国家安全犯罪、恐怖活动犯罪、黑社会性质的组织犯罪的犯罪分组，在刑罚执行完毕后赦免后，在任何时候再犯上述一类罪的，都以累犯论处
- C.累犯适用于缓刑、假释
- D.累犯应当从重处罚

7、根据法律规定，下列可免征个人所得税的是：（ ）

- A.学生张某在校期间通过勤工俭学获得收入 2000 元
- B.王某购买财产保险，因财产损失获得保险赔款 10 万元

- C.残疾人赵某因急需治病而将自己的房产转让所获得收入 15 万元
- D.运动员李某荣获奥运金牌而得到的户籍所在地人民政府颁发的奖金 10 万元
- 8、我国的酒文化源远流长，制酒方法也多种多样，下面按照制酒原料来分类，不正确的一项是（ ）
- A.茅台酒、汾酒、五粮液
- B.汾酒、竹叶青、五粮液
- C.茅台酒、泸州老窖特曲、汾酒
- D.五粮液、西凤酒、汾酒
- 9、我国的传统节日形式多样，内容丰富，是我们中华民族悠久的历史文化的组成部分。下面关于我国传统节日说法正确的是（ ）
- A.农历正月十五为元宵节，又称上元节，是佛教：“三元节”之一
- B.清明节有“鬼节”之称，有扫墓、踏青之俗。节日活动还有荡秋千、放风筝等
- C.端午节又称端阳节，是为了纪念我国古代爱国诗人屈原，端午节的习俗有：吃粽子、赛龙舟、饮雄黄酒、出游登高、挂香袋等。
- D.重阳节又称重九节，传统习俗有：插茱萸、赏菊、戴艾蒿
- 10、下面毛主席创作的诗词中，和其他几首不属于同一历史时期的是（ ）
- A.六盘山上高峰，红旗漫卷西风，今日长缨在手，何时缚住苍龙
- B.雄关漫道真如铁，而今迈步从头越。从头越，苍山如海，残阳如血
- C.钟山风雨起苍黄，百万雄师过大江。虎距龙盘今胜昔，天翻地覆慨而慷
- D.金沙水拍云崖暖，大渡桥横铁索寒，更喜岷山千里雪，三军过后尽开颜
- 11、和平和发展仍是当今世界的两大主题。我国致力于全面建成小康社会，希望营造良好的国际环境。欧盟是世界上一支重要力量，加强与不断发展中欧关系是我国外交政策的重要组成部分。下面关于欧盟说法正确的一项是（ ）
- A.欧盟总部设在比利时首都布鲁塞尔，初始成员国有 6 个，分别为法国、民主德国、意大利、比利时、荷兰以及卢森堡。
- B.欧盟主要经历了三个阶段：荷卢比三国经济联盟、欧洲共同体、欧盟。1991 年 12 月，欧洲共同体马斯特里赫特首脑会议通过《欧洲联盟条约》，1993 年 11 月 1 日，《马约》正式生效，欧盟正式诞生。
- C.欧盟理事会是一个由来自欧盟成员国各国首脑所组成的理事会，是欧盟的主要决策机构之一。每一个国家在理事会中都有一名代表。
- D.2011 年欧盟获得诺贝尔和平奖。
- 12、2013 年 1 月份，全国 PPI 同比下降 1.6%，环比上涨 0.2%。工业生产者购进价格同比下降 1.9%，环比上涨 0.3%。这里的 PPI 是指（ ）
- A.社会消费品零售指数
- B.居民消费价格指数
- C.生产者物价指数
- D.城镇居民生活指数
- 13、基尼系数：是意大利经济学家基尼于 1922 年提出的，国际上用来综合考察居民内部收入分配差异状况的一个重要分析指标。这个指数在零和一之间，数值越低，表明财富在社会成员之间的分配越均匀；反之亦然。通常把 0.4 作为收入分配差距的“警戒线”。那么当基尼系数的区间在 0.4—0.5 之间意味着分配（ ）
- A.比较平均
- B.差距较大
- C.相对合理
- D.差距悬殊
- 14、下列说法正确的是（ ）
- A.长江是世界第二长河，亚洲第一长河，发源于青藏高原

- B.黄河是亚洲第二长河，发源于青藏高原的唐古拉山主峰各拉丹冬雪山
C.长江流经青、川、藏、渝、鄂等 11 个省级行政区域，最后注入东海
D.黄河流经青、川、甘、宁、陕等 8 个省级行政区域，注入渤海
- 15、关于世界之最，下列叙述正确的是（ ）
A.流经国家最多的河流是尼罗河
B.最长的内流河是亚马逊河
C.最大的淡水湖贝加尔湖
D.最大的内海是地中海
- 16、关于 19 世纪下半期和 20 世纪初期的“唯意志论”，下列说法不正确的是（ ）
A.代表人物是叔本华和尼采
B.主要观点是“意志是宇宙的本体”
C.先于马克思主义哲学产生
D.受印度哲学和佛学影响较大
- 17、下列国际单位对应不正确的一组是：
A.功率——瓦特
B.频率——赫兹
C.电阻——欧姆
D.电流——伏特
- 18、下列社交礼仪中不正确的是：
A.与人握手的力度应该在两公斤左右
B.为他人作介绍时，应当先将级别高的介绍给级别低的人，以示尊重
C.单排扣西服，三个扣眼时，可只扣第二个
D.主人亲自驾小轿车送客人时，客人应坐在驾驶座的右侧位
- 19、下列关于我国传统节日的描述，与古代的说法或传说不相符的是（ ）
A.元宵节又称上元节、春灯节、小正月等。起源于汉文帝纪念平定“诸吕之乱”，汉武帝时祭祀太一神，汉明帝时挂灯礼佛。
B.端午节又称端阳节、午日节、五月节、重午节等。国家法定节假日，2009 年入选世界非遗的节日。
C.中秋节又称秋夕、八月节、月夕、月节、团圆节等，国家法定节假日。有关传说：唐军祝捷；朱元璋领导的反元起义军利用饼中藏纸条传送起义消息。
D.重阳节又称重九节、踏秋节，宋代被正式定为民间的节日。2012 年 6 月，《老年人权益保障法修订草案》规定重阳节为“老年节”。
- 20、下列关于维生素说法正确的是（ ）
A.人体缺乏维生素 C 容易患夜盲症
B.人体可以少量合成的维生素是维生素 D，缺乏维生素 D 易患软骨病
C.维生素 B2 具有脂溶性，缺乏 B2 易患口腔溃疡
D.人体缺乏维生素 A 易患坏血病

第二部分 言语理解参考解析

21. 尽管诗歌绝无翻译的可能，却大有翻译介绍的必要。有多位前辈时贤对诗歌翻译理论不乏鞭辟入里的。然而，何谓诗歌翻译的理想形式却。依次填入划横线部分最恰当的一项是（ ）。
- A.不易之论 各持己见
B.远见卓识 众说纷纭
C.真知灼见 各执一端
D.不刊之论 见仁见智

22. 当今世界正处在大发展大变革大调整时期，和平、发展、合作的理念更加深入人心。世界多极化、经济全球化深入发展，各国经济相互依存日益加深，新兴市场国家和发展中国家快速成长，区域经济合作_____，科技创新_____新突破，国际经济秩序深刻变化。

依次填入画横线部分最恰当的一项是（ ）。

- A.方兴未艾 孕育 B.气势磅礴 包含
C.如火如荼 蕴育 D.方兴未已 蕴含

23. 曹操平乱以后，内兴文学，广罗文士，复活诗歌传统，是建安文学的_____者。他一生喜爱乐府，所写几乎全是乐府歌辞。这些歌辞虽_____汉代乐府古题，却不_____古辞古意，而是抒发自己的感受。

依次填入画横线部分最恰当的一项是（ ）。

- A.开发 延用 遵循 B.先驱 效法 墨守
C.倡导 推崇 盲从 D.开创 沿用 因循

24. 小小说起步于上个世纪 80 年代，对其创作产生影响的是 20 世纪 50 年代前苏联和东欧的小小说以及中国古代笔记体小说。其时，现代主义大潮_____，五花八门的新概念、新技法令人_____，影响着新时期以来小说的创作与发展。而此时的小小说创作却_____于小说主流大潮之外，其发展的过程始终缺乏现代主义的精神。

依次填入画横线部分最恰当的一项是（ ）。

- A.风云突变 应接不暇 踟蹰 B.汹涌澎湃 目不暇接 游走
C.风起云涌 眼花缭乱 游离 D.日新月异 扑朔迷离 徘徊

25. 壮哉晋商。追寻晋商由盛及衰的_____，我隐隐感受到了时代脉搏的_____，在启迪我透过历史的迷雾，去_____先人们_____的呼喊，倾听敬业、忠义、诚信的誓言。

依次填入画横线部分最恰当的一项是（ ）。

- A.形迹 跳动 领会 撼天震地 B.原因 悸动 领悟 震耳欲聋
C.踪迹 律动 领略 振聋发聩 D.缘由 波动 了解 铿锵有力

26. 文化“必定有异”，文明“难免有异”；文化“必须存异”，文明“可以存异”。这就是文化与文明的区别。所以，文化可以交流，甚至融合，但最终“存异”。文明的趋向，却是“求同”。因为文明的背后，是核心价值；而只有人类的共同价值，才最有价值。由此可见，只要把握了全人类的共同价值，又能兼收并蓄各民族的不同文化，那就能打造出自己的“文化航母”。

根据这段文字，不能得出的观点是（ ）。

- A.“求同”是打造文化航母的根本 B.文化对“异”的包容程度要宽于文明
C.世界文明存在着不同价值取向 D.文化即使融合也难以消除差异

27. 文物价值观具有相对的稳定性和持久性，但也会随着社会环境、个人人生观、世界观的改变而发生变化。由于社会地位、文化差异、利益关系等原因，使得人们的文物价值观在不同的时间、地点、场合都会表现出很大的不同。政府的文物价值观可能取决于决策人员——文物工作者的文物价值观，通常会表现出相对的先进性、积极性和稳定性，一般民众的文物价值观则依赖于国家政策、社会舆论导向、个人文化素质等因素。

这段文字主要谈论的是（ ）。

- A. 文物价值观变迁的原因 B. 不同文物价值观的优缺点
C. 文物价值观差异性的表现形式 D. 文物价值观存在差异的原因

28. 中国的粮食问题，仍然还是要靠自己，这是中国作为一个人口大国的国情所决定的。粮价是市场创造过程的客观结果，我们与其在价格干预上绞尽脑汁，不如把目光放长远，切实

在农业基础设施、农业技术进步方面下大力气，珍惜每一寸土地，利用好每一项要素投入，保持粮食产量的稳定增长和粮食自给率的合适水平。在此基础上，才可能有“不管风吹浪打、胜似闲庭信步”的底气。

文中划线的“此基础”表示（ ）。

- A. 引进国外先进的农业技术，改变农业生产结构
- B. 提高粮食的销售价格，调动农民种粮的积极性
- C. 改善农业生产要素，保证足够适量的粮食产量
- D. 加大宏观调控，避免粮食市场掉入盲目的误区

29. 以往认为最适合哲学的领域，如今已被对人类存在的各方面经验作出成功解释的科学所占领。在一个信息技术取得支配地位的世界里，哲学似乎已败下阵来。它至少不能把智慧切成一个个可以测量的小块提供给人们。在 20 世纪，有无数哲学家讥讽自己从事的学科，认为哲学活动在经历了三千年之后，至今还在希望能把我们引向真理，那不过是遥遥无期的幻象而已。然而，哲学仍然比以往任何时候都受人喜爱，这或许是因为近几十年来，哲学一直从科学和其他学科中寻求庇护，而今已从这种专业束缚中解脱出来的缘故吧。

这段文字意在说明（ ）。

- A. 当前哲学所面临的危机，恰恰为其发展提供了机遇
- B. 对哲学命运的悲观认识，致使很多哲学家妄自菲薄
- C. 哲学智慧内涵丰富，不能仅依经验作为评价标准
- D. 哲学现今所获得的独立性，赋予其新的魅力与动力

30. 一位著名企业家从百折不挠的拼搏经历中总结出了“冰淇淋哲学”，即卖冰淇淋必须从冬天开始，因为冬天顾客少，会逼迫你降低成本，改善服务。如果能在冬天生存，就再也不会害怕夏天的竞争。

根据本段文字，“冰淇淋哲学”主要强调了（ ）。

- A. 逆境对培养企业的竞争力非常重要
- B. 选择一个好的时机，企业就成功了一半
- C. 企业在创业阶段难免会遇到很多困难
- D. 企业应注重降低成本，提高服务质量

31. 陈玉蓉，是湖北武汉一位的母亲。她的儿子叶海滨 13 岁那年被确诊患有肝豆状核病变，这种肝病可能导致死亡。为了挽救儿子的生命，陈玉蓉请求医生将自己的肝移植给儿子。可是，她患有重度脂肪肝，无法捐肝救子。当晚她就开始了减肥之旅。随后的 7 个多月里，她每餐只吃半个拳头大的饭团，有时夹块肉送到嘴边又放下。每天坚持暴走 10 公里，走破了四双鞋子，脚上的老茧长了就刮，刮了又长。当她再次去医院检查时，医生都感叹：“从医几十年，还没有见过一个病人能在短短 7 个月同人消除脂肪肝，更何况还是重度的。” 2009 年 11 月 3 日，这对母子在武汉同济医院顺利地进行了肝脏移植手术。

最适合作上述这段文字标题的是（ ）。

- A. 一位平凡而伟大的母亲
- B. “暴走母亲”陈玉蓉
- C. 平凡母亲陈玉蓉捐肝救子
- D. 陈玉蓉每日暴走 10 公里减肥割肝救子

32. 在美国，学术界、工业界、主管部门和多数消费者倾向于认为用豆浆代替牛奶是一种更健康的选择。不过，绝大多数西方人很不喜欢豆味，所以美国的豆浆有一步去除或掩盖豆味的操作，而中国人就会觉得这样一点儿豆浆味也没有。对奶味的偏好和对豆味的排斥，是豆浆在西方不够受欢迎的主要原因。此外，豆浆在保存过程中比牛奶容易发生聚集下沉，这也给豆浆成为牛奶那样的方便食品带来了难度。保存难度高，加上市场需求量不是那么大，导

致美国豆浆的价格远远高于牛奶。

对这段文字的主旨概括最准确的是（ ）。

- A. 对比中国人和西方人对豆浆口味的不同喜好
- B. 剖析豆浆在美国市场上价格偏高的原因
- C. 探究豆浆在西方市场不受欢迎的根本原因
- D. 指出豆浆打入美国市场所必需的技术手段

33.每个人都希望自己的工作水平和能力能有所长进。但实际上总有一些人，确实就停留在一个水平上没有任何进步，甚至退步。安于现状，今天和昨天没有什么不同，明天也不会有什么新的打算。这种心态让一些人做什么事情都提不起劲来。能不能长进，怎样能长进，需要每一个职场中人认真思考。激情地投入工作与麻木而呆滞地工作，是完全不同的两个天地。这段话的主旨是（ ）。

- A.在职场中要充满激情地工作 B.态度决定“高度”
- C.职场中人应对未来有计划D.每个人都应该提高自己工作水平和能力

34.勒·克莱齐奥摘取 2008 年诺贝尔文学奖，在中国算是个“爆冷”的消息。毕竟，尽管在将近 20 年的时间里，他的作品只零零星星地在国内图书市场上出现过；尽管他是中国最早译介过来的法国当代作家之一，国内读者对他的认识怕是还停留在名字的阶段。甚至仅仅是名字，也是相当一级的法国文学爱好者才听说过。这既不说明读者无知，也不说明诺贝尔奖所谓的“独特品味”，而只是说明一直存在的文学与大众文化的差距而已，差距本身并没有高低之别。

对这段文字理解正确的是（ ）。

- A. 获诺贝尔奖的作品大多曲高和寡
- B. 勒·克莱齐奥的作品在国内不畅销
- C. “独特品味”使诺贝尔奖脱离大众文化
- D. 国内读者对诺贝尔奖获奖作品了解较少

35.改造创新后的孝德，与“文化糟粕”截然不同，理应属于民族优秀传统文化传统范畴，在高校德育内容中完全应占有一席之地。_____。例如，可通过专题讲座、主题班会等活动，让大家直接参加孝文化的讨论，增进对孝德教育的理性认同。

填入上面横线的句子，与上下文衔接最恰当的一项是（ ）。

- A.那么，可以采取哪些方式进行呢
- B.因此，应在开展大学生德育工作中加入孝德元素，使之参与育人过程
- C.在高校进行孝德教育的形式可以是多种多样的
- D.但是，只有丰富多彩的教育形式才能收到好的成效

36.目前正在向世界各地全面拓展的汉语国际推广活动，必须将海外华人族群文化的现状考虑在内，以全面促进汉语国际推广、弘扬中华文化来发展软实力是一回事，支持海外华人文化从中华文化的母体脱胎而出、成为当地社会的族群文化又是另一回事。如果以前者来取代后者，就会混淆华人学习母语与学习一种外国语的界限，混淆配合海外华人构建自己的族群文化与弘扬中华文化的界限，对维护和发展华人与中国的正常关系是不利的。

这段文字强调的是（ ）。

- A.应注意维护和发展海外华人与中国的正常关系
- B.发展中华文化软实力应与支持海外华人族群文化齐头并进
- C.海外华人文化应与中华文化巧妙融合，同时保有自身的特色
- D.汉语国际推广活动的前提之一是支持海外华人构建自己的族群文化

37.心理矫治作为一项专业性、科学性很强的教育改造手段，其意义不仅在于促进服刑人员改造，也在于降低服刑人员出狱后重复犯罪的几率。当然，由于我国心理学学科建设尚未成熟，心理矫治工作虽然在监狱管理系统中已初见成效，但在监狱系统中大范围运用还需假以时日。

这段文字主要是说心理矫治（ ）。

- A. 在监狱管理中发挥着重要作用
- B. 亟待在大范围运用
- C. 是一种处于发展中的有效教育改造手段
- D. 发展有赖于心理学学科建设的发展成熟

38.毫无疑问，电视节目主持人是当今社会颇具影响力的人群之一。借助大众传媒的影响，主持人成为公众人物。他们的角色因此不同于普通人，而是集社会角色、媒介角色及个人角色于一体的特殊角色。选择了这一职业，不仅仅意味着选择了鲜花和掌声，财富和荣耀，更意味着选择了媒体和社会必然赋予他们的责任。

这段文字意在强调（ ）。

- A. 大众传媒的发展使主持人具备特殊的影响力
- B. 主持人作为公众人物发挥着特殊的社会作用
- C. 职业的特殊性决定了主持人所应肩负的责任
- D. 主持人应借助传媒的影响扩大其社会影响力

39.①将会造成时间上的错位，舍近求远

②靠单纯大力发展新能源，远水解不了近渴

③如果忽视了这点，而盲目发展可再生能源的“装机容量”

④目前而言，最需要重点对待的是传统能源的改进和合理利用

⑤但是可再生能源（含水能）产量只相当于6亿吨标准煤，约占全部能耗的13%

⑥根据目前的能源消耗水平进行测试，到2020年，我国总耗能约达45亿吨标准煤

将以上6个句子的顺序重新排列，语序正确的是（ ）。

- A. ⑥②①③④⑤
- B. ⑥⑤②④③①
- C. ④⑥①⑤②③
- D. ④③①⑥②⑤

40.①新兴城市也有杂乱的居民大院，但那不是严格意义上的杂院

②居住者不是高官显贵，便是富商大贾

③大杂院是城市的“特产”

④产大杂院的城市得有一把年纪

⑤大杂院是什么时候出现的，没看过有关的考证，猜想大约在晚清之后

⑥晚清之前这些院子就都存在了，但那时不叫大杂院，叫府第或大宅门

将以上6个句子的顺序重新排列，语序正确的是（ ）。

- A. ③④①⑤⑥②
- B. ③⑤④⑥②①
- C. ⑤⑥②③①④
- D. ⑤③④②⑥①

41.第二次世界大战后，多数先行国家的行政重心逐渐向社会福利管理转移，它们的人口基础管理，普遍形成了一种以“人口服务”为主的新体制。这种体制并没有放弃人口的管控，只是这种管控的核心目标是人口服务，基本手段是人口服务，表现形式也是人口服务。它将管控寓于服务之中，而不是相反，我国社会转型下的人口管理，显然也面临着类似的调整。以下表述与这段文字意思不相符的是（ ）。

A.我国的人口管理应确立人口服务的管理宗旨

B.人口管控与人口服务是完全不同的两种模式

C.先行国家的人口管理转型是行政重心转移的结果

D.人口管理的新体制通过人口服务实现人口管控

42.辛亥年到来的时候，似乎没有迹象表明，这将是这个铁血帝国的最后一年，这一年是从隆裕皇太后万寿圣节(正月初)的歌舞升平开始的，而在这一年行将结束的十二月二十五(公元1912年2月12日)，隆裕却颁布了一纸退位诏书，中国的封建政权就此曲终人散。历史的急转直下，在当时绝大多数人(包括革命领袖)看来都是不可思议的。

上面一段文字，意在说明()。

A.大清帝国何以灭亡

B.历史潮流不可阻挡

C.辛亥革命何以成功

D.历史发展有其规律

43. ①有些科学家认为，动物游戏是为了“自我娱乐”，而“自我娱乐”是动物天性的表现

②越是进化程度高、智力发达的动物，这种“自我娱乐”的天性越强

③自得其乐的游戏能够调剂动物紧张的自然竞争

④正像捕食逃避敌害、繁殖行为等是动物的天性一样

⑤这种游戏还能使动物在生理上、心理上容易保持平衡，从而得到一定的自我安抚和自我保护

⑥游戏正是自我娱乐的集中表现

将以上6个句子重新排列，语序恰当的一项是()。

A.①④②⑥③⑤ B.③⑥①④②⑤

C.①②④③⑥⑤ D.③②⑥④⑤①

44.俗话说“第一印象很重要”。心理学上所讲的首因效应，就表明了人际交往中第一印象会对之后对他人的知觉产生重要的影响。第一印象作用最强，持续的时间也长，比以后得到的信息对于事物整个印象产生的作用都更强。因此，尽管有时第一印象并不完全准确，但第一印象总会在决策时，在人的情感因素中起着主导作用。在交友、招聘、求职等社交活动中，我们可以利用这种效应，展示给人一种极好的形象，为以后的交流打下良好的基础。当然，同时也要避免因为这种效应而先入为主地对他人形成有偏差的认识。

这段文字主要谈论的是()。

A.运用第一印象总能起到有利作用

B.注重心理学知识的应用有助于日常生活

C.第一印象的重要原因和应用方法

D.只重第一印象不利于全面认识他人

45.为了对抗通货膨胀，新兴市场经济国家纷纷被迫选择升息，以降低经济热度。发达国家恰恰相反，由于经济复苏乏力，利率政策近零也没有刺激作用，最后只能选择扩大所谓的量化宽松规模——由央行购买政府债券。但是，即使是这样，商业银行的消费贷款和企业贷款数字仍然徘徊在低位——说明没有人敢借钱，利率再低也没有人借。贷款没有人要，说明实体经济很冷，于是只能指望汇率再低一点，以取得相对竞争优势。于是汇率之争就愈演愈烈。

根据这段文字，可以知道()。

A.新兴市场经济国家应当适当下调利率

B.发达国家需要警惕经济过热的不利影响

C.发达国家降代汇率是不得已的选择

D.合理利用利率杠杆有助于实体经济复苏

46.我并不想美化网络文学，但认为，如果要理解网络文学，必须先破除一个误区：所谓欲

望，就一定是低级欲望；所谓匮乏，就一定是无聊的匮乏。有些欲望和匮乏不仅是正当的，甚至是高尚的——有弱肉强食的现实法则不能包容的欲望，有小康社会的平庸生活不能满足的匮乏。

这段文字意在说明（ ）。

- A.网络文学是不值得提倡的
- B.人们应消除对网络文学存在的误解
- C.网络文学虽然表达一些低级欲望和无聊匮乏，但我们要给予包容
- D.人们呼唤网络文学以满足低级欲望和无聊的匮乏

47.据初步统计，我国已经发现的不可移动文物点近 47 万处，博物馆约 2900 家，粗略估计，全国文物藏品不超过 2000 万件。这些数字是什么概念？英格兰面积只有我国的 1/73，而其受到国家登记保护的文物点达到 50 万处，各类博物馆有 3000 余家，其中大英博物馆目前就拥有藏品 700 万件。建国历史仅 200 多年的美国，各类大小博物馆也有 16000 余家，其中美国斯密森博物院收藏的文物藏品就多达 1.3 亿件。

这段文字意在说明（ ）。

- A. 我国对文物的保护和重视远远不够
- B. 政府应成为保护文物的中坚力量
- C. 我国应加大对文物的发掘和管理力度
- D. 各国对文物的判定标准不尽相同

48.地球上的岩石可以分为火成岩、沉积岩、变质岩。由硅酸盐熔浆凝结而成的火成岩构成了地壳的主体，按体积和重量计算都最多，但地面最常见到的则是沉积岩，它是早先形成的岩石被破坏后，又经过物理或化学作用在地球表面的低凹部位沉积，经过压实，胶结再次硬化，形成了具有层状结构特征的岩石。在地壳中，在大大高于地表的温度和压力作用下，岩石的结构、构造或化学成分发生变化，形成不同于火成岩和沉积岩的变质岩。

这段文字主要介绍了地球上各类岩石的（ ）。

- A. 形成条件
- B. 结构特征
- C. 地质分布
- D. 化学成分

49.科学家一直认为大脑中的“语言中心”让我们有别于人类的血缘近亲——猴子。但是，最近一项新研究发现，与人类语言能力有关的大脑区域所在位置与科学家此前认为的截然不同。这个控制语言能力的区域距离大脑中央更近，比此前认为的近了 3 厘米。这意味着，人类大脑与猴子大脑的相似度超出此前预计，我们可能需要重新审视猴子和人类语言的起源。

这段文字意在说明（ ）。

- A.猴子和人类语言起源的关系可能比想象得更密切
- B.人类大脑与猴子大脑的相似度远远超出我们的想象
- C.人类大脑中“语言中心”位置可能与此前认为的不同
- D.大脑中“语言中心”位置决定了人类和猴子的区别

50.爱、敬畏、献身精神、同情心、辨别善恶的能力以及将理想付诸行动的执行力，这些素质反映了一个人的品格。过去，孩子们是从他们所处的文化中、生活的内容里接受了这些品质。现在我们却目睹了所有这些品质在世界大部分地方崩溃。如果不想让孩子们失去培养这些人类宝贵品质的机会，就必须有意识地依靠教育来培养他们。

这段文字强调的是（ ）。

- A.教育对培养品格的重要性
- B.人类品质的崩溃对孩子的影响
- C.孩子们是如何学会人类品质的
- D.人类的诸多品质已渐渐崩溃

第三部分 数量关系

51. 口袋里有足够多的红、白、蓝三种颜色的球，某班级学生轮流从袋中取球，每人各取 3 个球，若要保证有 4 个人取出的球颜色完全相同，则该班级至少有()人。

A.25 B.29 C.31 D.40

52. 假日里有 57 位同学去郊外野餐，他们分成 3 人或 4 人一个小组进行准备，可以都是分成 3 人一组，这算一种分组方法；也可以分成若干 3 人组，若干个 4 人组。3 人组和 4 人组的个数不同就是不同的分组方法。那么，不同的分组方法有()种

A.7 B.6 C.5 D.4

53. 有 3 根钢管，分别长 200、240 和 360 厘米，现在要把这三根钢管截成尽可能长且又相等的小段，一共需要锯()次？（一次只能锯一根钢管）

A.20 B.19 C.17 D.16

54. 三条圆形跑道，圆心都在操场中心的旗杆处。甲、乙、丙三个人分别在里圈、中圈、外圈沿相同方向跑步。已知里圈、中圈、外圈的跑道分别长 200 米、240 米和 400 米，甲乙丙每分钟分别跑 160 米、200 米和 300 米。开始时，三个人与旗杆位于同一直线上。问，经过多长时间，他们三人()分后第一次同时回到出发点。

A.60 B.120 C.48 D.96

55. 小李练习打算盘，他按照自然数的顺序从 1 开始求和，当加到某个数时，和是 480，但他发现计算时少加了一个数，则小明少加的数为()

A.15 B.16 C.17 D.18

56. 甲、乙两人按顺时针方向沿圆形跑道练习跑步，已知甲跑一圈要 12 分钟，乙跑一圈要 15 分钟，如果他们分别从圆形跑道直径的两端同时出发，那么出发多少分后甲第二次追上乙？()

A.30 B.60 C.90 D.120

57. 甲、乙两人同时开始加工一批零件，每人加工零件总数的一半，甲完成任务的 $\frac{1}{3}$ 时，乙加工了 50 个零件。甲完成 $\frac{3}{5}$ 时，乙完成了一半，问这批零件共()个？

A.180 B.240 C.300 D.360

58. 小红到商店买了相同数量的红球和绿球，红球原价 2 元 3 个，绿球原价 3 元 5 个。新年优惠，两种球都按 1 元 2 个卖，结果小红少花了 8 元钱，问小红一共买了多少个球？()

A.30 B.95 C.64 D.60

59. 某种商品由于进货价降低了 15%，使得利润率提高了 21%，则现在的利润率为()

A.30% B.35% C.40% D.45%

60. 一个长方形可将平面分成 2 部分，则两个长方形最多可将平面分为()部分。

A.6 B.8 C.10 D.12

61. 一项工程，交甲工程队做需 30 天完成，每天工程费用 $\frac{2}{3}$ 万元；交乙工程队做需 40 天完成，每天工程费用 $\frac{1}{4}$ 万元，为了在 20 天内完成，安排甲、乙两队共同参与这项工程，如果两队工作的天数可以不一样，那么，两队共同完成这项工程的总费用至少需要()万元。

A.10 B.12 C.15 D.17

62. 一把小刀售价 3 元。如果小明买了这把小刀，那么小明与小强剩余的钱数之比是 2:5；如果小强买了这把小刀，那么两人剩余的钱数之比变为 8:13。小明原来有()钱？
A.12 B.15 C.24 D.30
63. 某市有大型超市 200 家，中型超市 400 家，小型超市 1400 家，为掌握各类超市的经营情况，按分层抽样法抽取一个容量为 100 的样本，则应抽取中型超市()家
A.80 B.70 C.20 D.10
64. 解放军某部快艇追击敌舰，追到 A 岛时敌舰已逃离该岛 12 分钟，敌舰每分钟行 1000 米，我军快艇每分钟行 1380 米。如果距敌舰 600 米处可以开炮射击，解放军快艇从 A 岛出发经过多少分钟可以开炮射击敌舰？()
A.30 B.50 C.45 D.60
65. 一个圆的周长是 60 厘米，从圆周的某一点开始，沿着圆周每隔 16 厘米取一点，直到与原起点重合为止。圆周上共取了()个点。
A.14 B.15 C.16 D.17
66. 8 个互不相同的自然数的总和为 56。如果去掉最大的数和最小的数，那么剩下数的总和为 44。剩下的数中最小的数是()
A.1 B.2 C.3 D.4
67. 甲、乙两人同时从 A 地到 B 地去。甲骑车每分行 250 米，每行驶 10 分钟后休息 20 分；乙不间歇地步行，每分行 100 米。结果在甲即将休息的时刻两人同时到达 B 地。问 A、B 两地相距多远？()
A.10000 米 B.12500 米 C.15000 米 D.20000 米
68. 一项工作，先有甲、乙合作 4 小时，完成了它的 25%，再由乙单独做 8 小时，这时剩下的工作甲单独做还需 20 小时才能全部完成。乙单独做这件工作需要多长时间？()
A.24 B.32 C.40 D.48
69. 某班若干同学包租一辆汽车到公园玩，租车费为 60，大家平均分摊。临上车时又来了 3 名同学和他们同去，这样平均每人比原计划少出了 1 元钱，则实际每人的租车费为()元。
A.10 B.12 C.4 D.5
70. 某次竞赛共 6 道试题。做对第 1、2、3、4、5、6 题的分别占参加考试人数的 80%、91%、85%、74%、78%、60%，如果做对 5 道或 5 道以上可参加下一轮竞赛，那么这可参加下轮竞赛的比例至少为()
A.34% B.30% C.25% D.22%

第四部分 判断推理

71. 请从所给的四个选项中，选择最合适的一个填入问号处，使之呈现一定的规律性：

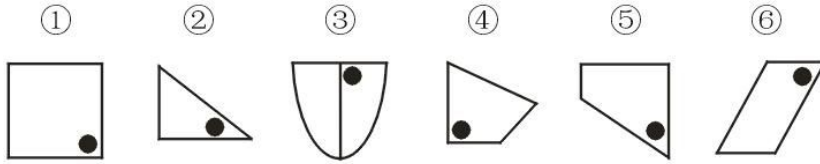
脸	莫	速	假	？
---	---	---	---	---

图	在	疯	字
---	---	---	---

A B C D

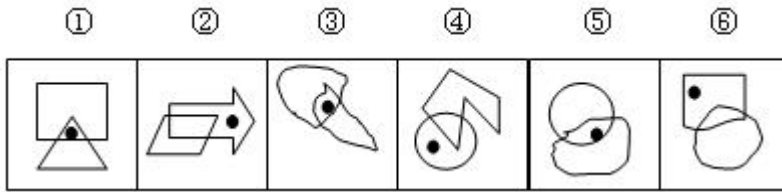
72. 把下面的六组图形分为两类，使每一类图形都有各自的共同特征或规律，分类正确的一

项是：



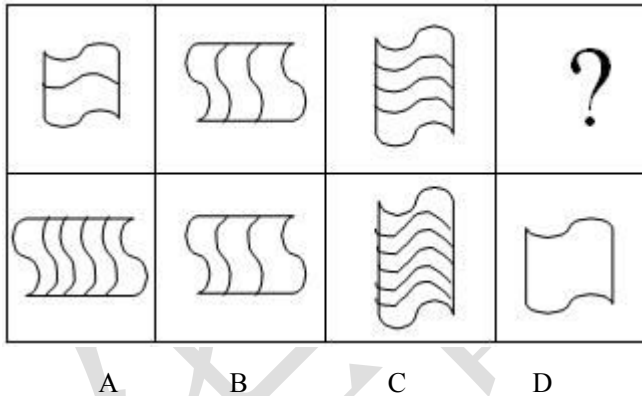
- A. ①③④, ②⑤⑥ B. ①③⑤, ②④⑥
C. ①②③, ④⑤⑥ D. ①②⑥, ③④⑤

73. 把下面的六个图形分为两类，使每一类图形都有各自的共同特征或规律，分类正确的一项是（ ）。

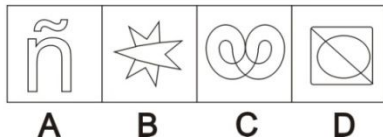
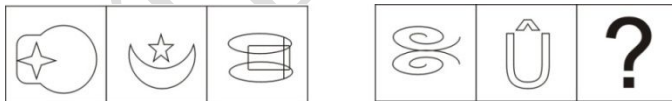


- A. ①②③, ④⑤⑥ B. ①⑤⑥, ②③④
C. ①④⑤, ②③⑥ D. ①③⑤, ②④⑥

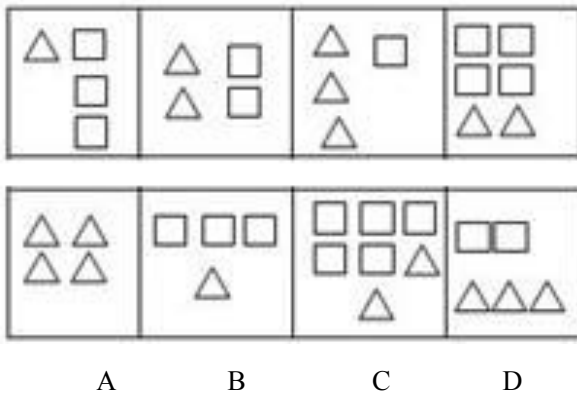
74. 请从所给的四个选项中，选择最合适的一个填入问号处，使之呈现一定的规律性：



75. 请从所给的四个选项中，选择最合适的一个填入问号处，使之呈现一定的规律性：

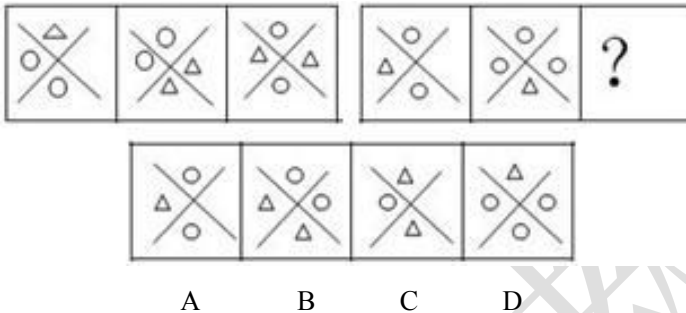


76. 从所给的四个选项中，选择最符合左侧图形规律的一项：



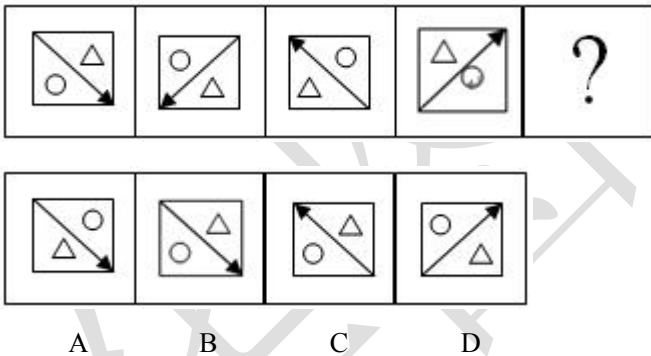
A B C D

77. 请从所给的四个选项中，选择最合适的一个填入问号处，使之呈现一定的规律性：



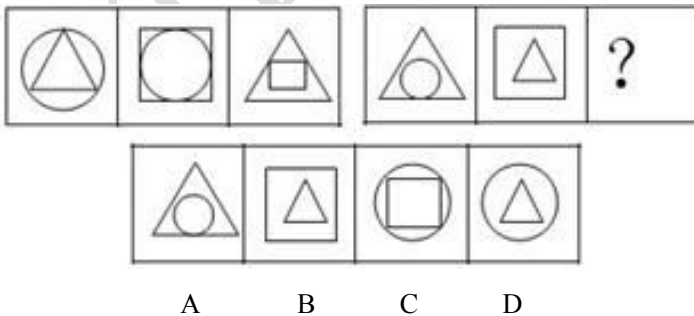
A B C D

78. 请从所给的四个选项中，选择最合适的一个填入问号处，使之呈现一定的规律性：



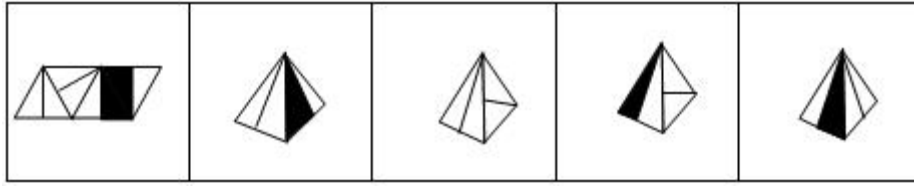
A B C D

79. 请从所给的四个选项中，选择最合适的一个填入问号处，使之呈现一定的规律性：



A B C D

80. 左边的展开图可以折成右边哪幅图？



A

B

C

D

二、定义判断。每道题先给出一个定义，然后列出四种情况，要求你严格依据定义，从四个备选项中选出一个最符合或最不符合该定义的答案。注意：假设这个定义是正确的，不容置疑的。

请开始答题：

81.生态建筑是指在建筑的整个建造和使用期限内，在完成建筑功能的前提下，通过组织和设计建筑内外空间中的各种物态因素，使能源的消耗和对环境的影响尽可能地小，获得一种高效、低耗、无废、无污、生态平衡的建筑环境。

根据上述定义，以下符合生态建筑理念的是（ ）。

- A.某高档小区内花高价种植和养护名贵花草，为居民营造绿色、优美的居住环境
- B.某开发商通过开发原始森林，建造出空气清新、负氧离子含量极高的度假村
- C.某建筑采用新型曲面玻璃墙从而达到调整日辐射热量的效果，节省了用电量
- D.某写字楼专门拿出一层办公室，免费供环保公益组织开展宣传、讲座等活动

82.沉默的螺旋概念基本描述了这样一个现象：人们在表达自己想法和观点的时候，如果看到自己赞同的观点，并且受到广泛欢迎，就会积极参与进来，这类观点越发大胆地发表和扩散；而发觉某一观点无人或很少有人理会，即使自己赞同它，也会保持沉默。意见一方的沉默造成另一方意见的增势，如此循环往复，便形成一方的声音越来越强大，另一方越来越沉默下去的螺旋发展过程。

根据上述定义，以下属于沉默的螺旋的表现的是（ ）。

- A.网络的匿名性使许多人敢于在网上表达自己与众不同的想法和意见
- B.竞选总统时，某一方通过媒体夸大自己的支持率，使原本持观望态度的选民倒向自己一方
- C.小明和小华对某习题的答案有争执，小明虽然心有不服，但还是改成了小华的答案
- D.“地心说”曾经得到许多科学家的支持，但之后却被“日心说”所取代

83.多品牌策略是市场营销中品牌策略的一种，即同一公司的主要产品以多个不同的商标在市场上销售，各品牌的同类商品往往是不同质的，或者不同的品牌占据不同的细分市场或不同的地理市场区域。

根据上述定义，以下属于多品牌策略的是（ ）

- A.某饮料公司先后推出了一般可乐、低糖可乐、零度可乐、水果口味可乐等多种不同种类的产品
- B.某鞋业企业旗下既有针对职业女性的百丽、思加图等品牌，也有设计相对休闲的天美意、妙丽等品牌
- C.某教育产品公司在第一代学习机的基础上，进行技术革新，推出功能更全面、受众更广的第二代学习机
- D.在 A 快餐店推出川辣汉堡后，B 快餐店推出其没有的咖喱味汉堡，以此来争夺更多消费者

84.角色间冲突是指一个人扮演不同的角色时，不同角色提出不同甚至矛盾的要求，由于个人不能同时满足所有这些角色要求，造成不合时宜而发生矛盾和冲突。

根据上述定义，以下属于角色间冲突的是（ ）。

- A. 小李在公司中是业务精英，同时在家中又是个好丈夫、好父亲
- B. 青年演员小张演技出众，对于任何角色都能诠释到位
- C. 新老师小张想要在课堂上大胆创新，但经验所限达不到自己的理想状态
- D. 小赵升入高中后因担任学生会主席牵扯了过多精力，学习成绩一落千丈

85. 玻璃少年是指青少年因为学业负担重、学习压力大，出现颈椎病、情绪障碍、睡眠障碍等疾病，导致体质差和心理承受能力差的情况。

根据上述定义，以下描述不属于玻璃少年的是（ ）。

- A. 小张由于父亲突然去世，学习成绩大幅下降，并出现了严重的抑郁
- B. 小李每到周末要奔波于各个考试辅导班，没有时间锻炼身体，经常感冒发烧
- C. 小赵因为学习成绩不好总被老师批评，产生厌学情绪，常常装病在家逃避上课
- D. 小王总是担心考的不好父母会批评她，每次期末考试前都会紧张的睡不着

86. 邻避效应指居民或所在地单位因担心建设项目对身体健康、环境质量带来诸多负面影响，从而激发人们的嫌恶情结，滋生“不要建在我家后院”的心理，及采取的强烈和坚决的、有时高度情绪化的集体反对甚至抗争行为。

根据上述定义，以下涉及邻避效应的是（ ）。

- A. 某飞机场附近的居民因不堪机场噪音严重扰民，纷纷提出在机场外围建立隔音墙
- B. 某海上油田发生漏油事故，严重污染海洋环境，主管部门对其实施重罚并责令立即整改
- C. 某小区内宠物随地大小便情况严重，部分居民向业主委员会提出抗议要求小区内禁养宠物
- D. 某写字楼要在楼内更换新型空气净化系统，但由于价格太高遭到写字楼内企业联名反对

87. 竞争优势效应是指当合作对双方都有利时，人们也往往会优先选择竞争，导致双方利益的损失。

根据上述定义，以下不属于竞争优势效应的是（ ）。

- A. 一对夫妻离异，丈夫为了不有一半财产转让给妻子，以超低价将自己的车、房转卖出去
- B. 罗伯斯与刘翔比赛时，用手阻拦其前进，结果使刘翔只获得第三名，罗伯斯也被取消了成绩
- C. 某位老师在课堂上使用小组合作学习的方式，通过组与组之间的竞争提高了学生的学习成绩
- D. A 工厂为和 B 工厂抢夺市场，压缩生产成本制造低质量产品，结果市场信誉大受影响

88. 集合式营销的通常表现形式为某个行业或有共同目标市场的相关独立企业，通过中间组织，以一种松散的联盟方式，进行市场整合，以达到规模化的货源优势或采购优势。

根据上述定义，下列属于集合式营销的是（ ）。

- A. 某国的两大乳产品巨头联合起来，共同给贫困落后地区的儿童提供免费的牛奶
- B. 一家生产发光二极管的企业和生产电阻，电容等元器件的企业联合起来，对这些产品进行打包销售
- C. 卖脆饼的武大郎和卖翠梨的郗哥经常一起走街串巷，各自销售自己的产品
- D. 风云公司的产品部与售后服务部联合为客户进行一站式的服务，提高公司运营效率

89. 文化休克是指一个人进入到不熟悉的文化环境时，因失去自己熟悉的所有社会交流的符号与手段而产生的一种迷失、疑惑、排斥甚至恐惧的感觉。

根据上述定义，以下属于文化休克的是（ ）。

- A. 小张刚刚到美国留学，对于周围的一切都感到新鲜，积极参加学校的社团活动，与不同国家的同学进行交流

- B.小李在国外工作一年后回到中国，因为长时间坐飞机和时差颠倒的缘故，十分不适应，身体出现各种症状
- C.小王出国后与外国的同学共同租房居住，外国的同学经常带朋友回来玩到半夜，小王与其沟通无果，感到十分愤怒
- D.某学者发现在美国的东南亚留学生往往更具有紧张感，主要是因为他们的生活方式、宗教信仰与美国差异较大造成的

90.增值税：是指以商品流通和劳动服务在各个流转环节的增值额为征税对象的一种税。它是以商品销售额和应税劳务营业额为计税依据运用税收抵扣原则征收的一种流动税。它是具有以下特征：①征收对象是法定的增值额；②税负公平合理，具有中性税属性。

根据上述定义，下列情况中属于征收增值税的是（ ）。

- A.企业员工每月上缴的个人所得税
- B.儿子继承了父亲的遗产
- C.农民要缴纳一定数额的农业税
- D.房东将自己的房产出租

三、类比推理。每道题先给出一组相关的词，要求你在备选答案中找出一组与之在逻辑关系上最为贴近、相似或匹配的词。

请开始答题：

91.逻辑学：哲学

- A.生物化学：分析化学 B.化学：物理
- C.玫瑰花：鲜花 D.老虎：哺乳动物

92.李煜：恰似一江春水向东流：《虞美人》

- A.李白：大珠小珠落玉盘：《长恨歌》
- B.白居易：仰天大笑出门去：《南陵别儿童入京》
- C.杜甫：落花时节又逢君：《江南逢李龟年》
- D.赵孟頫：犹抱琵琶半遮面：《琵琶行》

93.移动硬盘：存储

- A.茶：健康 B.电话：交流
- C.印刷：纸张 D.飞信：腾讯

94.日光灯：节能灯

- A.台式电脑：平板电脑 B.自行车：马车
- C.钱包：手提袋 D.期刊：杂志

95.北京：河北

- A.河南：江西 B.重庆：四川
- C.新疆：陕西 D.内蒙：呼和浩特

四、逻辑判断。每道题给出一段陈述，这段陈述被假设是正确的，不容置疑的。要求你根据这段陈述，选择一个答案。注意：正确的答案应与所给的陈述相符合，不需要任何附加说明即可以从陈述中直接推出。

请开始答题：

96. 如果小王和小张去听音乐剧，那么小李和小钱就去看电影。

以下哪项为真，可以得到“小张不去听音乐剧”的结论？（ ）

- A.小钱不去看电影，并且小王去听音乐剧
- B.小李去看电影，并且小王去听音乐剧

C. 小李不去看电影，并且小王没去听音乐剧

D. 小李和小钱都不去看电影

97. 记者昨日从广州医学院第二附属医院获悉，连日来备受关注的恙虫病日前再夺一命，死亡的是一名阿婆。和前两个死亡病例相似，三位死亡病例都是 70 多岁，发病前同样去过晓港公园，入院时已经连续发烧多日，病情严重，最终于上周五因多器官衰竭死亡。因此恙虫目前只存在于晓港公园，并且恙虫的只攻击上了年纪的老人。

以下各项，除了哪项都能削弱上述结论？（ ）

A. 除了已经死亡的病例之外，还有两名恙虫叮咬的患者已经从重症监护区转移到普通病房

B. 有另外两名患者已经病愈出院，但是他们发病之前都没有去过晓港公园

C. 已经发现的其他两位患者都是中年人

D. 恙虫行动缓慢，年轻人能够轻易的躲开它的攻击

98. 纸制家具已步入普通家庭，受到消费者青睐。近两年纸制家具开始进入国内市场，成为沿海城市一些家庭的新宠，并被广泛用于街道、公园、游泳馆等场所，有渐成流行的趋势。环保纸家具的优势：纸的价钱非常便宜，纸制家具的价格也非常便宜，售价仅为普通木制家具的 1/3；回收率高，可 100% 地循环再生产；随着国内住房水平的提高，越来越多的独生子女拥有自己的空间，因此环保纸家具必定会在国内独领风骚，占据大部分的家具类市场。

以下哪项如果为真，最能够削弱上述结论？（ ）

A. 纸家具目前来说，销售量在不断的增加

B. 纸家具回收率高，是因为容易损坏

C. 目前，购买纸家具的都是刚工作的年轻人，木质家具的价格对他们来说太过昂贵

D. 纸家具容易受潮，对使用者来说是一个难题

99. 根据深圳警方就事故发布的通报，5 月 26 日凌晨 3 时，深圳市滨海大道侨城东路段发生一起重大交通事故，一辆 GTR 跑车与同方向行驶的两辆出租车发生碰撞。比亚迪 E6 电动出租车在被 GTR 跑车撞击后爆炸起火。E6 出租车内的司机和两名乘客在事故中死亡。5 月 28 日，比亚迪 A 股在开盘后暴跌，一度跌至 21.94 元/股的跌停价位，截至收盘，比亚迪收报 23.75 元/股，下跌 2.58%，成交金额由前一交易日的 4990 万元增至 1.45 亿元，换手率为 7.95%。专家认为，比亚迪 A 股跌停板是因为深圳的交通事故中比亚迪电动车的爆炸。

以下哪项为真，最能够支持专家的看法？（ ）

A. 比亚迪此前一直对生产的电动车颇有信心，多次对媒体表示，电动车遇水不会漏电，碰撞后也不会爆炸

B. 纯电动的最大问题在于锂离子的不稳定性，高速碰撞之后容易发生爆炸

C. 蝴蝶效应，一件普通的交通事故，能够引发大家对公司的不信任，最终导致股票下跌

D. 比亚迪出租车在燃烧后只剩下车架。警方消息显示，另一辆出租车侧翻，司机无大碍

100. 针对国际航协称中国是航油价格“全球最高”的说法，首度发布企业社会责任报告的中航油回应表示，国内七成机场航油供应业务处于亏损状态。以东补西、以大（机场）补小（机场）成为保障全国航油供应稳定的重要原则，这也在客观上造成航班量集中的主要机场航油价格相对于国外同类机场明显偏高。

以下哪项为真，最能支持企业社会责任报告的说法？（ ）

A. 小机场由于地处偏远，航油定价过高，会影响航空公司的经营，因此航油价格低于成本价，主要靠大机场的航油利润补贴

B. 中航油集团董事长孙立表示，中国航油价格并非全球最高，只能说中等偏上水平

C. 蒙古等国家航油价格远高于中国

D.中国航油并没有把价格上涨的压力转嫁给航空公司

101. 研究显示，巨型翼龙的翼展最长可达 30 英尺（约合 9 米），其通过热空气的提升力以及风流可以实现长时间不间断的飞行。来自美国查坦大学（Chatham University）的古生物学家迈克尔·哈比普（Michael Habib）解释说：“巨型翼龙在飞行中翅膀挥动的频率并不是很快，每一次翅膀开合之间它们就采用无动力飞行和滑翔的方式继续前进。”如果以上断定为真，那么由此可以推出（ ）。

- A.翼龙一次可以实现 1.6 万公里的飞行
- B.翼龙是白垩纪时期天龙中最大的飞行动物
- C.翼龙飞行体力耗费并不多，因此可以实现长时间的飞行
- D.迈克尔对翼龙飞行的看法影响了现在的古生物学界

102. 瓦斯有“矿井杀手”之称，同时又是破坏环境的温室气体。但“魔鬼”同时也是“天使”：煤矿瓦斯又称煤层气，其热值与天然气相当，是一种潜在的储量巨大的洁净能源。在煤矿开采前将煤层气抽取利用有着多重意义。煤层气的开发和利用不仅可以缓解我国优质能源供需矛盾，也可以从根本上保障煤矿安全生产和改善全球大气环境，能够实现我国能源战略的接替和能源消费结构的调整。

从这段文字可以推出（ ）。

- A.任何事情都有利有弊
- B.只要煤层气得到充分的开发和利用，就能实现我国能源战略的接替
- C.煤层气开发的好，可能会解决一些环保问题
- D.实现我国能源消费结构的调整，主要依赖于煤层气的开发和利用

103. 近日，一部精美的纪录片《舌尖上的中国》，出人意料地掀起了一股收视热潮，搅动无数“吃货”的心。煎、炒、炖、煮，辣、甜、鲜、香，《舌尖上的中国》里的镜头，引爆了中国人对美食的热情，也让远离家乡的旅人乡愁涌动。有人说，这部片子不仅让人想流口水，更让人想流泪。还有网民直言，美食是骨子里的乡愁，看到片中介绍家乡的美食，就想起了故乡的味道，想起了小时候妈妈做的饭。

从上述这段话可以推出（ ）。

- A.中国人喜欢看关于美食的纪录片
- B.越是能迎合人的乡愁情怀的纪录片，越能获得更高的收视率
- C.美食和乡愁情怀相结合是《舌尖上的中国》获得成功的原因
- D.美食是乡愁，能够让人回忆起故乡

104. 近日，广东佛山一所公办幼儿园招生，规定外来人口拥有住房面积必须不少于 80 平方米。幼儿园和当地教育部门称，此举是“优先保障可以买得起 80 平方米住房的外来工需求”，并称给了外来工公平的机会。

根据上述论述，下面哪项一定为真？（ ）

- A.住房面积多于 80 平米的外来人口，孩子就可以去那所公办幼儿园
- B.那所公办幼儿园的孩子家里都有至少 80 平米的住房
- C.优先保障买得起房的外来人口孩子的入学，是佛山市教育部门做出这种规定的初衷
- D.如果外来人口买不起 80 平的房子，孩子就不能在公办幼儿园入学

105. 热播的电视节目《非你莫属》最近因为一些选手的问题引起热议，并且有名人带头抵制该节目，针对这一现象，甲乙丙丁做出如下讨论：

甲：我赞成抵制《非你莫属》，所有人都不看《非你莫属》

乙：那不可能，《非你莫属》有很多忠实的拥趸，有很多人还是会继续看这个节目的

丙：如果有 10 万人联名抵制《非你莫属》，那节目组就可能向大家道歉了

丁：节目组就是靠这样的机会炒作，不可能道歉的

后来发现，甲乙丙丁四人，只有一个人的猜测是错误的。

由此可以推出（ ）。

- A.《非你莫属》这个节目本身存在很大的问题
- B.《非你莫属》有众多的支持者
- C.即便引起了争议，但是《非你莫属》仍然是很火爆的节目
- D.没有 10 万人联名抵制《非你莫属》

第五部分 资料分析

一、根据以下资料，回答 106—110 题。

巴西、俄罗斯、印度、南非和中国五个国家被合称为金砖国家。金砖国家国土面积占世界领土面积约为 30%，人口占世界的 42%；2010 年五国国内生产总值约占世界总量的 18%，贸易额占世界的 15%。

2010 年金砖国家经济社会指标比较

	国土面积 (万平方公里)	年中人口 (万人)	GDP(现价) (亿美元)	货物和服务 进出口总额 (亿美元)	FDI 流入额 (亿美元)	外汇储备 (亿美元)
巴西	852	19070	20898	4783	485	2886
中国	960	133787	58790	24466	1057	28473
印度	329	118211	12930	4655	378	2791
俄罗斯	1710	14191	14651	5439	138	4058
南非	122	4999	3630	1996	16	438



图 1 2005 年到 2010 年中国 GDP 数值与增速

106.到 2010 年，世界总人口约为（ ）亿。

- A.69.1 B. 70.5 C.68.2 D. 71.2
- 107.若保持 2010 年的增速，则到 2011 年中国的 GDP 将达到（ ）亿美元。
 A.66983 B.64846 C. 76647 D.78325
- 108.2010 年，巴西的人均 FDI 大约是俄罗斯人均 FDI 的（ ）倍。
 A.2 B.1.5 C.2.6 D.3.7
- 109.2010 年，金砖国家中人均 GDP 超过 1 万美元的有（ ）个。
 A.1 B.2 C.3 D.4
- 110.能够从上述资料中推出的是（ ）。
 A.金砖国家外其他国家人口密度大约是金砖国家人口密度的 40%
 B.2010 年，金砖国家中中国的货物和服务进出口总额超过其他四国之和
 C.金砖国家经济一直呈增长势头，各国贸易额都在世界上占有举足轻重的地位
 D.与 2005 年相比，2010 年中国 GDP 的增速约为 180%

二、根据以下资料，回答 111—115 题。

2012 年 4 月，全国一百个城市房价均价排名前四位分别是深圳、上海、北京、杭州。其中深圳市房价是 25453 元/平方米，同比增长 0.2%；上海是 23214 元/平方米，同比下降 1.9%；北京是 22424 元/平方米，同比下降 1.9%；杭州是 20219 元/平方米，同比下降 3.0%。排名最后四位是宝鸡、菏泽、新乡、衡水，均价分别是 3520 元/平方米、3325 元/平方米、3223 元/平方米、3203 元/平方米。

表 2 部分大中城市新建商品住宅分类价格指数(2012 年 5 月)

城市	90m2 及以下			90-144m2			144m2 以上		
	环比	同比	定基	环比	同比	定基	环比	同比	定基
北京	100	98.4	102.1	99.9	97.9	102.5	99.9	98.8	102
天津	100	99.2	105	100.2	98.1	103.2	100.4	99.1	102.5
石家庄	99.9	99.5	106.3	100	99.8	108.5	100.1	99.2	106.8
大连	100.1	99.9	105.7	100	99.7	105.1	100.3	100	105.1
长春	100	101.3	107	99.9	98.8	102.4	100	99	101.4
上海	99.7	98.2	102.9	99.8	97.9	101.1	99.9	98	99.7
南京	99.9	96	98.2	100	96.4	99.3	99.9	96.7	98
杭州	99.3	88.4	90.6	99.3	88.5	89.5	99.4	91.9	91.5
宁波	97.5	91.2	94.6	97.7	90.1	92.4	99	94.6	95.6
广州	99.7	98.3	103.2	100	98.4	105.4	100	98.5	100.7
深圳	99.6	97.6	103	99.7	97	100.1	99.8	98	101.3

			7						
海口	99.9	98.5	102.6	99.8	98.6	100.9	99.8	97.9	100.6
重庆	100.1	99.2	105.3	100	97.2	101.8	99.9	97.6	101.3
成都	99.7	98.9	102.3	99.8	98.7	103.8	99.5	97.7	99.4
贵阳	99.9	100.8	104.6	100.1	101	106	100.1	101.2	105.2
昆明	99.8	100.2	108.5	100	100.4	105.9	99.8	99.8	103.4
三亚	99.8	98.9	100.8	99.8	99.3	101.6	99.7	98.5	99.6

111.2011年4月，北京房价均价约为（ ）元/平方米。

- A.22580 B.22858 C.23012 D.22120

112.2012年5月，表中城市所有类型住宅价格都环比下降的城市有（ ）个。

- A.7 B.8 C.9 D.12

113.2012年5月，同比下降的城市个数最少的住宅类型是（ ）。

- A. 90m²及以下 B. 90-144m² C. 144m²以上 D. 无法排序

114.2012年4月，如果在上海以均价买一套58平米的房屋，所付金额在菏泽能买一套（ ）平米的房屋。

- A.107 B.231 C.343 D.405

115.能够从上述资料中推出的是（ ）。

- A.若环比指数为99.9，则北京市房屋在2012年5月的价格比四月下降了2242.4元
 B.上海市90m²以下的住宅2012年5月价格为22518元/平方米
 C.广州市90m²以下类型住宅在2011年5月的价格要高于2012年4月的价格
 D.深圳各类型住宅价格环比都有所下降，但下降金额没有宁波多

三、根据以下资料，回答116—120题。

2011年上半年国民经济保持平稳较快增长，初步测算，上半年国内生产总值204459亿元；按可比价格计算，第一季度同比增长9.7%，二季度同比增长9.5%。分产业看，第一产业增加值15700亿元，增长3.2%；第二产业增加值102178亿元，增长11.0%；第三产业增加值86581亿元，增长9.2%。从环比看，二季度国内生产总值增长2.2%。

农业生产总体稳定，夏粮生产获得丰收。全国夏粮产量12627万吨，比上年增产312万吨。上半年，猪牛羊禽肉产量3722万吨，同比增长0.2%，其中猪肉产量2443万吨，下降0.5%。工业生产平稳增长，企业效益继续增加。上半年，全国规模以上工业增加值同比增长14.3%。分登记注册类型看，国有及国有控股企业同比增长10.7%；集体企业增长9.6%；股份制企业增长16.1%；外商及港澳台投资企业增长11.1%。分轻重工业看，重工业同比增长14.7%，轻工业增长13.1%。分行业看，39个大类行业均实现增长。分地区看，东部地区同比增长12.4%，中部地区增长17.8%，西部地区增长17.3%。上半年，规模以上工业企业产销率达到97.8%，比上年同期提高0.1个百分点。

116.2011年上半年的国民生产总值约比2010年上半年增长（ ）。

- A.6.3% B.9.6% C.11.0% D.12.2%
- 117.2010 年上半年，全国规模以上工业企业产销率为（ ）。
A.97.7% B.97.8% C.97.9% D.98.0%
- 118.2010 年第二季度国内生产总值环比增加（ ）。
A.1.6% B.2.0% C.2.4% D.2.8%
- 119.2011 年上半年规模以上工业企业中，效益增长最快的企业是（ ）。
A.国有及国有控股企业 B.重工业企业
C.股份制企业 D.中部地区企业
- 120.根据上述材料，下列说法错误的是（ ）。
A.2011 年上半年我国东部地区的规模以上工业增加值的增长速度慢于中西部地区
B.2011 年上半年我国的夏粮产量同比增长 2.5%
C.2011 年上半年我国第二产业增加值大于第一产业与第三产业之和
D.2011 年上半年我国猪牛羊禽肉产量实现了小幅增长