

第一部分常识判断

(共 20 题, 参考时限 15 分钟)

根据题目要求, 在四个选项中选出一个正确答案。

解决好农业、农村、农民问题是全党工作重中之重, ()是解决“三农”问题的根本途径。

- A. 增大对农村投入 B. 城乡发展一体化 C. 城镇化 D. 增加农民收入

党的十八大报告提出, 确保到 2020 年实现全面建成小康社会宏伟目标。要在发展平衡性、协

调性、可持续性明显增强的基础上, 实现()比 2010 年翻一番。

- A. 人均国内生产总值和城乡居民人均收入
B. 国内生产总值和 1 城乡居民人均收入
C. 国民生产总值和城乡居民人均收入
D. 人均国内生产总值和城乡居民总收入水平

我国要缩小城乡之间的差距, 促进农业和农村经济发展, 从根本上说, 必须()。

- A. 免征各种农业税, 切实减轻农民负担
B. 让农民获得平等的国民待遇
C. 大力发展农村生产力, 不断增加农民收入
D. 把发展农村经济当作全部工作的中心

下列选项中, 不属于对农民实行直接补贴政策的是()。

- A. 粮食补贴 B. 良种补贴
C. 农机具购置补贴 D. 土地补贴

()是中国特色社会主义的根本原则。

- A. 改革开放 B. 公平正义 C. 共同富裕 D. 社会和谐

甲、乙两农民的耕地相邻, 因界碑损坏难以分清各自耕地范围而产生纠纷, 于是要求镇土地

管理部门处理。镇土地管理部门处理该纠纷的人员与甲比较熟悉，因而在划分两家的地界时偏袒甲方。乙若对镇土地管理部门的行为不服，应()。

- A. 必须先向上一级土地管理部门申请复议，只有对复议决定还不服时，才可以依法向人民法院提起行政诉讼
- B. 向上一级土地管理部门中请行政复议，该复议决定为最终裁决，不可再向人民法院提起行政诉讼
- C. 直接向人民法院提起行政诉讼
- D. 不能向人民法院提起行政诉讼，只能提起民事诉讼

关于土地的所有权问题，下列说法正确的是()。

- A. 城市土地属于国家所有
- B. 农村和城市郊区的土地，属于集体所有
- c. 宅基地和自留地、自留山，属于农民私人所有
- D. 政府可以无条件对土地实行征收或者征用并给予补偿

中共湖南省委组织部领导干部考试与测评中心命制 (第 1 页共 25 页)

8. 谚语说“十雾九晴”，指大雾多发生在晴天时，因为()。

- A.晴天时水汽多
- B. 晴天时大气逆辐射弱
- C.晴天时尘埃多
- D. 晴天时大气运动缓慢

9. 下列说法有误的一项是()。

- A.鲁迅，原名周树人，伟大的文学家、思想家、革命家，我们学过的《从百草园到三味书屋》、《藤野先生》均出自他的散文集《朝花夕拾》

B. 《松树金龟子》的作者法布尔是法国昆虫学家、作家，达尔文赞扬他是“难以效法的观

察家”，他以毕生精力写出的《昆虫记》十卷被认为是“科学与诗的完美结合，，

C. 在古代，“江”指长江，“河”指黄河，今天的“江”“河，’则泛指河流

D. “而立”代称三十岁，“而立之年”指遇事能明辨不疑的年龄：“不惑，，代称四十岁，

“不惑之年”指有所成就的年龄

10. 在五千多年的发展中，中华民族形成了以()为核心的团结统一、爱好和平、勤劳勇敢、自强不息的伟大民族精神。

A. 爱国主义 B. 集体主义 C. 社会主义 D. 共产主义

11. 《中国农村扶贫开发纲要(2011--2020年)》明确提出，到2020年要稳定实现扶贫对象不

愁吃、不愁穿，保障其()。

A. 义务教育、基本医疗和住房

C. 基本医疗、社会保险和住房

12. 五四运动取得初步胜利的最主要原因是(

A. 青年学生的先锋作用

C. 李大钊和陈独秀的指导作用

B. 义务教育、基本医疗和养老

D. 基本医疗、社会保险和养老

) 。

B. 马克思主义理论的指导

D. 工人阶级的主力军作用

13-公安机关在紧急的情况下，对罪该逮捕的现行犯或重大嫌疑分子，采取的临时限制人身自由

的强制方法是()。

- A.拘役 B. 拘留 C. 拘传 D. 逮捕

14-网络可以提供多种信息交流方式，这些方式有的属于单独交流，有的属于公开交流。下列网

络工具中不可以用做进行公开交流的是()。

- A·E-mail B·MSN C. QQ D. Blog

15. 民谚“灶王爷本姓张，一碗凉水三炷香”是指我国传统习俗中的()。

- A·春节 B. 腊八节 C. 元宵节 D. 小年

16-在下列自然科学成就中，影响远远超越其学科范围，扩展到社会和经济思想领域，并对中国

近代民主思想产生了重要影响的是()。

- A·进化论 B. 经典力学 C. 相对论 D. 量子论

17. 《中华人民共和国农业法》中的“农业”包括()等产业。

- A·种植业、畜牧业和渔业 B. 种植业、林业和渔业
C·种植业、林业和畜牧业 D. 种植业、林业、畜牧业和渔业

中共湖南省委组织部领导干部考试与测评中心命制 (第2页共25页)

18. 中医说的“望、闻、问、切”中的切，指的是号脉。这里的脉是指()。

- A. 动脉 B. 静脉 C. 毛细血管 D. 经络

19. F列有关食品的说法中错误的一项是()。

- A. 我们经常在食品包装袋上看到的一种添加剂成分——“山梨酸钾”，实际是一种防腐剂
B. 腌制食品之所以能够长久保存，其机制在于食盐产生的渗透压可使细菌的水分外泄，

造

成菌体的皱缩，从而抑制细菌造成的腐败变质

c. 三聚氰胺本是一种工业染料，主要会导致肾衰和肾结石，被不良产商添加到牛奶中是为

了增色

D. 食用过量亚硝酸盐会造成中毒甚至死亡，是因为亚硝酸盐过量可导致人体血红蛋白的改

变，使其携氧能力下降，出现缺氧症状

20. 下列说法不正确的是()。

A. 我国最长的古运河是京杭大运河

B. 我国最大的冰川是新疆帕米尔高原乔戈里峰北坡的音苏盖提冰川，长约 40 公里

C. 山东半岛是中国最大的半岛，辽东半岛是中国第二大半岛

D. 乌鲁木齐是中国也是世界上距离海洋最远的内陆大城市，它与海岸的最近距离为 2250 公里

第二部分 言语理解与表达

(共 35 题，参考时限 40 分钟)

每道题包含一段话或一个句子，后面是一个不完整的陈述，要求从四个选项中选出一个来完

成陈述。注意：答案可能是完成对所给文字主要意思的提要，也可能是满足陈述中其他方面的要

求，选择应与所提要求最相符合。

21. 我们阅读许许多多艺术家的传记，可以发现他们都有较崇高的思想，在学习、工作上，他们

都注意广泛求师，在 诸家技艺之长以后，又别出心裁地发挥自己的独创性，并且

地辛勤创作，在崇高思想的指引下，一步步创造出成绩来。

依次填入划横线部分最恰当的一项是()。

- A. 旁征博引 坚持不懈 B. 旁收博采 锲而不舍
C. 博采众长 持之以恒 D. 旁求博考 坚忍不拔

22. 千百年来人与自然的关系，一直为哲学家们——而又纠缠不清。十八世纪法国空想共产主义

代表人物摩来里《自然法则》中存在大量的论述人与自然关系的观点，如“自然界提醒我们

有时要放弃这些权利以让给他人，并促使我们要毫不勉强地做到这一点”：又如“自然界正

是借这个稳固的基础来支持那些本来就是易变的和运动的事物……”诸如此类，——。

依次填入划横线部分最恰当的一项是()。

- A. 喋喋不休 屈指可数 B. 三缄其口 不可胜数
C. 称赏不置 不计其数 D. 津津乐道 不胜枚举

中共湖南省委组织部领导干部考试与测评中心命制 (第3页共25页)

：23. 坐落于北京的紫禁城宛如一幅立体的绘画作品，宏伟壮观，气势恢弘。紫禁城 的艺术设

计，庄严雄伟的皇家气派，严整通达的建筑布局，——的建筑结构，金碧辉煌的建筑装

饰，
优美律动的檐、角线条，令每一个观者叹为观止。紫禁城是人类建筑史上最伟大的艺术

，
是世界文化历史遗产中的一颗璀璨明珠，更是中华民族文化的标记。

依次填入划横线部分最恰当的一项是()。

- A. 精致无比大气磅礴奇迹 B. 精湛无比气宇轩昂 奇葩
C. 卓越超群气势磅礴瑰宝 D. 美轮美奂气贯长虹奇葩

24.当前我们重提手写汉字，不仅是要让人们认识到手写汉字面临的问题，更重要的是通过倡

导手写汉字来传承和弘扬中华优秀传统文化。汉字历史悠久、字体优美，从甲骨文、金文、篆书、

隶书，到出现楷斗}、草书、行书等等，汉字字体的——经历了多个阶段。汉字本身的构造以

及书写规范，——着许多中华民族的价值理念和文化传统，许多汉字的组成结构表达着丰富

而深刻的寓意。人们在手写汉字的过程中，也在——地接受中华文化的熏陶。

依次填入划横线部分最恰当的一项是()。

A.演变蕴藏耳熟能详 B.进化蕴含耳濡目染

C.演化蕴涵潜移默化 D.蜕化包涵潜移默化

25.根艺的特点是天然造型，——“天然美”。寻找理想的根材十分艰难，往往过百木而不遇，

相干根亦难一得。一根在手，百看千相，反复——，要在爱护天然，不损天然的前提下，依

形度势，P. 9~慎地略加整删，在似与非似中——意境，在根木节、疤、瘤上找传神。“根

艺之宝，宝在自然，天人合一，神形兼备”，这是根艺价值的根本所在。

依次填入划横线部分最恰当的一项是()。

A.突出 审察寻求 B.凸显 审视寻找

C.突出 观察探寻 D.凸显 审查 寻觅。

26. 下列各句中，没有语病的一项是()。

A.将防卫厅升级为防卫省，使日本成为其经济地位相称的军事大国，是日本右翼保守势力

多年的愿望，对日本复活军国主义的潜在威胁我们不能视而不见

B.当代大众文化以其消遣娱乐作用满足了人的感性需要，从而在一定程度上解决了理性

的

压抑，因此具有某种历史的合理性

C·教育公平是社会公平的基础，多年来教育事业有了重大发展，但区域之间、城乡之间、人群之间还有一些不公平的现象，这应当是我们今后工作的重点

D·为平稳有序地度过目前电力紧张阶段，湖南省将继续按照“保民生、保重点、保稳定”、“先错峰、后避峰、再限电”，优先保障城乡居民生活正常用电和供电

2"7. 将以下 6 个句子重新排列，语序正确的是()。

①在当时的社会状况下尚没有专业文化这个称谓。

②但是追根溯源，以宫廷器乐、歌舞、绘画等为代表的这些古代专业文化无不是脱胎于民间，

而从事这项工作的中国古代优秀艺术家更是在民间、在群众文化中浸润成长并脱颖而出的

中共湖南省委组织部领导干部考试与测评中心命制 (第 4 页共 25 页)

文艺人才。

⑧早在原始社会时期，人类就创造了狩猎舞、击石而舞、祭坛而舞等群众歌舞形式，这是群

众文化的雏形。

④在中国古代专业文化更多的表现为宫廷文化。

⑤群众文化是专业文化的源头。

⑥专业文化只是在长期的社会历史发展和人们的生产生活实践中，出现了专门从事文化工作

的机构和人员，才逐渐的人为的将专业人员所从事的称之为专业文化。

A. ⑤③①⑥④② B. ③⑤⑥①④② c. ④②⑤③⑥① D. ⑥⑤⑧①②④

28. 湖南常德，陶渊明笔下的世外桃源，一个具有两千多年历史的古城。翻开她厚重的历史长卷，

桃花红艳的福地洞天飘出了浓浓书香，善卷怀德让天子、车胤囊萤夜读、范文正公洗墨……

一系列历史典故成为镌刻在这座城市灵魂深处的文化烙印，世代受诗书浸染、崇尚读书修身

的常德人将这股文气一脉相承，选择了坚守、传承与弘扬。玫瑰是美的，更美的是它的香味。

常德这座古城新都的“香味”就在这充满个性的文化底蕴上，就在常德人崇学重修的品位上。

这段文字意在表明()。

- A. 常德深厚的历史积淀使这座城市变得美丽
- B. 我们在城市建设中应注重城市文化的培养
- C. 历史、名人与秀美的环境能让城市变得美丽
- D. 常德具有魅力的原因在于其深远的文化底蕴

29. “鼓盆而歌”，如果没有庄子对惠子所作的哲理性论述，简直就是后现代行为艺术中“行为艺术”

派的一什杰出的艺术作品。我们之所以不觉得庄子“鼓盆而歌”的行为不像后现代艺术作品那样怪

诞和费解，就因为庄子作为哲学家，对此种行为作了理论上的说明。后现代艺术家 Kleill 的艺术作

品《虚空》之所以让参观者哈哈大笑，掉头而玄，就因为作者不是哲学家，没有作哲理性的论述。

幸有大作家加缪写下了“虚空充盈着力量”的深刻留言，人们才能理解作品中的深意。

在这段话中作者想要表达的观点是()。

- A. 西方后现代艺术应该借鉴和吸收中国哲学的优点，加强理论分析
- B. 后现代艺术作品要充分借助哲理化的表达，才能为公众所认同和欣赏

C. 庄子哲学与西方后现代艺术在思想上有着相通之处

D. 庄子的学说是对 Klein 作品的最好解说

30. 1969 年博伊尔和史密斯博士发明了 CCD。起初，这种装置是打算作为下一代存储装置，因为

其可以注入电荷，并且能够通过一片半导体的表面传导这些电荷。但是博伊尔和史密斯发现，

把它作为影像捕捉装置比作为存储器更有价值。虽然 CCD 上每个感光单元产生的电荷只是和

光照强度有关(这意味着 CCD 本身无法识别颜色)，但是科学家们很快就找到了解决方案。

根据这段文字的描述，下文将可能介绍()。

A. CCD 与传统底片照相机的对比 B. CCD 获取并形成彩色图像的方式

C. CCD 的感光原理 D. CCD 在影像领域的应用

中共湖南省委组织部领导干部考试与测评中心命题 (第 5 页共 25 页)

31. 我们踏着月色静静地走着，时而沐浴在月光中，时而笼罩在斑驳的树影里，好像置身于琼楼玉宇之

中，有着飘然若仙之感。袅袅清风中，依稀还有缕缕暗香在这深秋的夜空缓缓滑过。这时园内杳寂

无声，只有我们每走一步，落在石板上的足音，发出空寂的幽响，在这静谧的夜色中显得更加清脆、

响亮、悠长，如灵隐寺中和尚的木鱼。我怕破坏了这一片宁静，停住脚，却见一地素月分辉如大珠

小珠落玉盘，于是回过头，又这样低声对你说：“轻点走，别把月光踩碎了。”

在这段话中与“却见一地素月分辉如大珠小珠落玉盘”相呼应的文字是()。

A. “袅袅清风中，依稀还有缕缕暗香在这深秋的夜空缓缓滑过”

- B. “时而笼罩在斑驳的树影里”
- C. “在这静谧的夜色中显得更加清脆、响亮、悠长”
- D. “好像置身于琼楼玉宇之中”

32. 细胞膜是自由基进行破坏的第一个靶子，当细胞膜在自行修补的功能耗尽之后，就只能任凭-

自由基进入细胞内部。自由基一旦进入细胞之后就会散开来破坏对细胞有正常生理作用的元

素，渐渐地不正常的细胞便形成了。最后就连细胞核 AAT 受攻击的目标。由于能量规律受

到破坏，细胞核中传递的信息也有所更改。在自由基对细胞核进行破坏的同时，它对细胞外

部的破坏作用也正同时进行，它会使支撑组织变坏，特别是会破坏弹性纤维及胶原蛋白。

根据这段话，下列对自由基破坏细胞过程的描述，由先到后正确的是()。

- A. 细胞膜，细胞内元素，细胞核，支撑组织
- B. 细胞膜，细胞核，支撑组织，弹性纤维
- C. 细胞膜，细胞核，弹性纤维，胶原蛋白
- D. 细胞膜，细胞内元素，细胞核，胶原蛋白

33. 微博与手机短信、即时通讯、电子邮件等多种工具互通互联互发，信息传输方式更加集成开放。特

别是微 f 尊与手机紧密结合，加之内容生产常常为一句话，信息发布无须审核等待，让人人时时处处

可以成为新闻的制造者、传播者、评论者，越来越先于传统媒体进行新闻报道，冲击现有的新闻传

播秩序和规则。印度孟买恐阶袭击事件，目击者率先通过 Twitter 以 5 秒 80 条信息进行现场直播，

来不及反应的 CNN 也引用 Twitter 上的消息进行实时报道，很快便被全球各地网站争相转载。

这段话意在说明()。

- A. 微博传播跨媒体即时传播使网络事件发布超快速
- B. 微博对传统媒体构成了新的冲击和挑战
- C. 微博在发布和传播信息上的特点
- D. 微博的迅速传播使网络事件舆论走势难以调控

34. 在低碳经济成为时代主流的背景下，新能源汽车产业发展成为社会的热点话题，上升为国家战略。

新能源汽车研发的焦点主要都集中在动力电池的材料、性能、参数方面，只有电池技术取得进步，

新能源汽车才有转变能源需求的可能。从某种意义上讲，未来汽车厂商之间的竞争，主要是动力电

池性能的竞争。谁掌握了动力电池的领先技术并将其产业化，谁就会在未来汽车市场占得先机。

对这段文字理解最准确的是()。

中共湖南省委组织部领导干部考试与测评中心命制 (第 6 页共 25 页)

- A. 动力电池技术的进步推进了新能源汽车产业的发展
- B. 新能源汽车产业的发展驱动低碳经济的发展
- C. 汽车市场的竞争集中于新能源汽车产业的竞争
- D. 新能源汽车产业的竞争核心是动力电池的竞争

35. 《论语·子路》曰：“君子和而不同。”改革开放了几十年，人们的思想都更加开放。然而我们

可以见到，一部分人随大流的心理现象仍然存在，而且比较严重。他们过于注重与别人保持一

致而放弃思考的独立性，人云亦云，盲目附和；甚至有些人害怕与别人不一致。这种现象的存

在对于国家民族的发展是一块绊脚石，我们必须消灭它。

文中加点的“这种现象”是指()。

- A. 随大流的心理现象
- B. 改革开放了几十年，人们的思想都更加开放
- C. “君子和而不同”的现象
- D. 有些人害怕与别人不一致的现象

36. 叠床架屋、机构臃肿，是一贯为党和人民所反对的。近来人们聚焦的降低“三公”消费问题，

就同政府机构的大小直接关系。如果机构的整体大了，那么官员个体再怎么节省，其总量

占财政支出的比重也小不了，政府运作的成本也降不下来。为了政府的瘦身，必须大力发展

社会组织，把一些微观管理从政府中分离出去。社会事务交给社会组织办，政府才能腾出手

来抓大事，也才能抓好大事。政府也才能变直接管理为间接管理。

下列选项中不能从上述文字读出的是()。

- A. 政府不应当成为“无良政府”、“万能政府”
- B. 我们应该提倡“小政府、大社会”
- C. 政府要瘦身，当务之急是节省开支
- D. 社会组织能够发挥政府所起不到的作用

37. 包容性增长要求经济增长的成果必须为大众共享。而要做到这一点，弱势群体的能力必须不断得到

提升，他们的权利必须得到保障和改善，只有这样他们才能持续地参与到经济增长之中，并且共享

经济增长的成果。从经济学“效率”和“公平”的角度，包容性增长的理念蕴含这样的逻辑：

如果

把经济主体分为“强者”和“弱者”，那么“弱者”能力的提升避免了经济发展由于弱者太弱而出

现“瓶颈”，从而保证了“效率”的可持续提升；而“弱者”权利的改善确保分配关系向有利于“弱

者”的方向变化，从而带来“公平”的持续提高。因此，同时提高“弱者”的能力和权利能使“效

率”和“公平”长期相互促进，从而达到经济的可持续增长。

这段文字主要针对的问题是()。

- A. 包容性增长需要实现“效率”与“公平”
- B. 包容性增长的经济逻辑
- C. 弱势群体能力与“效率”和“公平”的关系
- D. 经济可持续发展的内在推动力

中共湖南省委组织部领导干部考试与测评中心命制 (第 7 页共 25 页)

38. 随着新世纪后城市化进入相对独立的大发展阶段，土地要素被重估，直接成就了政府的“土

地财政”，扩张了公共基础设施的投资，推动了土地城市化和区域性经济增长；但土地的供

给特性和跨期分配效应导致了宏观风险增加，房地产价格上升过快，阻碍了人口城市化，去

工业化特征明显。数量分析表明，土地财政和公共支出扩张虽然对城市化有直接加速效应，

改变了时间轴上的贴现效应，但如果超前的土地城市化率不能带来城市“规模收益递增”效

果，且政府财政收支结构和筹资方式不能转变，则城市的可持续发展就会面临挑战。

对上述文意理解正确的是()。

- A. 在城市化阶段贴现土地收益，不具有经济增长效应
- B. 土地财政虽然具有不合理性，但确实带来了经济增长效应
- C. 土地价格和房产价格上涨将会导致城市“去工业化”
- D. 唯有消除土地财政，才能推动城市化带动的经济持续增长

39. “阅读危机”成为当今世界的共性问题。悄然而至的阅读危机在世界范围内引发人们关注。

在日本，调查结果显示：有 23.7% 的日本人月均读书量为零，只有 10% 的日本人一个月读书

超过 5 本，昔日的“读书大国”如今已风光不再。在俄罗斯，据俄社会学家调查，这个昔日

国民读书率最高的国家，目前有 52% 的人不买书，79% 的人根本不利用图书馆资源。在美国，

近 20 年间，美国人花在购买书上的钱下降了 14%，其中“90 后”青少年下降尤甚。在中国，国民阅读率虽然止住年年下滑的趋势，但据 2011 年的最新数据表明，仍然不足 50%。

这段文字主要说明的是()。

- A. 我们应该更加关注阅读危机在全世界范围内的影响
- B. 阅读危机成为一个没有国界的全球性问题
- C. 阅读危机在各个国家的表现
- D. 各个国家阅读量下降的调查结果

40. 我国有大学根据大学章程制订校规，并依据校规处理学生，可学生不服，告上法庭，法庭依

旧受理，而不是尊重学校依章程办事。如近几年媒体关注的“开除是否剥夺受教育者的受教

育权”等焦点问题，本来按照大学的校规，因考试作弊而被开除，应无争议，就是国外大学，

也是如此。那么为何在我们这里，作弊被开除，却是一个涉及受教育权的争议话题呢？这就

是因为我国大学的校规，不具备真正的法律效力。国外大学都有通过立法机构审议通过、具

有法律效力的《大学章程》，这是大学的办学“宪章”，所有校规都必须照《大学章程》制

订。因此，如果我国大学章程不能成为法律文本，上述困惑将一直存在。

不符合上述文意的一项是()。

- A. 目前我国大学章程的法律效力并未得到司法机关的承认
- B. 大学章程不应只是大学内部的规章
- C. 不按大学章程来管理学生是我国当今大学治理中很严重的问题
- D. 完善大学章程，实现依法治校，还有很长的路要走

41. 开会人多了，常常不能让所有人都发表意见，所以，一般来说开会时最好是让大家感觉都有

中共湖南省委组织部领导干部考试与测评中心命制 (第 8 页共 25 页)

发言权。但这种方式并不能都使用，尤其不同时使用，否则会造成混乱。以前有“要群言堂，

不要一言堂”的说法，其实并不科学。真要“群言”齐发，一定谁也听不见谁，群言大乱，

最后还是一言独断。“群言”和“一言”都不是理想的开会之道，开会最好是“对言”，也

就是一个有序发表意见的对话机制。规则很具体，包括提出议题的程序、发言的顺序利时间

限定、哪些不同意见要直接辩论、哪些只能对第三方提出等等。

最适合作为这段文字标题的是()。

- A. “群言”、“一言”不可取
- B. 如何提高开会效率
- C. 理想的开会之道
- D. 开会发言有讲究

42. 民事关系表现为一对一的关系，一般较少涉及第三人的利益。与此相反，商事关系呈现

的是一种网

络化的状况，导致交易关系的复杂化。伴随着商事关系中隐含的投机性越来越大，利益损害呈现出

不特定性和广泛性，客观上要求将国家公权引入商事关系之中，导致商法的公法色彩逐渐增强。在

商事诉讼领域，这种公法性因素突出地表现为社会性，例如公司诉讼中的中小股东利益的维护，破

产诉讼中破产企业职工的安置，消费者保护类诉讼、证券诉讼、保险诉讼等。

这段文字欲表达()。

- A. 商事诉讼的社会性越来越突出
- B. 国家应积极介入商事审判
- C. 商事诉讼不宜牵扯进公共利益
- D. 商事诉讼应注意平衡多方利益

43. 领导干部的职责定位决定了领导干部应该比普通群众站得更高一些、看得更远一些、本领更强一些、

办法更多一些。随着改革开放和社会主义市场经济的不断发展，领导干部实施领导工作的挑战和难

度明显增加。领导干部要履行好职责，就必须具备解决各种复杂矛盾，推动事业发展的本领。一名

合格的领导干部必须具有较高的科学文化素养和专业水平、较强的组织协调能力和解决实际问

题能力等，概括地说就是要具有科学判断形势、驾驭市场经济、应对复杂局面、依法行政、总揽全

局的能力。只有这样，才能有效推动工作和事业，才能让群众信服和敬佩。

这段文字意在强调()。

- A. 领导要具有领导普通群众的能力
- B. 领导的职责就是要不断的解决复杂问题，推动发展
- C. 领导应该具有高水平的：[作能力

D. 领导干部的职责应定位于服务群众

44. 在重大变革的时代，当社会秩序发生大规模解体与重建，当社会正经历着根本性转型之时，

我们经常看到工具理性的全面膨胀。这时候绝大多数的人们根本无暇顾及价值理性，包含在

旧传统中具有正面属性的价值理性，总是连同旧传统一起被满心眼追求现实利益的人们不屑

一顾。因此与工具理性极端膨胀的同时，价值理性往往处于普遍的失落和衰微。对正当或不

正当的思索，会被对于是否有利或有用、能不能行得通的直接而现实的利害算计所遮蔽。而

孔子的伟大，恰在于他身处实用主义弥漫的乱世，却孤独地坚守着他心中的价值理性。

这段话意在表明()。

A. 价值理性在社会变革时期的式微

中共湖南省委组织部领导干部考试与测评中心命制 (第 9 页共 25 页)

B. 孔子的伟大在于其对价值理性的坚守

C. 工具理性与价值理性在不同历史时期所扮演的角色

D. 在任何历史时期，我们都应当崇尚价值理性

45. 著作权是私权，私权行使的最理想的方式是权利人按照自己的意思处分各项权利。著作权人

对作品享有专有权，可以按照自己的意志决定作品是否被使用、谁米使用、如何使用及使用

的条件。因此，订立著作权许可合同是最理想的授权方式。但在现实中，问题却没有那么简

单。面对海量作品、庞大而分散的作者群及形态各异的使用方式，要求使用者和作者一联

系并取得许可存住现实的困难。然而数字图书馆的建设并未因此而停止，互联网内容产业及

商业文化机构在此起彼伏的法律诉讼中依然生存和发展着。与此同时，作品开发利用的商业

模式催生了新的授权方式并各为利益主体所接受，形成一种行业惯例和交易规则。

下文将最有可能论述的是()。

A. 数字图书馆和数字内容产业发展的瓶颈 B. 目前数字图书馆所采用的授权许可方式

C. 著作权保护上所取得的进展 D. 数字图书馆在著作权方面面临的法律问题

46. 量化宽松政策是指在利率已经降到零或接近于零的情况下，中央银行通过购买证券的方式向市场大

规模投放货币，运用非常规手段来遏制通货紧缩导致的市场恐慌，刺激经济增长。美国实行量化宽

松政策，增加了国际流通货币，宽松的国际货币环境有利于经济增长。对于低储蓄或存在资本约束

的国家，国际流通货币输入能够提高其进口支付能力，购买经济发展所需的机器设备，进而提高劳

动生产率，促进产出利收入增长。实行固定汇率制度的国家，美国的宽松货币政策将带来类似于本

国实行扩张性货币政策的输出效应，导致 GDP 增加或物价上涨。而实行浮动汇率制度的国家，美

国的宽松货币政策则容易带来“以邻为壑”的负效应，可能导致 GDP 减少。当然，由于存在价格

刚性以及国家间资产不可完全替代，实行浮动汇率制度的国家也可能会获得 GDP 增长的好处。

这段文字主要说明的是()。

A. 美国的量化宽松政策有利于经济增长

B. 美国的量化宽松政策对汇率制度不同的国家有利有弊

C. 量化的宽松政策能促进固定汇率国家的经济增长

D. 量化的宽松政策可能会产生通货膨胀

47. 目录学和版本学是文献学的两个重要分支学科，对人们的读书治学至关重要。我们考察近代

以来的国学大师和著名学者的治学历程，无不是靠着版本目录学的指引步入学术殿堂的。道

理很简单：走上学术道路，从事国学研究，离不开读书离不开利用文献资料。这就需要了

解自己学习与研究的学科及邻近学科有哪些基本典籍，其内容、体例如何，有何优缺点；这

些书籍有哪些重要的版本，哪个是善本，都需要心中大体有数。这样才能少走弯路，才能清

楚自己研究领域的家底，以免论述到有关问题时失于武断；谈到有关文献时，出现常识性错

误；利用资料时，无法有意识地选择好的版本。

这段文字意在强调()。

A. 目录学和版本学在文献学的重要地位

C. 要在学术上有所成就必须研究文献学

B. 文献学对学者读书治学的作用

D. 从事国学研究必须具备辨别善书的能力

中共湖南省委组织部领导干部考试与测评中心命制 (第 10 页共 25 页)

48. 创新型人才是产业创新的第一资源。在战略性新兴产业发展的过程中，产业高地、人才高地、创

新高地之间存在显著的相关性：产业高地吸引高端人才，高端人才建立产业高地。虽然

我国的发

达地区能够与发达国家进入同一个创新起跑线，但不可否认的是，高端人才主要还是集聚在发达

国家。因此我国的这一轮产业创新能否同发达国家同时起步，关键在于能否吸引到高端人才。这

涉及引进和利用国际要素战略的调整。过去的重点在增长，各种增长要素跟着资本走，因此突出

引进外资；现在的重点在创新，各种创新要素跟着人才走，因此需要突出引进高端人才。归结起

来，就是要有集聚高端人才的制度安排和载体，为其提供良好的创业、研发的基地和环境。

这段文字主要针对的问题是()。

- A. 创新型人才对产业创新的重要性
- B. 我国目前创新型人才存在的缺口问题
- C. 创新型人才的集聚措施
- D. 新形势下需转变人才引进机制

49. “发现”号此行一波二折。升空和返航日程因技术和天气等原因屡次推迟，在升空和飞行期

间，又险情迭出，先后出现一块绝热泡沫材料脱落、两处绝热瓦缝隙填充材料伸出和一块

绝热材料松动等问题。因此，虽然它平安归来，并未消除人们对其安全性的疑问，也迫使美

国宇航局再次推迟了此后的航天飞机发射。

关于这段话说法不正确的是()。

- A. “发现”号航天飞机已经平安归航
- B. “发现”号航天飞机在技术上有很多不完善的地方，以至于屡遇险情
- C. “发现”号航天飞机并没有按预定时间着陆
- D. “发现”号航天飞机的此次飞行情况迫使美宇航局改变了航天飞机发射计划

50. 改革开放以来，随着我国经济的持续快速发展，经济实力和综合国力大大增强，非营利部门的规

模亦不断扩大，其发展所需要的资金也越来越多。当前我国非营利部门资金的主要来源是政府投

入，服务收入和社会捐赠比例相对较小。虽然政府对这些部门的投入的绝对量呈逐年增长的趋势，

但相对于非营利部门的大量需求而言，从平均量上来看，国家对这些部门的投入难免有所不足。

这段文字作者要表达的观点是()。

- A. 非营利部门的发展受制于政府资金投入太少
- B. 非营利部门发展的资金需求与供给之间的矛盾
- C. 服务收入和社会捐赠比例较小制约非营利部门的发展
- D. 国家应加大对非营利部门的资金投入

51. 皇宫建筑以木构梁柱系统为主。皇宫建筑富丽堂皇，那些树形矮小、材质欠佳的寻常木材自然不

会是理想的选择，所以求得上好木材便是皇宫营造的首要任务。正如著名建筑学家刘敦桢所言，

“历来营建大役，首重采料，大木所需梁柱斗拱，数量最众，采集不易，为自来大工最困难之事……”

入山伐木，非数载不能出山。”皇宫建设用材既多且巨，排场既阔又大，工期既急又紧，当就地

取材不能满足建设之需时，统治者莫不大费周章四处求材，甚至千里迢迢从生态良好的地方运材。

只要天子一声令下，林地就很容易在斧声阵阵中沦为“皇家采林场”。非大木不用、非良木不取

的皇宫用材，直接将矛头指向林地的精华地带，给生态带来巨大破坏。

中共湖南省委组织部领导干部考试与测评中心命制 (第 11 页共 25 页)

这段文字针对的主要问题是()。

- A. 皇宫建筑物的选材标准 B. 皇宫建筑对良木的采伐对生态造成威胁
C. 皇宫建设对林地进行了滥砍滥伐 D. 建筑皇宫的弊端

52. 有一个现象，在解放前的旧中国，信仰佛教的大多是穷人，而信仰基督教的则多为富人、有

身份的人或受人尊敬的人。这是因为佛教在传统中国已经本土化了，而基督教则和西方势力

有关，它貌似代表着进步和时尚的方向。但今天的情况有所不同。经过共产革命，无论基督

教还是佛教，都回到了一个原始的起点。在今天，穷人信基督教的多，而富人则更倾向于佛

教。这是因为基督教从根本上说乃是穷人的宗教。耶稣本人就是一个穷人(木匠)，他的传

道对象基本上是穷人，传道方式是讲故事(寓言)，感动千万信徒的也正是耶稣的生平。而

佛陀出家前乃是王子，佛经也大多是辨析式的，诉诸理性。今天很多知识分子热衷于谈禅说

佛，很多影视明星、社会名流频频皈依，这应该不是偶然的。

对这段文字的主旨概括准确的是()。

- A. 讲述基督教和佛教信仰人群今昔变化的事实
B. 分析对比不同时代宗教信仰人群变化的原因
C. 论证基督教和佛教本身固有的性质和受众
D. 分析外界环境和内在因素对民众宗教选择的影响

53. 令人奇怪的是，洛可可风格首先出现于法兰西。路易十四的统治持续时间太长，对老王朝过

度虔诚的时代终于结束。雄伟高贵的凡尔赛不再迫使人们参加令人生厌的庆典，从此人们聚

集于巴黎各公馆精美的沙龙之中。起初，洛可可是一种新型装饰风格，是为热爱冒险、异国

情调、奇思遐想和高雅、智慧的社会服务的。这种轻盈、精美的风格最合适于现代公寓。洛

可可风格在进入巴洛克风格出尽风头的国家时，是十分谨慎小心的。

这段话支持的观点是()。

- A. 路易十四时期法国流行雄伟、高贵的洛可可式室内装潢风格，
- B. 法国人对冒险、异国情调的热衷使他们首创了洛可可式风格
- C. 现代公寓都是洛可可式的
- D. 与巴洛克风格相比，洛可可风格追求的是轻盈和精关

54. 民乐与文物古迹一样，继承的前提必然是保护。保护民乐是不是依赖于“博物馆式”的供养、

中 让民乐成为“文化木乃伊”?当然不是。中国民乐的生命力就在于广采博纳、融汇整合。

华文明 r 一博的气度决定了民乐从来就不是一个封闭的小圈子，中国琵琶因为吸收了西域弹拨

乐器构造上的一些优点，最终演化改造成今天的琵琶，箜篌、扬琴、胡琴、唢呐无不如此。

新中国成立后，在继承传统民间音乐的基础上，中央民族乐团建立起大型民族管弦乐队的体

制。这一体制与福建南音、西安鼓乐、江南丝竹、广东音乐等民间音乐形式不同，吸收了不

少西方交响乐的成熟经验，比如创作曲目全部交由专业作曲家，乐队建制也仿照西方交响乐

团等，堪称民乐现代化的重要尝试。

这段文字意在强调()。

A. 如何保护中国的民乐 B. 中国民乐的生命力所在

C. 中国民乐应加强当代文明的浸润 D. 中国民乐的开放性

55. 很少有地震能像海原大地震这样，在地表留存下大量的地质构造变化痕迹。比如唐山大地震，

除了满城的废墟，几乎观察不到地下的变化。“5·12”汶川、“4·20”芦山地震痕迹留在地表

除了废墟还有入量山体滑坡，但是看不出地质板块运动的轨迹。而海原大地震直接把这些

痕迹清晰地刻在了黄土高原上。而且这一片区域地广人稀，人为破坏少；气候干燥少雨，土

壤贫瘠，自然破坏也少。时至今日，仅在海原县境内，就有 11 处保留完整的大型地震遗迹。

这段文字意在说明()。

A. 海原大地震与其他几次大地震的区别

B. 海原大地震保存地质构造变化完整

C. 海原大地震是极其珍贵的地震研究原始资料

D. 海原大地震能有效应用于地震预报

第三部分数量关系

(共 15 题，参考时限 15 分钟)

一、数字推理。给出一个数列，但其中缺少一项，要求仔细观察数列的排列规律，然后从四

个选项中选择最合理的一项，使之符合原数列的排列规律。

56. 102, 96, 108, 84, 132, ()

A. 36 B. 64 C. 70 D. 72

57. 4, 6, 21, 123, 2580, ()

A. 169138 B. 169183

58. 0, $1/6$, $3/8$, $1/2$, $1/2$, ()

A. $5/13$ B. $7/13$

59. 1, 沂, 沂, 2 扼, ()

A. 疝 B. 河

60. 1.95, 5.83, 15.71, 34.59, ()

A. 64.57 B. 66.67

C. 123654 D. 317337

C. $5/12$ D. $7/12$

c. 河 D. 洒

C. 65.57

D. 65.47

二、数学运算。在这部分试题中，每道试题均为表述数字关系的一段文字，要求熟练运用加、

减、乘、除等基本运算法则，利用基本的数学知识，准确、迅速地计算出答案。

61. $12007+32007+52007+72007+92007$ 的值的个位数是()。

A. 5 B. 6 C. 8 D. 9

62. A 公司业务员每月收入由基本工资 1000 元加销售提成构成，销售额小于等于 5 万元，对 5

万元以内的部分无提成；销售额大于 5 万元小于等于 20 万元，对 5 万元至 20 万元的部分按

中共湖南省委组织部领导干部考试与测评中心命制 (第 13 页共 25 页)

8%提成；销售额大于 20 万元小于等于 50 万元，再对 20 万元至 50 万元的部分按 5% 提成。

销售员小王本月销售额为 3071%，他应得收入为()元。

- A. 16000 B. 18000 C. 21000 D. 25000

63. 现有一种杀虫剂，由甲、乙两种不同浓度的溶液配置而成。若从甲中取 2100 克，乙中取 700

克，则混合而成的杀虫剂的浓度为 3%；若从甲中取 900 克，乙中取 2700 克，则混合而成的

杀虫剂的浓度为 5%。则甲、乙两种溶液的浓度分别为()。

- A. 3%，6% B. 3%，4% C. 2%，6% D. 4%，6%

64. 甲、乙、丙三人沿湖边散步，同时从湖边一固定点出发。甲按顺时针方向行走，乙与丙按逆

时针方向行走，甲第一次遇到乙后 1 分钟遇到丙，再过 4 分钟第二次遇到乙。已知乙的速度

是甲的 $\frac{2}{3}$ ，湖的周长为 750 米，则丙的速度为()。

- A. 35 米 / 分 B. 30 米 / 分 C. 25 米 / 分 D. 27 米 / 分

65. 足球比赛的计分规则是胜一场得 3 分，负一场得 0 分，平一场得 1 分，某队踢了 11 场，共得

19 分，那么这个队最少胜了()场。

- A. 3 B. 4 C. 5 D. 6

66. 某商场为促销，在五一期间开展返券活动。某女士在该商场依次购买了标价为 748 元、978

元、350 元的商品(这三样商品都能参与返券)，共计消费 1476 元，且手头无剩余返券。则

该商场的返券活动为()。

- A. 满 300 返 100 B. 满 400 返 200 C. 满 500 返 200 D. 满 600 返 300

67. 一个长方体的表面全部涂上红色后，可以被分割成若干个体积等于 1 立方厘米的小正方体，

如果在这些小正方体中，不带红色的小正方体的个数等于 5，那么两面带红色的小正方体的

个数为()。

A. 36 B. 28 C. 42 D. 52

68. 一个快钟每小时比标准时间快 1 分钟，-4"慢钟每小时比标准时间慢 3 分钟。如将两个钟同

时调到标准时间，结果在 24 小时内，快钟显示 10 点整时，慢钟恰好显示 9 点整。则此

标准时间是()。

A. 9 点 15 分 B. 9 点 30 分 C. 9 点 35 分 D. 9 点 45 分

69. 某专业有学生 50 人，现开设有 A、B、C 三门选修课。有 40 人选修 A 课程，36 人选修 B 课

程，30 人选修 C 课程，兼选 A、B 两门课程的有 28 人，兼选 A、C 两门课程的有 26 人，兼

选 B、C 两门课程的有 24 人，A、B、C 三门课程均选的有 20 人，那么，三门课程均未选的

有()人。

A. 1 B. 2 C. 3 D. 4

70. 有一个 93 人的参观团，其中男 47 人，女 46 人。他们住进一个旅馆内，旅馆内有可住 11 人、

7 人、4 人的 3 种房间。要求男、女分住不同房间，且每个房间均住满，至少需要多少房间？

()

A. 11 B. 10 C. 13 D. 17

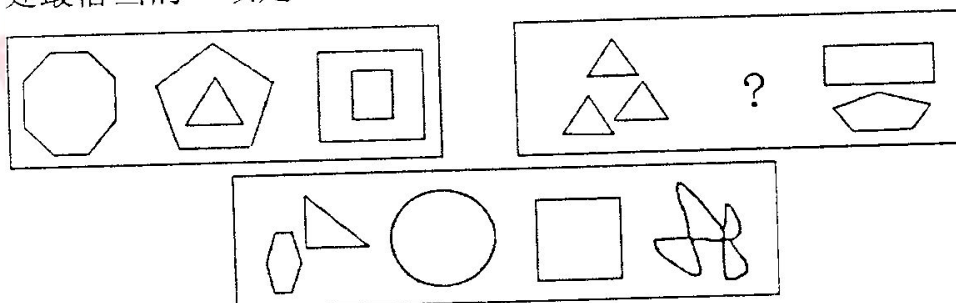
第四部分判断推理

(共 35 题，参考时限 35 分钟)

一、图形推理。请从所给的四个选项中，选择最适合的一个填在问号处 a 使之呈现一定的规律性，或按题目要求作答。

71. 填入问号

处最恰当的一项是 ()。

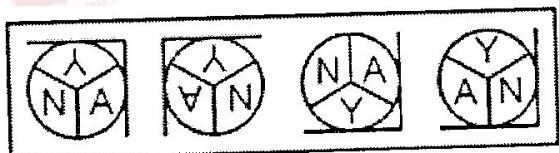
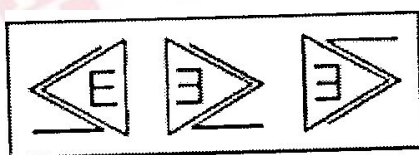


A

72. 填入问号处最恰当的一项是(

B C D

)。



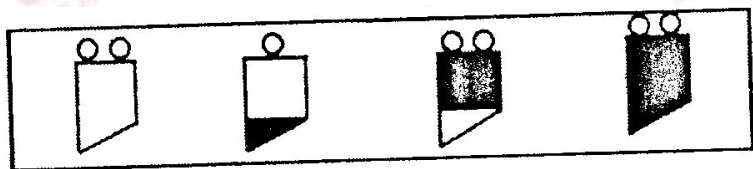

A

B

C

D

73. 填入问号处最恰当的一项是 ()



A

B

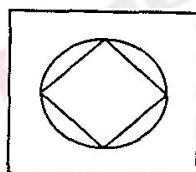
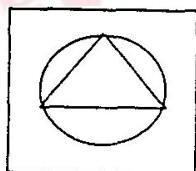
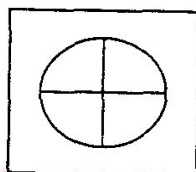
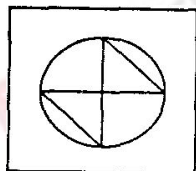
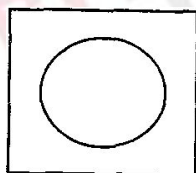
C

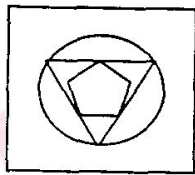
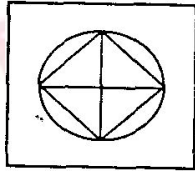
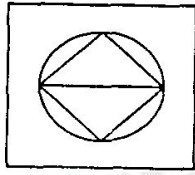
D

74. 填入问号处最恰当的一项是()

中共湖南省委组织部领导干部考试与测评中心命制 (第 15 页共 25 页)

75. 填入问号处最恰当的一项是()





A B CD

二、定义判断。每道题先给出一个概念的定义，然后分别列出四种情况，要求严格依据定义，

从中选出一个最符合或最不符合该定义的答案。注意：假设这个定义是正确的、不容置疑的。

76. 差异化战略，是指将公司提供的产品或服务差异化，形成一些在全产业范围中具有独特性的东西。

实现差异化战略可以有多种方式：品牌形象、技术特点、外观特点、客户服务、经销网络等方面

的独特性。差异化战略并不意味着公司可以忽略成本，但此时成本不是公司的首要战略目标。

根据上述定义，下列不属于差异化战略的是()。

- A. 某公司对客户实行送货、安装、顾客培训、咨询等服务
- B. 某公司请艺术家设计商品标识，并在包装上力求新颖
- C. 某公司领导积极与同行之间交流，学习他人之长，促进企业发展
- D. 某公司努力提高质量，使产品在工作性能、耐用性、可靠性等方面更优良

77. 缔约过失责任是指在合同订立过程中，一方当事人故意或者过失地先违反合同义务，造成对

方当事人信赖利益的损失时，依法应当承担的民事赔偿责任。

根据上述定义，下列需要承担缔约过失责任的是()。

- A·甲故意隐瞒手表的内在瑕疵而将该手表卖与乙，乙发现后撤销了该手表买卖合同，乙因此遭受路费损失及误工损失 100 元
- B. 商场出售的商品不合格，顾客要求退货
- C·商场的保安人员怀疑某女盗窃商场内出售的货物，而对女士非法搜身
- D·顾客想购买摆放在商场橱窗内的展示品，而商场因该展示品不出售而给予拒绝

78·由菲斯廷格提出的认知失调理论指的是个体认识到自己的态度之间、或者态度与行为之间存

在着矛盾的现象。

根据上述定义，下列现象中，可视为认知失调的是()。

- A·甲与乙两人有过过节，丙作为两人的朋友，不断从中斡旋，促使两人冰释前嫌
- B·小王很不喜欢自己的上司夸夸其谈，看到领导总是绕道而行
- c·赵某是某公司的经理，由于对环境的误判而做出了错误的决策，给公司造成巨额损失，被迫辞职
- D·小张在戒酒期间，由于好友婚礼，在朋友的煽动下又忍不住喝了一杯

中共湖南省委组织部领导干部考试与测评中心命制 (第 16 页共 25 页)

79. “别在我家门口”综合症：其典型特征是当触犯个人(个体)的利益时，公开反对自己曾赞

成和支持的符合整体利益的事情。例如，尽管民意测验一次又一次地显示公众大多数都赞成

建造新的监狱，但是当决策者正式宣布计划要在某地建造一新的监狱，总遭到附近居民的抗

议，并且抗议者往往总有办法使计划搁浅。

以下也属于“别在我家门口”综合症的是()。

A. 某政客赞成所有政府官员必须履行个人财产公开登记，他自己递交了一份虚假的财产登记表

B. 某教授主张宗教团体有义务从事慈善事业，但自己拒绝捐款资助索马里饥民

C. 某汽车商主张国际汽车自由贸易以有利于各国经济，但要求本国政府限制外国制造的汽

车进口

D. 某军事战略家认为核战争足以毁灭全人类，但主张本国保持足够的核能力以抵御外部可

能的核袭击

80. 绿色壁垒，又称环境壁垒。它是指在国际贸易领域，一些国家凭借其科技优势，以保护环境

和人类健康为目的，通过立法或制定严格的强制性技术法规，对国外商品进行准入限制的贸

易壁垒。以下不属于绿色壁垒的是()。

A. 通过立法手段，要求产品从生产前到制造、销售、使用以及最后的处理阶段都要达到某

些严格的强制环境保护技术标准

B. 贸易双方在信息技术上的不对称，如进口方采取网上通告、网上订购、网上支付、网上

交易等，而出口方做不到

C. 物品包装必须是能节约资源，减少废弃物，用后易于回收再用或再生，易于自然分解，

不污染环境的

D. 拥有政府管理部门颁发的表明从生产、使用到回收处理整个过程符合国家环境保护要求，

对生态环境和人类健康无害的特殊标志

81. 泰勒认为, 管理中大量的事务性工作应该尽可能实行规范化, 企业的高级管理人员把一般的日常

事务授权给下级管理人员去处理, 自己只保留对一些重要事项的决策和监督权, 这叫例外管理。

根据上述定义, 下列行为属于例外管理的是()。

A. 王某是某公司的经理, 他对于新来的助理总是给予耐心的指导

B. 王某作为公司的副总, 事必躬亲, 工作非常的努力

C. 某公司老总王某出差期间, 委托公司的小张与另一公司谈判, 谈判过程中双方由于价格

上产生分歧使合作受阻, 小张无法做决定, 致电王某, 王某给出了解决的意见

D. 小李新到公司, 对于许多事务不熟悉, 经常咨询同事小王

82. 政治社会化: 是指社会成员在政治实践活动中逐步获取政治知识和能力, 形成政治意识和立

场的过程。它是社会成员与政治体系之间相互联系、相互影响的互动过程, 是社会意识继承

与创新的统一, 是一个持续不断的过程。

根据上述定义, 下列不属于政治社会化过程的是()。

A. 儿童通过父母传授自己的政治体会而受到启发, 对他以后的发展产生深刻影响

中共湖南省委组织部领导干部考试与测评中心命制 (第 17 页共 25 页)

B. 学生之间相互交流自己对国家、政治、社会的看法, 起到互相促进作用

C. 公民参与社会组织, 表达自己的政治诉求

D. 政府通过媒体向公众发布通知

83. 首长负责制: 指各级政府及其部门的首长在民主讨论的基础上, 对本行政组织所管辖的

重要

事务具有最后的决策权，并对此全面负责。

根据上述定义，F列不属于首长负责制的是()。

A·2009年4月，浙江省永康市水务局作出决定，免去杨溪水库灌溉工程管理局局长的职务。

原因是水库管理部门没能严格执行《永康市饮用水水源保护管理办法》有关规定，接纳新版《三国演义》剧组进入库区拍摄，造成永康当地近30万人的饮水水源受到污染影响

B·2008年的“华南虎照片事件”中，陕西省镇坪县林业局在接到关于华南虎报告后，县林业局局长未在进一步核实的情况下，草率签字上报虚假信息，对上级的决策起到了严重误导作用，最终受到严肃处理

C·2007年山西省“黑砖窑”事件影响甚大，有关部门免去山西省洪洞县县长的职务，芮城县县长受到行政记大过处分

D. 某官员上任后贪污受贿大量钱财，最终被判处无期徒刑

84·隐性成本是一种隐藏于企业总成本之中、游离于财务审计监督之外的成本，是由于企业或员

工的行为而有意或者无意造成的具有一定隐蔽性的将来成本和转移成本，是成本的将来时态

和转嫁的成本形态的总和。

根据上述定义，下列造成了隐性成本的有()。

(1)管理层决策失误带来的成本 (2)领导的权威失灵造成的上下不一致

(3)信息和指令失真 (4): 士气低沉，效率低下

A·1个 B. 2个 C. 3个 D. 4个

85·①自恋型人格：指过于重视自我价值而缺乏对自身和他人进行理性和客观认识的~种人格。

②回避型人格：指行为退缩、心理自卑，面对挑战多采取回避态度或无能应付的一种人格。

⑧强迫型人格：指过于要求严格和完善，具有强烈的自制- $C,N2il$ 自控行为的一种人格。

典型例证：

(1)小肖敏感羞涩，害怕参加社交活动，担心自己的言行不当而被人讥笑讽刺，也从来不去做

那些冒险的事情。

(2)小吴经常无根据地夸大自己的成就和才干，认为自己应当被视作“特殊人才”，幻想自己

拥有比他人更多的智慧、聪明。

(。)小栾过分注意自己的行为是否正确、举止是否适当，往往用十全十美的高标准要求自己，

追求完美，同时又墨守陈规。

对上述典型例证与定义的关系判断正确的是()。

A. 例证(2)(1)(3)分别与定义③②①相符

C. 例证(1)(3)分别与定义①②相符

B. 例证(2)(3)分别与定义③①相符

D. 例证(1)(2)(3)分别与定义②①③相符

中共湖南省委组织部领导干部考试与测评中心命制 (第 18 页共 25 页)

三、类比推理。先给出一组或多组相关的词，要求在备选答案中找出与之在逻辑关系上最为

贴近、相似或匹配的词。

86. MTV：音乐电视 ()

A. APEC：世界贸易组织 B. MBA：美国全国篮球协会

C. BBS: 网络电子公告牌系统 D. CEO: 首席财务官

87. 怒发冲冠: 生气 ()

A. 歌舞升平: 快乐 B. 黯然神伤: 哭泣

C. 眉开眼笑: 高兴 D. 欢呼雀跃: 幸福

88. 卧薪尝胆: 勾践 ()

A. 望梅止渴: 曹操 B. 破釜沉舟: 刘邦

C. 负荆请罪: 伍子胥 D. 三顾茅庐: 项羽

89. 钱钟书: 《围城》 ()

A. 老舍: 《嘱咐》 B. 《爱尔克的灯光》: 巴金

C. 契诃夫: 《苦恼》 D. 欧·亨利: 《米龙老爹》

90. 法律: 政策: 规制 ()

A. 呼吸: 生命: 氧气 B. 跑步: 锻炼: 运动

C. 铁路: 公路: 驾驶 D. 分红: 收入: 购买

91. 熊猫: 哺乳动物: 恒温动物 ()

A. 教授: 知识分子: 高级教师 B. 鳄鱼: 爬行动物: 脊椎动物

C. 党员: 先进个人: 劳动模范 D. 3c. g-: 哺乳动物: 脊椎动物

92. 报纸: 书籍: 出版物 ()

A. 动物: 植物: 生物 B. 省: 直辖市: 国家

C. 京剧: 豫剧: 歌剧 D. 细菌: 动物: 微生物

93. ()对于山火相当于碘过量对于() ()

A. 森林盐 B. 雷电疾病 C. 火种污水 D. 干燥真菌

94. 农田对于()相当于股票对于() ()

- A. 粮食汇率 B. 土地资本 C. 农民债券 D. 种植城市

95. 励精图治对于()相当于()对于错失良机 ()

- A. 治国安民 时不再来 B. 横征暴敛 千钧一发
C. 国富民强 瞻前顾后 D. 兢兢业业 争分夺秒

四、逻辑判断。每题事先给出一段陈述，

从四个选项中选择 一个不需要任何附加说明、

假设该陈述是正确的、不容置疑的。请根据这段陈述，

可以从陈述中直接推出、符合题目要求的答案。

96. 在哺乳动物和鸟类中，性别是由受精卵的基因类型决定的。而这一过程会导致雄性和雌性数

中共湖南省委组织部领导干部考试与测评中心命题 (第 19 页共 25 页)

量大体相同。但是科学家发现，在爬行动物中性别是在卵产下之后决定的，取决于环境，最

重要的是温度。科学家研究了一种名为“杰克龙”的“短命蜥蜴”，它们的生命周期超不过 4

年。“杰克龙”能在低温(23 至 26 摄氏度)和高温(30 至 33 摄氏度)条件下从卵中孵化出

雌性，而在介于这两个温度之间的条件下孵化出雄性。

以下最能直接削弱上述结论的是()。

- A. 哺乳动物和鸟类的性别不是由受精卵所处的环境(最重要的是温度)决定的
B. 在哺乳动物和鸟类中，性别是由受精卵所处的环境决定的，最重要的是温度
C. 有些爬行动物的性别是由受精卵的基因类型决定的
D. 有些爬行动物的性别是在卵产下之后决定的，取决于环境，最重要的是温度

97. 哥本哈根气候大会达成了《哥本哈根协议》，但该协议未获全体通过，不具有决议同等约束性执

行效力。主要发达国家如美国、英国以及欧盟大部分国家都未明确表示未来碳排放的减排时间表。

对于发达国家而言，当下最为紧迫的任务仍然是尽快走出全球金融危机的阴影，因而不愿意为减

排而导致经济发展受阻。对于广大发展中国家来说，发达国家所要求的可监察的总量减排会限制

当事国经济发展，在未能得到充分的资金和减排技术援助之前，也不会做出妥协和让步。

这一事实表明()。

A. 发达国家与发展中国家对气候问题的看法不同

B. 发达国家已经基本渡过了资源高消耗、污染高排放阶段，进入了后工业化社会，对全球

气候问题影响不大

C. 哥本哈根气候大会不具有权威性，无法形成权威的法律性文件

D. 经济发展的不平衡和政治利益的冲突导致发达国家与发展中国家在碳减排上无法达成一致

98. 国家乒乓球队认为优秀的乒乓球队员应具备三个条件：第一，丰富的理论知识和超强应变能

力；第二，娴熟的技术；第三，坚强的意志。现有至少符合条件之一的甲、乙、丙、丁四位

优秀乒乓球队员报名参选，已知：①甲乙意志坚强程度相同；②乙丙理论水平和应变能力相

当；③丙丁并非都是知识丰富应变能力强的人；④四人中三人知识丰富应变能力强、两人意

志坚强、一人技术娴熟。

国家队经过考察，发现其中只有一人符合优秀乒乓球队员的全部条件，他是()。

A. 丁 B. 丙 C. 乙 D. 甲

99. 民间、媒体和学术界一直以来给“80后”狭义地贴上“家境殷实”、“独生子女”、“自私叛逆”、

“娇生惯养”，等标签，他们长期遭受怀疑、指责甚至批判。由于长期不能掌控话语权，加之成长

年代的变幻万端，他们被称作是“垮掉的一代”、“自私的一代”、“最没有责任心的一代”。针对

舆论的这些臆想，“80后”普遍对“标签”表现出不屑，因为“那根本是不负责任的无稽之谈”。

下列选项可以为“80后”对于这些标签看法提供支持的是()。

A. 80后承袭70年代，属过渡族群；又紧接90年代，因此较多地体现了媒介认为的众多“特

征”，而不是“80后”本身的性格特征

B. 据统计，“80后”，一代，城市独生子女不足1/3，农村不到10%，综合起来，全国近2

中共湖南省委组织部领导干部考试与测评中心命制 (第20页共25页)

亿“80后”，独生子女不到20%。而1980年至1985年出生的“80后”，直到上高中以前，绝大多数人的家境尚不富裕，农村更有相当的贫困现象；1985年后出生的，则贫富

差距开始拉大，仅在发达地区涌现出一批“富二代”

c. “80后”，身处我国变革的漩涡之中，缺少成长的土壤，面对前所未有的压力

D. 民间、媒体和学术界对“80后”的评价不客观，他们只看到了表面现象。年轻人的价值观和生活方式，被政治社会化的承担者视为问题，受到非难

100. 据史料记载，在二十四节气中的“春分”这天，蛋站立的稳定性最好。每年春分这天可以很

容易把鸡蛋立起来，因为春分的那一天太阳直射在赤道上，南北半球昼夜时间相同。4000年

前的中国就开始了“春分立蛋”的传统，当时是为了庆祝春天的来临。这一天，中国有些地

方会举行立蛋比赛。“春分到，蛋儿俏”的说法一直流传到现在。

最能支持以上传说的是()。

A. 立鸡蛋，蛋黄成分起了很大的作用，蛋黄的下沉会降低蛋的重心，加上蛋壳本身凹凸不

平，只要找到 3 个突出点，平衡后蛋就能够立起来了

B. 1985 年 3 月 21 日，美国阿拉斯加大学艺术系教授格雷和他的学生在一间房屋里，一共立

起来 204 个鸡蛋

C. 某市民在家中尝试取一只新鲜的鸡蛋，使其大头朝下，轻轻放在桌面上，仔细地寻找平

衡点，直到不倒才松手。立稳的鸡蛋在没有外界干扰的情况下，保持了十几天没倒

D. 某人将买回来放了 2 至 3 天的蛋煮熟后放在一个水平如镜的平面，集中精力，结果蛋立

起来了

101. 研究发现，太阳系比原先科学家测算的年龄还要大。科学家在摩洛哥一处沙漠地带发现了一

块 1.49 千克重的地外陨石。此后，科学家对这块陨石展开分析，发现陨石内残留有一种固态

矿物元素，这种矿物元素随恒星太阳的产生而产生。对这种矿物元素展开铅的同位素测定后

发现，这种矿物质元素形成于 44.5682 亿年前，因此这块陨石成为人类迄今发现的最古老陨

石。先前科学家也是依据陨石中这种矿物质元素的形成年代推测太阳系的年龄。科学家说，

这块陨石的发现使太阳系成形年代进一步向前推进了至少 30 万年，至多 190 万年。

根据以上陈述，下列说法不正确的是()。

- A. 科学家在摩洛哥沙漠地带发现的 1.49 千克重的地外陨石是迄今为止最古老陨石
- B. 陨石内残留的固态矿物元素是随恒星太阳的产生而产生
- C. 依据陨石中这种矿物质元素的形成年代推测太阳系的年龄的方法先前就有
- D. 科学家这次测定太阳系成形年代在距今 30 万年至 190 万年之间

102. 现在这里出现了一个已被纯粹理性批判证明，但是不能在经验上呈现出来的原因性概念，那就是

“自由”。如果能够找出理由证明，这个特性确实属于人类意志，那么这就不但指示出纯粹理性

能有实践力量，而且只有它才有绝对实践力量。而受经验所限制的理性，则并不如此。

该论断所默认的前提是()。

①纯粹理性和受经验制约的理性都能够决定意志

中共湖南省委组织部领导干部考试与测评中心命制 (第 21 页共 25 页)

②受经验所限制的理性不能证明“自由”的存在

③纯粹理性利“自由”在某种性质上是相同的

④“自由”概念具有实在性

- A. ①② B. ②③ C. ③ D. ①④

103. 与新疆的其他城市一样，库尔勒直至 20 世纪 80 年代初物价都是很低的。自它成为新疆的石

油开采中心以后，它的物价大幅上升。这种物价上涨可能来自这场石油经济，这是因为新疆

那些没有石油经济的城市仍然保持着很低的物价水平。

最准确地描述了上段论述中所采用的推理方法的是()。

- A. 鉴于条件不存在的时候现象没有发生，所以认为条件是现象的一个原因

- B. 鉴于有时条件不存在的条件下现象也会发生，所以认为条件不是现象的前提
- C. 由于某一特定事件在现象发生前没有出现，所以认为这一事件不可能引发现象
- D. 试图说明某种现象是不可能发生的，而某种解释正确就必须要求这种现象发生

104. 一个有趣的现象是，在虚构的、想象性的“纯文学”普遍遭受冷落的同时，却是大量的非虚

构文学、纪实文学或准纪实文学，以真实经验为基础的网络小说的持续走红。这至少部分地

说明，当代读者对远离现实与当下性的那一套美学成规或技术体系已经厌弃。其实，那些非

虚构的经验本身已经远比那些技巧“高明”的所谓“纯文学”更具有想象力，更有戏剧性与

当代的文学性，反倒是众多所谓纯文学表现出想象力的枯竭。当然，这些非虚构或纪实类的

作品还称不上是优秀的当代文学，因为它们还不能有效地给现实赋予形式感或将现实美学化，

只是诉诸无中介地呈现现实，因而它们受到欢迎，只能理解为是对“纯文学”失望之后的无

奈转移或替代。

能够从上述文字推出的一项是()。

- A. 当代文学所强调的是现实感、当下性与想象力
- B. 这些非虚构或纪实类文学的走红，说明了它们作为文学的成功
- C. “纯文学”遇冷，在某种程度上表现山当代读者审美能力的下降
- D. “纯文学”丧失号召力，说明了其成规的失败

105. 在某住宅小区的居民中，大多数中老年教员都办了人寿保险，所有买了四居室以上住房的居

民都办了财产保险，而所有办了人寿保险的都没办理财产保险。

如果上述断定是真的，以下关于该小区居民的断定正确的是()。

- ①有中老年教员买了四居室以上的住房
- ②有中老年教员没办理财产保险
- ③买了四居室以上住房的居民都没办理人寿保险

- A. ②③ B. ①② C. ①②③ D. ①③

第五部分资料分析

(共 15 题，参考时限 15 分钟)

中共湖南省委组织部领导干部考试与测评中心命制 (第 22 页共 25 页)

所给出的文字、表或图均有 5 个问题。请根据资料提供的信息进行分析、比较、计算和判断

处理。

一、根据下面的图表，回答 106~110 题。

每百万人从事研究与开发的研究人员及技术人员数

国家和地区	每百万人从事研究与开发的研究人员数			每百万人从事研究与开发的技术人员数		
	2005 年	2009 年	2012 年	2005 年	2009 年	2012 年
高收入国家	3326. 9	3658. 1	3778. 7			
中等收入国家	715. 8	680. 2	725. 1			
中国	445-2	545. 6	663. 1	201. 6		
中国香港	1054. 9	1164. 4	1563. 8	99. 6	207. 0	225. 2
中国澳门	27. 4	40. 6		13. 7	22. 5	
印度	156. 7	119. 1		114. 2	102. 0	
日本	4907. 0	5097. 6	5286. 9	666. 9	621. 5	527. 6
哈萨克斯坦	931. 0	599. 3	629. 2	96. 0	78. 7	91. 6
韩国	2189. 9	2316. 6	3186. 8	629. 9	453. 2	567. 3
马来西亚	90. 7	279-3	298. 6	31. 4	40. 0	57. 5
缅甸	7. 2	10. 8	17. 1	3. 1	47. 5	132. 9
菲律宾	156. 0		47. 6	21. 9		7. 9
新加坡	2538-3	4140. 2	4745. 2	370. 0	338. 5	381. 0
斯里兰卡	180. 8	127. 8		43. 7		

泰国	102. 3	285. 6	286. 9	39. 0	86. 8	208. 1
土耳其	283. 7	338. 3	341. 4	31. 9	34. 6	36. 5

106. 2009 年到 2012 年每百万人从事研究与开发的技术人员增长率最高的国家是()。

- A. 新加坡 B. 缅甸 C. 泰国 D. 韩国

107. 按照中等收入国家每百万人从事研究与开发的研究人员的变化规律来看, ()的变化与

此规律相同。

- A. 新加坡 B. 中国 C. 日本 D. 哈萨克斯坦

108. 根据图表, 2009 年研究人员和技术人员人数最多的国家是()。

- A. 新加坡 B. 缅甸 C. 泰国 D. 不能确定

109. 韩国在 2012 年每百万人从事研究与开发的研究人数比 2009 年增加了()。

- A. 37. 5696 B. 27. 31% C. 25. 17% D. 20. 11%

110. 下列说法正确的是()。

中共湖南省委组织部领导干部考试与测评中心命制 (第 23 页共 25 页)

- A. 2012 年韩国从事研究与开发的研究人员数多于中国
- B. 按照一般规律, 中国每百万人从事研究与开发的研究人员数应该小于技术人员数
- C. 2005—2009 年, 新加坡技术投入迅速增加
- D. 2009—2012 年每百万人从事研究与开发的研究人员数, 中国的增长率高于中国香港

二、根据下面文字资料, 回答 111~115 题。

据联合国人口基金预计: 如果出生率降到每位妇女平均生两个孩子, 到 2050 年世界人口将达

94 亿, 2200 年将达 110 亿。联合国人口基金报告预测了世界人口分布将发生变化, 因为生活在发

达地区人口所占的百分比将从 1995 年的 19% 降到 2150 年的 10%。1950 年欧洲人口增长速度比非

洲快一倍，但目前是世界上人口不增加的唯一地区，到 2150 年将只占非洲人口的 1 / 5，届时非洲

将有 28 亿人口。报告还预测了亚洲的人口增长。到 2150 年，中国将从 1995 年的 12 亿人增加到

16 亿人，印度从 9 亿增加到 17 亿，亚洲其他地区将从 13 亿增加到 28 亿。预计拉美人口将从 4.77

亿增加到 2150 年的 9.16 亿，北美从 2.97 亿增加到 4.14 亿，而大洋洲将从 2800 万增加到 5100 万。

世界人口中 15 岁以下的比例将从 1995 年的 31% 下降到 2150 年的 17%。相反，60 岁以上的比例

将从 1995 年的 9% 增加到 2150 年的 30.9%。

(老龄化的国际标准：当一个国家或地区 60 岁以上老年人口占人口总数的 10%，或 65 岁以

上老年人口占人口总数的 7%，即意味着这个国家或地区的人口处于老龄化社会。)

111. 下列说法正确的是()。

- A. 目前，发达地区的妇女生育子女数高于不发达地区
- B. 欧洲人口一直处于不断增长态势
- C. 印度的人口增长速度低于中国
- D. 随着时间的推移，世界老龄化程度将进一步加剧

112. 预计 2150 年世界上人口总数约为()亿。

- A. 90
- B. 100
- C. 110
- D. 115

113. 2150 年世界各地区人口数从多至少排列，处于第三位的大洲是()。

- A. 亚洲
- B. 美洲
- C. 非洲
- D. 欧洲

114. 1995 年世界上 15~60 岁人口数约为同期发达地区人口的()。

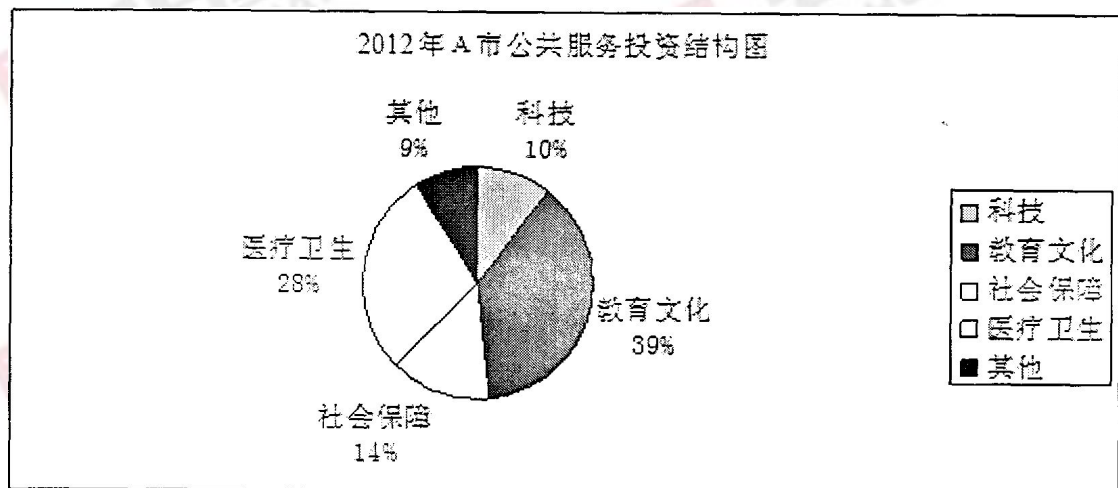
- A. 2 倍 B. 3 倍 C. 4 倍 D. 5 倍

115. 由以上材料可以得出()。

- A. 一般来说, 经济发展水平高的地区人口的增长幅度高于经济发展水平低的地区
B. 非洲的人口增长速度低于亚洲
C. 2150 年亚洲人口高于世界人口总量的 1/2
D. 发达地区的老龄化程度高于不发达地区

中共湖南省委组织部领导干部考试与测评中心命制 (第 24 页共 25 页)

三、根据下面的图表资料, 回答 116~120 题。



116. 教育文化投入约是社会保障的()倍。

- A. 2 B. 2.1 C. 2.8 D. 3.1

117. 该市教育文化投入是: 3200 万元, 那么该市公共服务投资约是()万元。

- A. 7860 B. 7920 C. 8205 D. 8660

118. 根据上题公共服务投资总额, 该市这年的社会保障投入约是()万元。

- A. 1149 B. 1245 C. 1380 D. 1672

119. 根据 117 题, 2011 年该市的教育文化投入是 2772 万元, 占当年该市公共服务投资总

额的 33%，

那么 2011 年该市公共服务投资总额与 2012 年该市公共服务投资总额之比约为()。

- A. 1.0 B. 1.2 C. 1.5 D. 2.1

120. 根据上图，下列说法错误的是()。

- A. 教育文化占公共服务投资比重比医疗卫生所占比重多 11%
B. 医疗卫生投入是科技投入的 2.8 倍
C. 科技投入和医疗卫生投入之和小于教育文化投入
D. 教育文化投入和医疗卫生投入的绝对值无法比较

中共湖南省委组织部领导干部考试与测评中心命制 (第 25 页共 25 页)